


# Sumar Cartas de Baraja (A)

Halle la suma de cada conjunto de cartas.



# Sumar Cartas de Baraja (A) Answers


Halle la suma de cada conjunto de cartas.



20



27



26



14



25



19



22



13



19



29



7



19

# Sumar Cartas de Baraja (B)

Halle la suma de cada conjunto de cartas.



# Sumar Cartas de Baraja (B) Answers

Halle la suma de cada conjunto de cartas.



16



11



19



15



25



32



29



26



31



26



31



25

# Sumar Cartas de Baraja (C)

Halle la suma de cada conjunto de cartas.

9♣ 6♣ 8♣

4♣ 8♠ J♦

K♣ 3♠ 8♠

J♦ 8♣ 6♥

J♥ 7♠ 6♦

Q♠ 10♦ 10♠

A♥ 8♦ 2♠

Q♥ 9♣ 2♦

7♣ Q♠ 8♥

10♥ A♦ 10♠

5♠ 9♦ 5♥

10♣ 9♠ 7♣

# Sumar Cartas de Baraja (C) Answers


Halle la suma de cada conjunto de cartas.



23



23



24



25



24



32



11



23



27



21



19



26

# Sumar Cartas de Baraja (D)

Halle la suma de cada conjunto de cartas.



# Sumar Cartas de Baraja (D) Answers

Halle la suma de cada conjunto de cartas.



20



27



19



25



10



19



27



23




13



12



24



17



# Sumar Cartas de Baraja (E)

Halle la suma de cada conjunto de cartas.



# Sumar Cartas de Baraja (E) Answers

Halle la suma de cada conjunto de cartas.



14



34



16



22



21



19



23



17



27



22



30



12

# Sumar Cartas de Baraja (F)

Halle la suma de cada conjunto de cartas.



# Sumar Cartas de Baraja (F) Answers

Halle la suma de cada conjunto de cartas.



20



20



19



16



27



13



24



21



22



9



29



28

# Sumar Cartas de Baraja (G)

Halle la suma de cada conjunto de cartas.

4♥ 3♥ 8♣

8♠ 10♠ 9♣ 6♣

8♦ 6♦ 7♠

6♣ K♣ Q♣

K♥ K♣ Q♦

5♥ 3♥ J♦

3♠ 4♦ 5♠

Q♦ 3♠ 5♣

2♠ 4♣ 7♦

K♦ 5♠ 10♣

K♣ 6♦ 6♠

7♣ 7♠ 5♣

# Sumar Cartas de Baraja (G) Answers

Halle la suma de cada conjunto de cartas.



15



27



21



31



38



19



12



20



13



28



25



19

# Sumar Cartas de Baraja (H)

Halle la suma de cada conjunto de cartas.



# Sumar Cartas de Baraja (H) Answers

Halle la suma de cada conjunto de cartas.



16



17



13




11



19



12



24



8



27



20



28



21




# Sumar Cartas de Baraja (I)

Halle la suma de cada conjunto de cartas.



# Sumar Cartas de Baraja (I) Answers

Halle la suma de cada conjunto de cartas.



23



25



37



15



21



27



21



21



18



21




14



28

# Sumar Cartas de Baraja (J)

Halle la suma de cada conjunto de cartas.



# Sumar Cartas de Baraja (J) Answers

Halle la suma de cada conjunto de cartas.



18



26




15



26



21



21



22



24



7



29



23



15