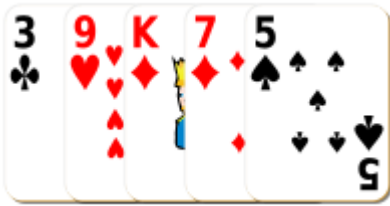
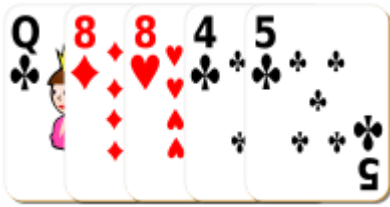


# Sumar Cartas de Baraja (A)

Halle la suma de cada conjunto de cartas.



# Sumar Cartas de Baraja (A) Answers

Halle la suma de cada conjunto de cartas.



37



29



37



29



36



33



33



28



39



35




22



23

# Sumar Cartas de Baraja (B)

Halle la suma de cada conjunto de cartas.



# Sumar Cartas de Baraja (B) Answers

Halle la suma de cada conjunto de cartas.



29



32



46



32



41



31



43



24



40



34



39



53

# Sumar Cartas de Baraja (C)

Halle la suma de cada conjunto de cartas.




# Sumar Cartas de Baraja (C) Answers

Halle la suma de cada conjunto de cartas.



36



25



40



33



51



33



37



44



31



37



47



21

# Sumar Cartas de Baraja (D)

Halle la suma de cada conjunto de cartas.



# Sumar Cartas de Baraja (D) Answers

Halle la suma de cada conjunto de cartas.



44



28



28



39



40



35



33



31



56



22



41




30



# Sumar Cartas de Baraja (E)

Halle la suma de cada conjunto de cartas.



# Sumar Cartas de Baraja (E) Answers

Halle la suma de cada conjunto de cartas.



38



31



33



28



35



32



24



29



17



39



44



47

# Sumar Cartas de Baraja (F)

Halle la suma de cada conjunto de cartas.



# Sumar Cartas de Baraja (F) Answers

Halle la suma de cada conjunto de cartas.



44



46



22



36



41



34



26



28



36



19



14



40

# Sumar Cartas de Baraja (G)

Halle la suma de cada conjunto de cartas.



# Sumar Cartas de Baraja (G) Answers

Halle la suma de cada conjunto de cartas.



45



35



27



42



35



19



45



37



32



36



15



55

# Sumar Cartas de Baraja (H)

Halle la suma de cada conjunto de cartas.



# Sumar Cartas de Baraja (H) Answers

Halle la suma de cada conjunto de cartas.



22



35



43



29



37



40



41



38



37



19



37

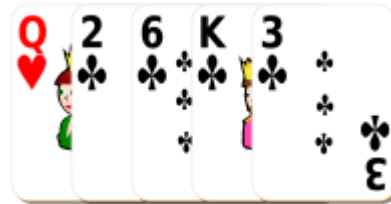


41



# Sumar Cartas de Baraja (I)

Halle la suma de cada conjunto de cartas.



# Sumar Cartas de Baraja (I) Answers

Halle la suma de cada conjunto de cartas.



40



21



33



38




41



36



40



26



29



47



35



41

# Sumar Cartas de Baraja (J)

Halle la suma de cada conjunto de cartas.



# Sumar Cartas de Baraja (J) Answers

Halle la suma de cada conjunto de cartas.



35



40



36



37



24



42



34



16



38



26



30



38