

# Sumar Cartas de Baraja (A)

Halle la suma de cada conjunto de cartas.



# Sumar Cartas de Baraja (A) Answers

Halle la suma de cada conjunto de cartas.



38



27



15



38



37



37



36



47



56



42



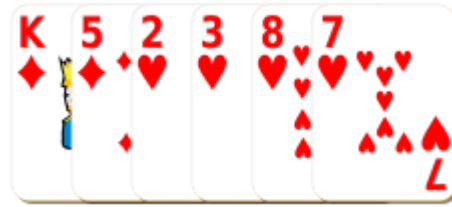
35



40

# Sumar Cartas de Baraja (B)

Halle la suma de cada conjunto de cartas.



# Sumar Cartas de Baraja (B) Answers

Halle la suma de cada conjunto de cartas.



30



38



37



37



30



40



41



31



39



45



57



43

# Sumar Cartas de Baraja (C)

Halle la suma de cada conjunto de cartas.



# Sumar Cartas de Baraja (C) Answers

Halle la suma de cada conjunto de cartas.



38



46



48




32



40



51



40



38



55



24



39



36

# Sumar Cartas de Baraja (D)

Halle la suma de cada conjunto de cartas.



# Sumar Cartas de Baraja (D) Answers

Halle la suma de cada conjunto de cartas.



27



36



47



55



30



39



41



42



36



18



52

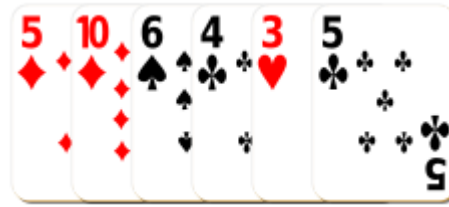


38



# Sumar Cartas de Baraja (E)

Halle la suma de cada conjunto de cartas.




# Sumar Cartas de Baraja (E) Answers

Halle la suma de cada conjunto de cartas.



42



33



37



41



49




38



50



42



45



26




36



56

# Sumar Cartas de Baraja (F)

Halle la suma de cada conjunto de cartas.



# Sumar Cartas de Baraja (F) Answers

Halle la suma de cada conjunto de cartas.



42



31



42



46



49



49



38



45



43



33



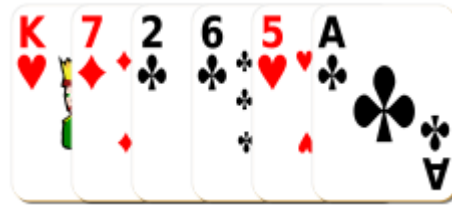
52



48

# Sumar Cartas de Baraja (G)

Halle la suma de cada conjunto de cartas.



# Sumar Cartas de Baraja (G) Answers

Halle la suma de cada conjunto de cartas.



29



36



28



34



32



53



36



35



40



33



52



34

# Sumar Cartas de Baraja (H)

Halle la suma de cada conjunto de cartas.



# Sumar Cartas de Baraja (H) Answers

Halle la suma de cada conjunto de cartas.



34



39



38



48



36



48



33



49



38



45



35



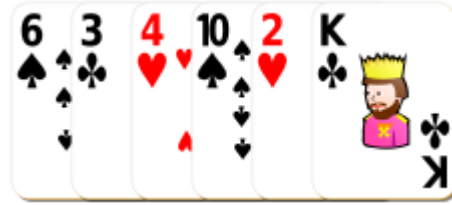
29



# Sumar Cartas de Baraja (I)

Halle la suma de cada conjunto de cartas.













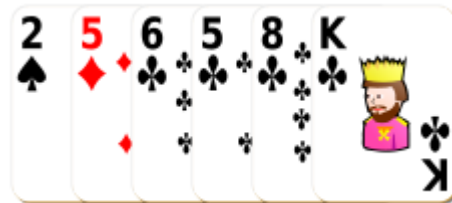












# Sumar Cartas de Baraja (I) Answers

Halle la suma de cada conjunto de cartas.



41



38



48



37



46



41



42



47



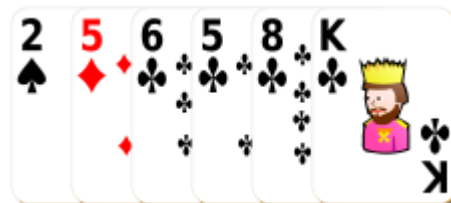
38



34



32



39

# Sumar Cartas de Baraja (J)

Halle la suma de cada conjunto de cartas.













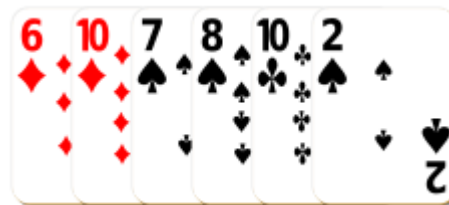












# Sumar Cartas de Baraja (J) Answers

Halle la suma de cada conjunto de cartas.



47



35



28



42



47



35



37



53



46



45



36



43