

# Sumar Cartas de Baraja (A)

Halle la suma de cada conjunto de cartas.

























# Sumar Cartas de Baraja (A) Answers

Halle la suma de cada conjunto de cartas.



64



59



47



60



59



57



58



66



52



57




44



42

# Sumar Cartas de Baraja (B)

Halle la suma de cada conjunto de cartas.



# Sumar Cartas de Baraja (B) Answers

Halle la suma de cada conjunto de cartas.



64



63



42



72



60



49




69



62



65



48



31



43

# Sumar Cartas de Baraja (C)

Halle la suma de cada conjunto de cartas.



# Sumar Cartas de Baraja (C) Answers

Halle la suma de cada conjunto de cartas.



62



54



59



46



40



59



56



68



44



68



72



43



# Sumar Cartas de Baraja (D)

Halle la suma de cada conjunto de cartas.



# Sumar Cartas de Baraja (D) Answers

Halle la suma de cada conjunto de cartas.



73



47



68



75



35



47



64



57



67



64



54

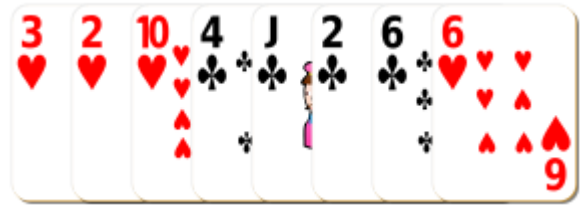


48



# Sumar Cartas de Baraja (E)

Halle la suma de cada conjunto de cartas.

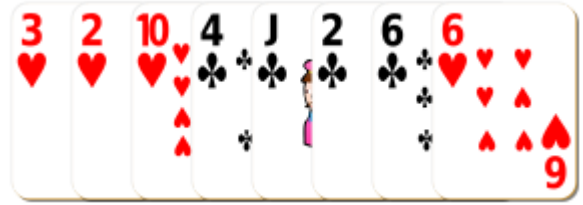


# Sumar Cartas de Baraja (E) Answers

Halle la suma de cada conjunto de cartas.



63



44



52



40



59



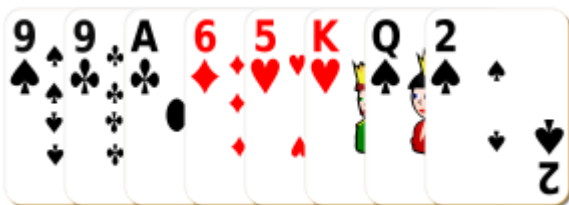
51



58



64



57



49



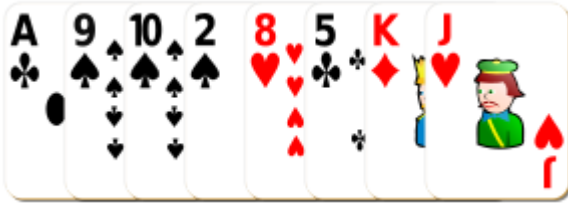
52



59

# Sumar Cartas de Baraja (F)

Halle la suma de cada conjunto de cartas.





















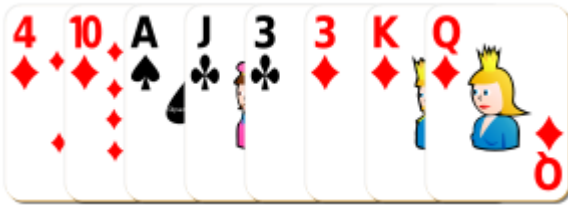






# Sumar Cartas de Baraja (G)

Halle la suma de cada conjunto de cartas.



# Sumar Cartas de Baraja (G) Answers

Halle la suma de cada conjunto de cartas.



57



59



62



62



54



63



61




52



55



42



63



65



# Sumar Cartas de Baraja (H)

Halle la suma de cada conjunto de cartas.



# Sumar Cartas de Baraja (H) Answers

Halle la suma de cada conjunto de cartas.



38



45



35



60



55



52



65



52



66



48



46



47

# Sumar Cartas de Baraja (I)

Halle la suma de cada conjunto de cartas.

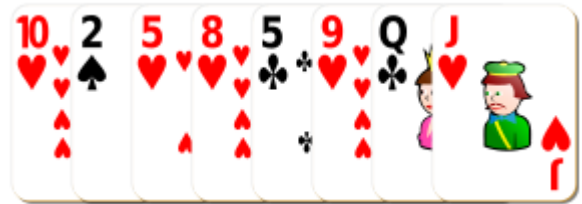
























# Sumar Cartas de Baraja (I) Answers

Halle la suma de cada conjunto de cartas.



61



63



46



56



39



62



60



49



49



46



43



67

# Sumar Cartas de Baraja (J)

Halle la suma de cada conjunto de cartas.



# Sumar Cartas de Baraja (J) Answers

Halle la suma de cada conjunto de cartas.



61



56



71



42



54



70



61



68



58



66



61



51