

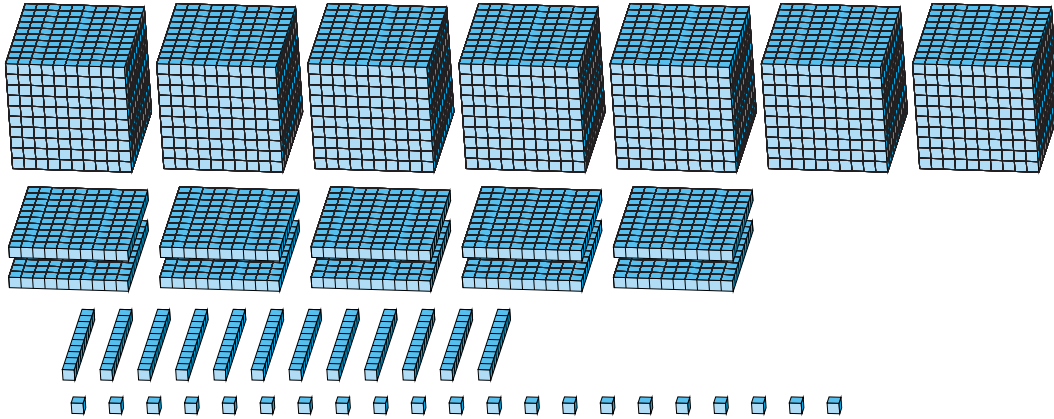
# Reagrupar Bloques Base Diez (D)

Nombre: \_\_\_\_\_

Fecha: \_\_\_\_\_

¿Qué número se muestra en cada grupo de bloques base diez?

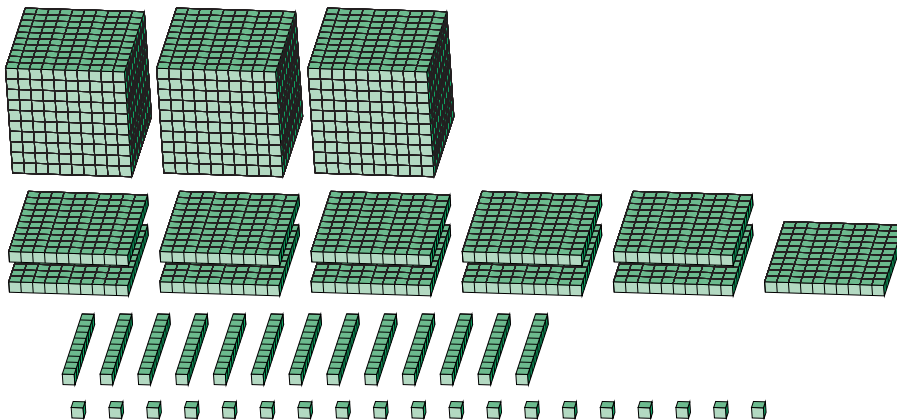
1.



Forma Expandida

Forma Estándar

2.



Forma Expandida

Forma Estándar

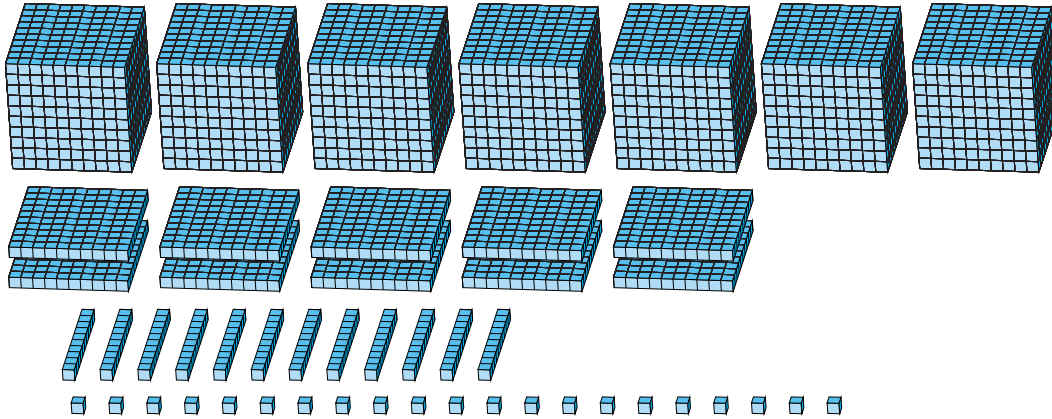
# Reagrupar Bloques Base Diez (D) Respuestas

Nombre: \_\_\_\_\_

Fecha: \_\_\_\_\_

¿Qué número se muestra en cada grupo de bloques base diez?

1.



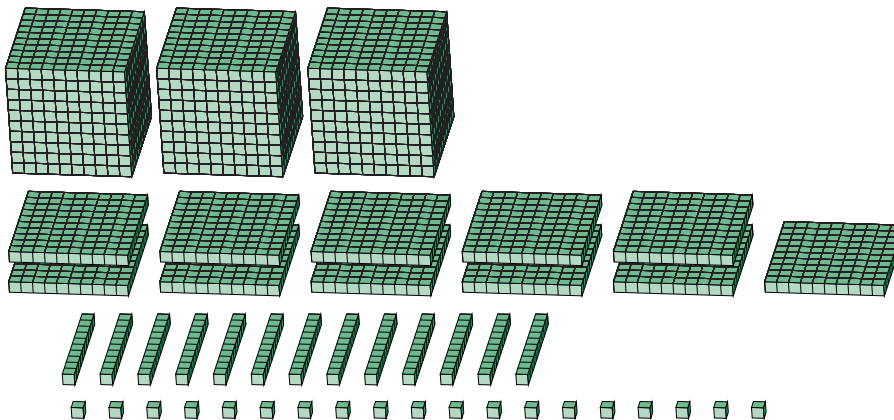
Forma Expandida

Forma Estándar

$$\begin{aligned}
 &(7 \times 1000) + (10 \times 100) + (12 \times 10) + (21 \times 1) \\
 &(8 \times 1000) + (1 \times 100) + (4 \times 10) + (1 \times 1) \\
 &8000 + 100 + 40 + 1
 \end{aligned}$$

8141

2.



Forma Expandida

Forma Estándar

$$\begin{aligned}
 &(3 \times 1000) + (11 \times 100) + (13 \times 10) + (19 \times 1) \\
 &(4 \times 1000) + (2 \times 100) + (4 \times 10) + (9 \times 1) \\
 &4000 + 200 + 40 + 9
 \end{aligned}$$

4249