

CONTAR EN HALLOWEEN (1)


Nombre: _____

Fecha: _____

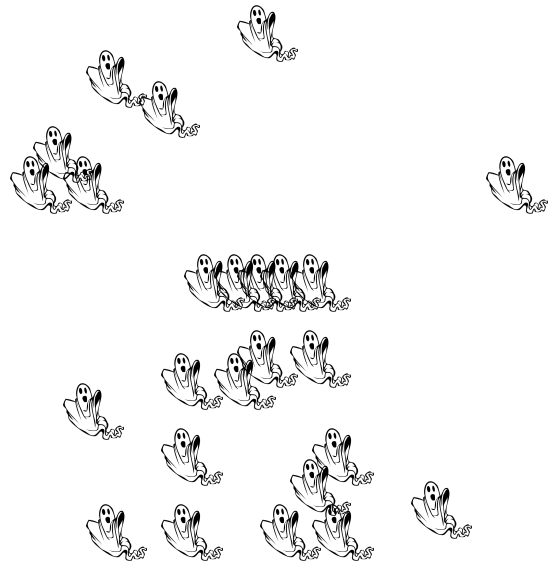
Puntuación: _____ /4

¡Si os atrevéis, contad la cantidad de objetos en cada grupo!

1. Hay brujas.



2. Hay fantasmas.



3. Hay murciélagos.



4. Hay cabezas de calabaza.



CONTAR EN HALLOWEEN (1) RESPUESTAS


Nombre: _____

Fecha: _____

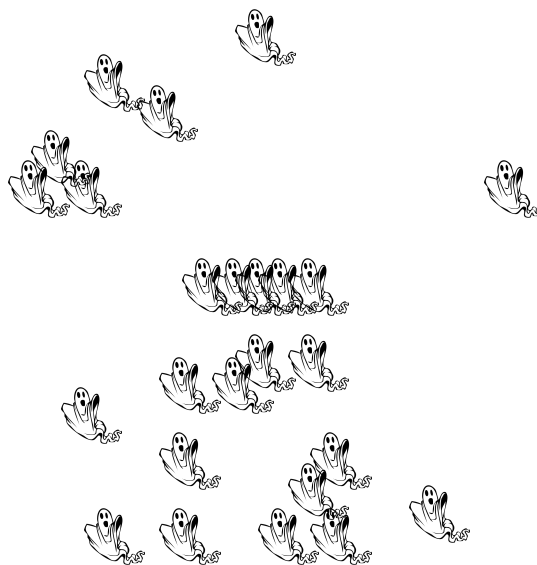
Puntuación: _____ /4

¡Si os atrevéis, contad la cantidad de objetos en cada grupo!

1. Hay brujas.



2. Hay fantasmas.



3. Hay murciélagos.



4. Hay cabezas de calabaza.

