

DIGITOS FANTASMAS, DIVISION (A)

Nombre: _____

Fecha: _____

Puntuación: _____

Reemplace los dígitos que han desaparecido misteriosamente.

1.
$$\begin{array}{r} 7 \\ \square \) 21 \end{array}$$



2.
$$\begin{array}{r} 9 \\ 1 \square \) 99 \end{array}$$



3.
$$\begin{array}{r} 4 \\ \square \) 24 \end{array}$$



4.
$$\begin{array}{r} 10 \\ \square \) 50 \end{array}$$



5.
$$\begin{array}{r} \square \\ 2 \) 6 \end{array}$$



6.
$$\begin{array}{r} \square \\ 2 \) 14 \end{array}$$



7.
$$\begin{array}{r} 3 \\ 3 \) \square \end{array}$$



8.
$$\begin{array}{r} 10 \\ 9 \) 9\square \end{array}$$



9.
$$\begin{array}{r} 3 \\ 10 \) 3\square \end{array}$$



10.
$$\begin{array}{r} 10 \\ 11 \) \square 1 \square \end{array}$$



11.
$$\begin{array}{r} \square \\ 11 \) 88 \end{array}$$



12.
$$\begin{array}{r} 9 \\ \square \) 45 \end{array}$$



13.
$$\begin{array}{r} 8 \\ 11 \) 8\square \end{array}$$



14.
$$\begin{array}{r} 9 \\ \square \) 72 \end{array}$$



15.
$$\begin{array}{r} 8 \\ \square \) 48 \end{array}$$



16.
$$\begin{array}{r} \square \\ 5 \) 35 \end{array}$$



17.
$$\begin{array}{r} \square \\ 8 \) 24 \end{array}$$



18.
$$\begin{array}{r} \square \\ 6 \) 24 \end{array}$$



19.
$$\begin{array}{r} 12 \\ 9 \) \square 0 \square \end{array}$$



20.
$$\begin{array}{r} 1\square \\ 12 \) \square 44 \end{array}$$



DIGITOS FANTASMAS, DIVISION (A) RESPUESTAS

Nombre: _____

Fecha: _____

Puntuación: _____

Reemplace los dígitos que han desaparecido misteriosamente.

1.
$$\begin{array}{r} 7 \\ 3 \overline{) 21} \end{array}$$



2.
$$\begin{array}{r} 9 \\ 1 \overline{) 99} \end{array}$$



3.
$$\begin{array}{r} 4 \\ 6 \overline{) 24} \end{array}$$



4.
$$\begin{array}{r} 10 \\ 5 \overline{) 50} \end{array}$$



5.
$$\begin{array}{r} 3 \\ 2 \overline{) 6} \end{array}$$



6.
$$\begin{array}{r} 7 \\ 2 \overline{) 14} \end{array}$$



7.
$$\begin{array}{r} 3 \\ 3 \overline{) 9} \end{array}$$



8.
$$\begin{array}{r} 10 \\ 9 \overline{) 90} \end{array}$$



9.
$$\begin{array}{r} 3 \\ 10 \overline{) 30} \end{array}$$



10.
$$\begin{array}{r} 10 \\ 11 \overline{) 110} \end{array}$$



11.
$$\begin{array}{r} 8 \\ 11 \overline{) 88} \end{array}$$



12.
$$\begin{array}{r} 9 \\ 5 \overline{) 45} \end{array}$$



13.
$$\begin{array}{r} 8 \\ 11 \overline{) 88} \end{array}$$



14.
$$\begin{array}{r} 9 \\ 8 \overline{) 72} \end{array}$$



15.
$$\begin{array}{r} 8 \\ 6 \overline{) 48} \end{array}$$



16.
$$\begin{array}{r} 7 \\ 5 \overline{) 35} \end{array}$$



17.
$$\begin{array}{r} 3 \\ 8 \overline{) 24} \end{array}$$



18.
$$\begin{array}{r} 4 \\ 6 \overline{) 24} \end{array}$$



19.
$$\begin{array}{r} 12 \\ 9 \overline{) 108} \end{array}$$



20.
$$\begin{array}{r} 12 \\ 12 \overline{) 144} \end{array}$$



DIGITOS FANTASMAS, DIVISION (B)

Nombre: _____

Fecha: _____

Puntuación: _____

Reemplace los dígitos que han desaparecido misteriosamente.

1.
$$\begin{array}{r} \square \\ 12 \overline{)48} \end{array}$$



2.
$$\begin{array}{r} \square \\ 10 \overline{)60} \end{array}$$



3.
$$\begin{array}{r} 1\square \\ 4 \overline{)44} \end{array}$$



4.
$$\begin{array}{r} \square \\ 7 \overline{)49} \end{array}$$



5.
$$\begin{array}{r} 1\square \\ 5 \overline{)55} \end{array}$$



6.
$$\begin{array}{r} 12 \\ 3 \overline{)3\square} \end{array}$$



7.
$$\begin{array}{r} 11 \\ 1\square \overline{)\square 21} \end{array}$$



8.
$$\begin{array}{r} \square \\ 10 \overline{)50} \end{array}$$



9.
$$\begin{array}{r} 3 \\ 5 \overline{)1\square} \end{array}$$



10.
$$\begin{array}{r} 7 \\ \square \overline{)21} \end{array}$$



11.
$$\begin{array}{r} 4 \\ 9 \overline{)3\square} \end{array}$$



12.
$$\begin{array}{r} 1\square \\ 8 \overline{)80} \end{array}$$



13.
$$\begin{array}{r} 11 \\ 4 \overline{)4\square} \end{array}$$



14.
$$\begin{array}{r} \square \\ 9 \overline{)18} \end{array}$$



15.
$$\begin{array}{r} \square \\ 3 \overline{)12} \end{array}$$



16.
$$\begin{array}{r} 1\square \\ 12 \overline{)\square 32} \end{array}$$



17.
$$\begin{array}{r} 12 \\ \square \overline{)96} \end{array}$$



18.
$$\begin{array}{r} 6 \\ 5 \overline{)3\square} \end{array}$$



19.
$$\begin{array}{r} 4 \\ 2 \overline{)\square} \end{array}$$



20.
$$\begin{array}{r} \square \\ 8 \overline{)48} \end{array}$$



DIGITOS FANTASMAS, DIVISION (B) RESPUESTAS


Nombre: _____

Fecha: _____

Puntuación: _____

Reemplace los dígitos que han desaparecido misteriosamente.

1.
$$\begin{array}{r} 4 \\ 12 \overline{)48} \end{array}$$



2.
$$\begin{array}{r} 6 \\ 10 \overline{)60} \end{array}$$



3.
$$\begin{array}{r} 11 \\ 4 \overline{)44} \end{array}$$



4.
$$\begin{array}{r} 7 \\ 7 \overline{)49} \end{array}$$



5.
$$\begin{array}{r} 11 \\ 5 \overline{)55} \end{array}$$



6.
$$\begin{array}{r} 12 \\ 3 \overline{)36} \end{array}$$



7.
$$\begin{array}{r} 11 \\ 11 \overline{)121} \end{array}$$



8.
$$\begin{array}{r} 5 \\ 10 \overline{)50} \end{array}$$



9.
$$\begin{array}{r} 3 \\ 5 \overline{)15} \end{array}$$



10.
$$\begin{array}{r} 7 \\ 3 \overline{)21} \end{array}$$



11.
$$\begin{array}{r} 4 \\ 9 \overline{)36} \end{array}$$



12.
$$\begin{array}{r} 10 \\ 8 \overline{)80} \end{array}$$



13.
$$\begin{array}{r} 11 \\ 4 \overline{)44} \end{array}$$



14.
$$\begin{array}{r} 2 \\ 9 \overline{)18} \end{array}$$



15.
$$\begin{array}{r} 4 \\ 3 \overline{)12} \end{array}$$



16.
$$\begin{array}{r} 11 \\ 12 \overline{)132} \end{array}$$



17.
$$\begin{array}{r} 12 \\ 8 \overline{)96} \end{array}$$



18.
$$\begin{array}{r} 6 \\ 5 \overline{)30} \end{array}$$



19.
$$\begin{array}{r} 4 \\ 2 \overline{)8} \end{array}$$



20.
$$\begin{array}{r} 6 \\ 8 \overline{)48} \end{array}$$



DIGITOS FANTASMAS, DIVISION (C)


Nombre: _____

Fecha: _____

Puntuación: _____

Reemplace los dígitos que han desaparecido misteriosamente.

1.
$$\begin{array}{r} 11 \\ 6 \overline{) 6 \square} \end{array}$$



2.
$$\begin{array}{r} 5 \\ \square \overline{) 35} \end{array}$$



3.
$$\begin{array}{r} 10 \\ 4 \overline{) 4 \square} \end{array}$$



4.
$$\begin{array}{r} 1 \square \\ 5 \overline{) 55} \end{array}$$



5.
$$\begin{array}{r} \square \\ 12 \overline{) 60} \end{array}$$



6.
$$\begin{array}{r} 9 \\ 5 \overline{) 4 \square} \end{array}$$



7.
$$\begin{array}{r} 10 \\ \square \overline{) 70} \end{array}$$



8.
$$\begin{array}{r} 5 \\ 3 \overline{) 1 \square} \end{array}$$



9.
$$\begin{array}{r} 12 \\ \square \overline{) \square 08} \end{array}$$



10.
$$\begin{array}{r} 1 \square \\ 12 \overline{) \square 32} \end{array}$$



11.
$$\begin{array}{r} \square \\ 12 \overline{) 96} \end{array}$$



12.
$$\begin{array}{r} 7 \\ 11 \overline{) 7 \square} \end{array}$$



13.
$$\begin{array}{r} \square \\ 12 \overline{) 84} \end{array}$$



14.
$$\begin{array}{r} 2 \\ \square \overline{) 4} \end{array}$$



15.
$$\begin{array}{r} \square \\ 12 \overline{) 84} \end{array}$$



16.
$$\begin{array}{r} 1 \square \\ 7 \overline{) 70} \end{array}$$



17.
$$\begin{array}{r} 7 \\ 9 \overline{) 6 \square} \end{array}$$



18.
$$\begin{array}{r} 4 \\ 2 \overline{) \square} \end{array}$$



19.
$$\begin{array}{r} 9 \\ \square \overline{) 54} \end{array}$$



20.
$$\begin{array}{r} \square \\ 5 \overline{) 15} \end{array}$$



DIGITOS FANTASMAS, DIVISION (C) RESPUESTAS

Nombre: _____

Fecha: _____

Puntuación: _____

Reemplace los dígitos que han desaparecido misteriosamente.

1.
$$\begin{array}{r} 11 \\ 6 \overline{) 66} \end{array}$$



2.
$$\begin{array}{r} 5 \\ 7 \overline{) 35} \end{array}$$



3.
$$\begin{array}{r} 10 \\ 4 \overline{) 40} \end{array}$$



4.
$$\begin{array}{r} 11 \\ 5 \overline{) 55} \end{array}$$



5.
$$\begin{array}{r} 5 \\ 12 \overline{) 60} \end{array}$$



6.
$$\begin{array}{r} 9 \\ 5 \overline{) 45} \end{array}$$



7.
$$\begin{array}{r} 10 \\ 7 \overline{) 70} \end{array}$$



8.
$$\begin{array}{r} 5 \\ 3 \overline{) 15} \end{array}$$



9.
$$\begin{array}{r} 12 \\ 9 \overline{) 108} \end{array}$$



10.
$$\begin{array}{r} 11 \\ 12 \overline{) 132} \end{array}$$



11.
$$\begin{array}{r} 8 \\ 12 \overline{) 96} \end{array}$$



12.
$$\begin{array}{r} 7 \\ 11 \overline{) 77} \end{array}$$



13.
$$\begin{array}{r} 7 \\ 12 \overline{) 84} \end{array}$$



14.
$$\begin{array}{r} 2 \\ 2 \overline{) 4} \end{array}$$



15.
$$\begin{array}{r} 7 \\ 12 \overline{) 84} \end{array}$$



16.
$$\begin{array}{r} 10 \\ 7 \overline{) 70} \end{array}$$



17.
$$\begin{array}{r} 7 \\ 9 \overline{) 63} \end{array}$$



18.
$$\begin{array}{r} 4 \\ 2 \overline{) 8} \end{array}$$



19.
$$\begin{array}{r} 9 \\ 6 \overline{) 54} \end{array}$$



20.
$$\begin{array}{r} 3 \\ 5 \overline{) 15} \end{array}$$



DIGITOS FANTASMAS, DIVISION (D)

Nombre: _____

Fecha: _____

Puntuación: _____

Reemplace los dígitos que han desaparecido misteriosamente.

1.
$$\begin{array}{r} 5 \\ \square \overline{) 30} \end{array}$$



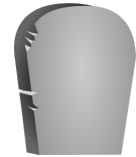
2.
$$\begin{array}{r} 12 \\ 12 \overline{) \square 4 \square} \end{array}$$



3.
$$\begin{array}{r} 2 \\ 8 \overline{) 1 \square} \end{array}$$



4.
$$\begin{array}{r} 4 \\ \square \overline{) 8} \end{array}$$



5.
$$\begin{array}{r} 12 \\ 12 \overline{) \square 4 \square} \end{array}$$



6.
$$\begin{array}{r} 1 \square \\ 4 \overline{) 48} \end{array}$$



7.
$$\begin{array}{r} \square \\ 5 \overline{) 35} \end{array}$$



8.
$$\begin{array}{r} 6 \\ \square \overline{) 54} \end{array}$$



9.
$$\begin{array}{r} \square \\ 8 \overline{) 40} \end{array}$$



10.
$$\begin{array}{r} 11 \\ 8 \overline{) 8 \square} \end{array}$$



11.
$$\begin{array}{r} 6 \\ \square \overline{) 24} \end{array}$$



12.
$$\begin{array}{r} 6 \\ 4 \overline{) 2 \square} \end{array}$$



13.
$$\begin{array}{r} 8 \\ \square \overline{) 24} \end{array}$$



14.
$$\begin{array}{r} 6 \\ 12 \overline{) 7 \square} \end{array}$$



15.
$$\begin{array}{r} \square \\ 12 \overline{) \square 08} \end{array}$$



16.
$$\begin{array}{r} 2 \\ 11 \overline{) 2 \square} \end{array}$$



17.
$$\begin{array}{r} 4 \\ 3 \overline{) 1 \square} \end{array}$$



18.
$$\begin{array}{r} 10 \\ 6 \overline{) 6 \square} \end{array}$$



19.
$$\begin{array}{r} \square \\ 11 \overline{) 33} \end{array}$$



20.
$$\begin{array}{r} 12 \\ \square \overline{) 84} \end{array}$$



DIGITOS FANTASMAS, DIVISION (D) RESPUESTAS

Nombre: _____

Fecha: _____

Puntuación: _____

Reemplace los dígitos que han desaparecido misteriosamente.

1.
$$\begin{array}{r} 5 \\ 6 \overline{) 30} \end{array}$$



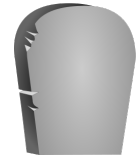
2.
$$\begin{array}{r} 12 \\ 12 \overline{) 144} \end{array}$$



3.
$$\begin{array}{r} 2 \\ 8 \overline{) 16} \end{array}$$



4.
$$\begin{array}{r} 4 \\ 2 \overline{) 8} \end{array}$$



5.
$$\begin{array}{r} 12 \\ 12 \overline{) 144} \end{array}$$



6.
$$\begin{array}{r} 12 \\ 4 \overline{) 48} \end{array}$$



7.
$$\begin{array}{r} 7 \\ 5 \overline{) 35} \end{array}$$



8.
$$\begin{array}{r} 6 \\ 9 \overline{) 54} \end{array}$$



9.
$$\begin{array}{r} 5 \\ 8 \overline{) 40} \end{array}$$



10.
$$\begin{array}{r} 11 \\ 8 \overline{) 88} \end{array}$$



11.
$$\begin{array}{r} 6 \\ 4 \overline{) 24} \end{array}$$



12.
$$\begin{array}{r} 6 \\ 4 \overline{) 24} \end{array}$$



13.
$$\begin{array}{r} 8 \\ 3 \overline{) 24} \end{array}$$



14.
$$\begin{array}{r} 6 \\ 12 \overline{) 72} \end{array}$$



15.
$$\begin{array}{r} 9 \\ 12 \overline{) 108} \end{array}$$



16.
$$\begin{array}{r} 2 \\ 11 \overline{) 22} \end{array}$$



17.
$$\begin{array}{r} 4 \\ 3 \overline{) 12} \end{array}$$



18.
$$\begin{array}{r} 10 \\ 6 \overline{) 60} \end{array}$$



19.
$$\begin{array}{r} 3 \\ 11 \overline{) 33} \end{array}$$



20.
$$\begin{array}{r} 12 \\ 7 \overline{) 84} \end{array}$$



DIGITOS FANTASMAS, DIVISION (E)

Nombre: _____

Fecha: _____

Puntuación: _____

Reemplace los dígitos que han desaparecido misteriosamente.

1.
$$\begin{array}{r} 1 \square \\ 4 \overline{) 44} \end{array}$$

2.
$$\begin{array}{r} 12 \\ 1 \square \overline{) \square 20} \end{array}$$

3.
$$\begin{array}{r} 6 \\ 1 \square \overline{) 66} \end{array}$$

4.
$$\begin{array}{r} \square \\ 7 \overline{) 28} \end{array}$$



5.
$$\begin{array}{r} 11 \\ 8 \overline{) 8\square} \end{array}$$

6.
$$\begin{array}{r} 9 \\ 7 \overline{) 6\square} \end{array}$$

7.
$$\begin{array}{r} 5 \\ 1 \square \overline{) 60} \end{array}$$

8.
$$\begin{array}{r} 11 \\ 1 \square \overline{) \square 10} \end{array}$$



9.
$$\begin{array}{r} 11 \\ \square \overline{) 99} \end{array}$$

10.
$$\begin{array}{r} 1 \square \\ 8 \overline{) 96} \end{array}$$

11.
$$\begin{array}{r} 10 \\ 1 \square \overline{) \square 10} \end{array}$$

12.
$$\begin{array}{r} \square \\ 8 \overline{) 72} \end{array}$$



13.
$$\begin{array}{r} \square \\ 8 \overline{) 72} \end{array}$$

14.
$$\begin{array}{r} \square \\ 3 \overline{) 9} \end{array}$$

15.
$$\begin{array}{r} \square \\ 12 \overline{) 72} \end{array}$$

16.
$$\begin{array}{r} \square \\ 5 \overline{) 25} \end{array}$$



17.
$$\begin{array}{r} 11 \\ 6 \overline{) 6\square} \end{array}$$

18.
$$\begin{array}{r} 7 \\ 12 \overline{) 8\square} \end{array}$$

19.
$$\begin{array}{r} \square \\ 4 \overline{) 20} \end{array}$$

20.
$$\begin{array}{r} \square \\ 9 \overline{) 81} \end{array}$$



DIGITOS FANTASMAS, DIVISION (E) RESPUESTAS

Nombre: _____

Fecha: _____

Puntuación: _____

Reemplace los dígitos que han desaparecido misteriosamente.

1.
$$\begin{array}{r} 1 \boxed{1} \\ 4 \overline{) 44} \end{array}$$



2.
$$\begin{array}{r} 1 \ 2 \\ 1 \boxed{0} \overline{) \boxed{1} 2 0} \end{array}$$



3.
$$\begin{array}{r} 6 \\ 1 \boxed{1} \overline{) 66} \end{array}$$



4.
$$\begin{array}{r} \boxed{4} \\ 7 \overline{) 28} \end{array}$$



5.
$$\begin{array}{r} 1 \ 1 \\ 8 \overline{) 8 \boxed{8}} \end{array}$$



6.
$$\begin{array}{r} 9 \\ 7 \overline{) 6 \boxed{3}} \end{array}$$



7.
$$\begin{array}{r} 5 \\ 1 \boxed{2} \overline{) 60} \end{array}$$



8.
$$\begin{array}{r} 1 \ 1 \\ 1 \boxed{0} \overline{) \boxed{1} 1 0} \end{array}$$



9.
$$\begin{array}{r} 1 \ 1 \\ \boxed{9} \overline{) 99} \end{array}$$



10.
$$\begin{array}{r} 1 \ \boxed{2} \\ 8 \overline{) 96} \end{array}$$



11.
$$\begin{array}{r} 1 \ 0 \\ 1 \ \boxed{1} \overline{) \boxed{1} 1 0} \end{array}$$



12.
$$\begin{array}{r} \boxed{9} \\ 8 \overline{) 72} \end{array}$$



13.
$$\begin{array}{r} \boxed{9} \\ 8 \overline{) 72} \end{array}$$



14.
$$\begin{array}{r} \boxed{3} \\ 3 \overline{) 9} \end{array}$$



15.
$$\begin{array}{r} \boxed{6} \\ 1 \ 2 \overline{) 72} \end{array}$$



16.
$$\begin{array}{r} \boxed{5} \\ 5 \overline{) 25} \end{array}$$



17.
$$\begin{array}{r} 1 \ 1 \\ 6 \overline{) 6 \boxed{6}} \end{array}$$



18.
$$\begin{array}{r} 7 \\ 1 \ 2 \overline{) 8 \boxed{4}} \end{array}$$



19.
$$\begin{array}{r} \boxed{5} \\ 4 \overline{) 20} \end{array}$$



20.
$$\begin{array}{r} \boxed{9} \\ 9 \overline{) 81} \end{array}$$



DIGITOS FANTASMAS, DIVISION (F)

Nombre: _____

Fecha: _____

Puntuación: _____

Reemplace los dígitos que han desaparecido misteriosamente.

1.
$$\begin{array}{r} \square \\ 12 \overline{)84} \end{array}$$



2.
$$\begin{array}{r} 1\square \\ 3 \overline{)36} \end{array}$$



3.
$$\begin{array}{r} \square \\ 7 \overline{)63} \end{array}$$



4.
$$\begin{array}{r} \square \\ 9 \overline{)45} \end{array}$$



5.
$$\begin{array}{r} 5 \\ 11 \overline{)5\square} \end{array}$$



6.
$$\begin{array}{r} \square \\ 3 \overline{)18} \end{array}$$



7.
$$\begin{array}{r} 11 \\ \square \overline{)44} \end{array}$$



8.
$$\begin{array}{r} 4 \\ 11 \overline{)4\square} \end{array}$$



9.
$$\begin{array}{r} 2 \\ 12 \overline{)2\square} \end{array}$$



10.
$$\begin{array}{r} \square \\ 8 \overline{)64} \end{array}$$



11.
$$\begin{array}{r} 3 \\ \square \overline{)15} \end{array}$$



12.
$$\begin{array}{r} 7 \\ 5 \overline{)3\square} \end{array}$$



13.
$$\begin{array}{r} \square \\ 7 \overline{)21} \end{array}$$



14.
$$\begin{array}{r} 1\square \\ 9 \overline{)90} \end{array}$$



15.
$$\begin{array}{r} \square \\ 10 \overline{)60} \end{array}$$



16.
$$\begin{array}{r} \square \\ 9 \overline{)81} \end{array}$$



17.
$$\begin{array}{r} \square \\ 10 \overline{)70} \end{array}$$



18.
$$\begin{array}{r} \square \\ 6 \overline{)30} \end{array}$$



19.
$$\begin{array}{r} 1\square \\ 2 \overline{)20} \end{array}$$



20.
$$\begin{array}{r} \square \\ 7 \overline{)21} \end{array}$$



DIGITOS FANTASMAS, DIVISION (F) RESPUESTAS

Nombre: _____

Fecha: _____

Puntuación: _____

Reemplace los digitos que han desaparecido misteriosamente.

1.
$$\begin{array}{r} 7 \\ 12 \overline{)84} \end{array}$$



2.
$$\begin{array}{r} 2 \\ 3 \overline{)36} \end{array}$$



3.
$$\begin{array}{r} 9 \\ 7 \overline{)63} \end{array}$$



4.
$$\begin{array}{r} 5 \\ 9 \overline{)45} \end{array}$$



5.
$$\begin{array}{r} 5 \\ 11 \overline{)55} \end{array}$$



6.
$$\begin{array}{r} 6 \\ 3 \overline{)18} \end{array}$$



7.
$$\begin{array}{r} 11 \\ 4 \overline{)44} \end{array}$$



8.
$$\begin{array}{r} 4 \\ 11 \overline{)44} \end{array}$$



9.
$$\begin{array}{r} 2 \\ 12 \overline{)24} \end{array}$$



10.
$$\begin{array}{r} 8 \\ 8 \overline{)64} \end{array}$$



11.
$$\begin{array}{r} 3 \\ 5 \overline{)15} \end{array}$$



12.
$$\begin{array}{r} 7 \\ 5 \overline{)35} \end{array}$$



13.
$$\begin{array}{r} 3 \\ 7 \overline{)21} \end{array}$$



14.
$$\begin{array}{r} 10 \\ 9 \overline{)90} \end{array}$$



15.
$$\begin{array}{r} 6 \\ 10 \overline{)60} \end{array}$$



16.
$$\begin{array}{r} 9 \\ 9 \overline{)81} \end{array}$$



17.
$$\begin{array}{r} 7 \\ 10 \overline{)70} \end{array}$$



18.
$$\begin{array}{r} 5 \\ 6 \overline{)30} \end{array}$$



19.
$$\begin{array}{r} 10 \\ 2 \overline{)20} \end{array}$$



20.
$$\begin{array}{r} 3 \\ 7 \overline{)21} \end{array}$$



DIGITOS FANTASMAS, DIVISION (Q)

Nombre: _____

Fecha: _____

Puntuación: _____

Reemplace los dígitos que han desaparecido misteriosamente.

1.
$$\begin{array}{r} 5 \\ 12 \overline{)6} \end{array}$$



2.
$$\begin{array}{r} 4 \\ 6 \overline{)2} \end{array}$$



3.
$$\begin{array}{r} 7 \\ 10 \overline{)7} \end{array}$$



4.
$$\begin{array}{r} 9 \\ 10 \overline{)9} \end{array}$$



5.
$$\begin{array}{r} 8 \\ 8 \overline{)6} \end{array}$$



6.
$$\begin{array}{r} 4 \\ \overline{)12} \end{array}$$



7.
$$\begin{array}{r} 11 \\ \overline{)88} \end{array}$$



8.
$$\begin{array}{r} 12 \\ 6 \overline{)7} \end{array}$$



9.
$$\begin{array}{r} 4 \\ 11 \overline{)4} \end{array}$$



10.
$$\begin{array}{r} 2 \\ 6 \overline{)1} \end{array}$$



11.
$$\begin{array}{r} \\ 5 \overline{)35} \end{array}$$



12.
$$\begin{array}{r} 5 \\ 12 \overline{)6} \end{array}$$



13.
$$\begin{array}{r} \\ 12 \overline{)24} \end{array}$$



14.
$$\begin{array}{r} 3 \\ \overline{)9} \end{array}$$



15.
$$\begin{array}{r} \\ 8 \overline{)72} \end{array}$$



16.
$$\begin{array}{r} 5 \\ 11 \overline{)5} \end{array}$$



17.
$$\begin{array}{r} 6 \\ \overline{)54} \end{array}$$



18.
$$\begin{array}{r} 11 \\ \overline{)33} \end{array}$$



19.
$$\begin{array}{r} 4 \\ \overline{)20} \end{array}$$



20.
$$\begin{array}{r} \\ 4 \overline{)8} \end{array}$$



DIGITOS FANTASMAS, DIVISION (Q) RESPUESTAS

Nombre: _____

Fecha: _____

Puntuación: _____

Reemplace los dígitos que han desaparecido misteriosamente.

1.
$$\begin{array}{r} 5 \\ 12 \overline{)60} \end{array}$$



2.
$$\begin{array}{r} 4 \\ 6 \overline{)24} \end{array}$$



3.
$$\begin{array}{r} 7 \\ 10 \overline{)70} \end{array}$$



4.
$$\begin{array}{r} 9 \\ 10 \overline{)90} \end{array}$$



5.
$$\begin{array}{r} 8 \\ 8 \overline{)64} \end{array}$$



6.
$$\begin{array}{r} 4 \\ 3 \overline{)12} \end{array}$$



7.
$$\begin{array}{r} 11 \\ 8 \overline{)88} \end{array}$$



8.
$$\begin{array}{r} 12 \\ 6 \overline{)72} \end{array}$$



9.
$$\begin{array}{r} 4 \\ 11 \overline{)44} \end{array}$$



10.
$$\begin{array}{r} 2 \\ 6 \overline{)12} \end{array}$$



11.
$$\begin{array}{r} 7 \\ 5 \overline{)35} \end{array}$$



12.
$$\begin{array}{r} 5 \\ 12 \overline{)60} \end{array}$$



13.
$$\begin{array}{r} 2 \\ 12 \overline{)24} \end{array}$$



14.
$$\begin{array}{r} 3 \\ 3 \overline{)9} \end{array}$$



15.
$$\begin{array}{r} 9 \\ 8 \overline{)72} \end{array}$$



16.
$$\begin{array}{r} 5 \\ 11 \overline{)55} \end{array}$$



17.
$$\begin{array}{r} 6 \\ 9 \overline{)54} \end{array}$$



18.
$$\begin{array}{r} 11 \\ 3 \overline{)33} \end{array}$$



19.
$$\begin{array}{r} 4 \\ 5 \overline{)20} \end{array}$$



20.
$$\begin{array}{r} 2 \\ 4 \overline{)8} \end{array}$$



DIGITOS FANTASMAS, DIVISION (H)

Nombre: _____

Fecha: _____

Puntuación: _____

Reemplace los dígitos que han desaparecido misteriosamente.

1.
$$\begin{array}{r} 4 \\ \square \) \ 32 \end{array}$$



2.
$$\begin{array}{r} 8 \\ 5 \) \ 4\square \end{array}$$



3.
$$\begin{array}{r} 2 \\ 6 \) \ 1\square \end{array}$$



4.
$$\begin{array}{r} \square \\ 10 \) \ 70 \end{array}$$



5.
$$\begin{array}{r} \square \\ 9 \) \ 54 \end{array}$$



6.
$$\begin{array}{r} 3 \\ 10 \) \ 3\square \end{array}$$



7.
$$\begin{array}{r} 10 \\ 2 \) \ 2\square \end{array}$$



8.
$$\begin{array}{r} \square \\ 5 \) \ 35 \end{array}$$



9.
$$\begin{array}{r} 2 \\ \square \) \ 16 \end{array}$$



10.
$$\begin{array}{r} 3 \\ 3 \) \ \square \end{array}$$



11.
$$\begin{array}{r} 4 \\ 11 \) \ 4\square \end{array}$$



12.
$$\begin{array}{r} 4 \\ 1\square \) \ 40 \end{array}$$



13.
$$\begin{array}{r} 6 \\ 12 \) \ 7\square \end{array}$$



14.
$$\begin{array}{r} 5 \\ \square \) \ 15 \end{array}$$



15.
$$\begin{array}{r} 7 \\ \square \) \ 28 \end{array}$$



16.
$$\begin{array}{r} 12 \\ 5 \) \ 6\square \end{array}$$



17.
$$\begin{array}{r} 11 \\ \square \) \ 77 \end{array}$$



18.
$$\begin{array}{r} \square \\ 5 \) \ 15 \end{array}$$



19.
$$\begin{array}{r} 3 \\ \square \) \ 6 \end{array}$$



20.
$$\begin{array}{r} \square \\ 9 \) \ 72 \end{array}$$



DIGITOS FANTASMAS, DIVISION (H) RESPUESTAS

Nombre: _____

Fecha: _____

Puntuación: _____

Reemplace los dígitos que han desaparecido misteriosamente.

1.
$$\begin{array}{r} 4 \\ 8 \overline{) 32} \end{array}$$



2.
$$\begin{array}{r} 8 \\ 5 \overline{) 40} \end{array}$$



3.
$$\begin{array}{r} 2 \\ 6 \overline{) 12} \end{array}$$



4.
$$\begin{array}{r} 7 \\ 10 \overline{) 70} \end{array}$$



5.
$$\begin{array}{r} 6 \\ 9 \overline{) 54} \end{array}$$



6.
$$\begin{array}{r} 3 \\ 10 \overline{) 30} \end{array}$$



7.
$$\begin{array}{r} 10 \\ 2 \overline{) 20} \end{array}$$



8.
$$\begin{array}{r} 7 \\ 5 \overline{) 35} \end{array}$$



9.
$$\begin{array}{r} 2 \\ 8 \overline{) 16} \end{array}$$



10.
$$\begin{array}{r} 3 \\ 3 \overline{) 9} \end{array}$$



11.
$$\begin{array}{r} 4 \\ 11 \overline{) 44} \end{array}$$



12.
$$\begin{array}{r} 4 \\ 10 \overline{) 40} \end{array}$$



13.
$$\begin{array}{r} 6 \\ 12 \overline{) 72} \end{array}$$



14.
$$\begin{array}{r} 5 \\ 3 \overline{) 15} \end{array}$$



15.
$$\begin{array}{r} 7 \\ 4 \overline{) 28} \end{array}$$



16.
$$\begin{array}{r} 12 \\ 5 \overline{) 60} \end{array}$$



17.
$$\begin{array}{r} 11 \\ 7 \overline{) 77} \end{array}$$



18.
$$\begin{array}{r} 3 \\ 5 \overline{) 15} \end{array}$$



19.
$$\begin{array}{r} 3 \\ 2 \overline{) 6} \end{array}$$



20.
$$\begin{array}{r} 8 \\ 9 \overline{) 72} \end{array}$$



DIGITOS FANTASMAS, DIVISION (I)

Nombre: _____

Fecha: _____

Puntuación: _____

Reemplace los dígitos que han desaparecido misteriosamente.

1.
$$\begin{array}{r} 9 \\ 5 \overline{) 4 \square} \end{array}$$



2.
$$\begin{array}{r} 1 \square \\ 2 \overline{) 2 0} \end{array}$$



3.
$$\begin{array}{r} 5 \\ 1 \square \overline{) 6 0} \end{array}$$



4.
$$\begin{array}{r} 1 0 \\ \square \overline{) 2 0} \end{array}$$



5.
$$\begin{array}{r} \square \\ 1 0 \overline{) 7 0} \end{array}$$



6.
$$\begin{array}{r} 2 \\ 4 \overline{) \square} \end{array}$$



7.
$$\begin{array}{r} 2 \\ 6 \overline{) 1 \square} \end{array}$$



8.
$$\begin{array}{r} 1 \square \\ 1 1 \overline{) \square 1 0} \end{array}$$



9.
$$\begin{array}{r} 1 1 \\ 9 \overline{) 9 \square} \end{array}$$



10.
$$\begin{array}{r} 1 0 \\ 1 0 \overline{) \square 0 \square} \end{array}$$



11.
$$\begin{array}{r} \square \\ 3 \overline{) 2 7} \end{array}$$



12.
$$\begin{array}{r} 9 \\ \square \overline{) 6 3} \end{array}$$



13.
$$\begin{array}{r} 7 \\ 6 \overline{) 4 \square} \end{array}$$



14.
$$\begin{array}{r} 1 1 \\ \square \overline{) 3 3} \end{array}$$



15.
$$\begin{array}{r} 5 \\ \square \overline{) 1 0} \end{array}$$



16.
$$\begin{array}{r} 4 \\ 1 \square \overline{) 4 8} \end{array}$$



17.
$$\begin{array}{r} 4 \\ 5 \overline{) 2 \square} \end{array}$$



18.
$$\begin{array}{r} \square \\ 1 0 \overline{) 9 0} \end{array}$$



19.
$$\begin{array}{r} 1 1 \\ \square \overline{) 5 5} \end{array}$$



20.
$$\begin{array}{r} 1 \square \\ 4 \overline{) 4 8} \end{array}$$



DIGITOS FANTASMAS, DIVISION (1) RESPUESTAS

Nombre: _____

Fecha: _____

Puntuación: _____

Reemplace los dígitos que han desaparecido misteriosamente.

1.
$$\begin{array}{r} 9 \\ 5 \overline{) 4 \square 5} \end{array}$$



2.
$$\begin{array}{r} 1 \square 0 \\ 2 \overline{) 2 0} \end{array}$$



3.
$$\begin{array}{r} 5 \\ 1 \square 2 \overline{) 6 0} \end{array}$$



4.
$$\begin{array}{r} 1 0 \\ \square 2 \overline{) 2 0} \end{array}$$



5.
$$\begin{array}{r} \square 7 \\ 1 0 \overline{) 7 0} \end{array}$$



6.
$$\begin{array}{r} 2 \\ 4 \overline{) \square 8} \end{array}$$



7.
$$\begin{array}{r} 2 \\ 6 \overline{) 1 \square 2} \end{array}$$



8.
$$\begin{array}{r} 1 \square 0 \\ 1 1 \overline{) \square 1 0} \end{array}$$



9.
$$\begin{array}{r} 1 1 \\ 9 \overline{) 9 \square 9} \end{array}$$



10.
$$\begin{array}{r} 1 0 \\ 1 0 \overline{) \square 0 \square} \end{array}$$



11.
$$\begin{array}{r} \square 9 \\ 3 \overline{) 2 7} \end{array}$$



12.
$$\begin{array}{r} 9 \\ \square 7 \overline{) 6 3} \end{array}$$



13.
$$\begin{array}{r} 7 \\ 6 \overline{) 4 \square 2} \end{array}$$



14.
$$\begin{array}{r} 1 1 \\ \square 3 \overline{) 3 3} \end{array}$$



15.
$$\begin{array}{r} 5 \\ \square 2 \overline{) 1 0} \end{array}$$



16.
$$\begin{array}{r} 4 \\ 1 \square 2 \overline{) 4 8} \end{array}$$



17.
$$\begin{array}{r} 4 \\ 5 \overline{) 2 \square 0} \end{array}$$



18.
$$\begin{array}{r} \square 9 \\ 1 0 \overline{) 9 0} \end{array}$$



19.
$$\begin{array}{r} 1 1 \\ \square 5 \overline{) 5 5} \end{array}$$



20.
$$\begin{array}{r} 1 \square 2 \\ 4 \overline{) 4 8} \end{array}$$



DIGITOS FANTASMAS, DIVISION (J)

Nombre: _____

Fecha: _____

Puntuación: _____

Reemplace los dígitos que han desaparecido misteriosamente.

1.
$$\begin{array}{r} \square \\ 12 \overline{)60} \end{array}$$

2.
$$\begin{array}{r} 1\square \\ 8 \overline{)96} \end{array}$$

3.
$$\begin{array}{r} \square \\ 5 \overline{)20} \end{array}$$

4.
$$\begin{array}{r} 10 \\ 1\square \overline{)\square 20} \end{array}$$



5.
$$\begin{array}{r} 8 \\ 7 \overline{)5\square} \end{array}$$

6.
$$\begin{array}{r} \square \\ 10 \overline{)90} \end{array}$$

7.
$$\begin{array}{r} 4 \\ 10 \overline{)4\square} \end{array}$$

8.
$$\begin{array}{r} 7 \\ 7 \overline{)4\square} \end{array}$$



9.
$$\begin{array}{r} 3 \\ 7 \overline{)2\square} \end{array}$$

10.
$$\begin{array}{r} \square \\ 10 \overline{)50} \end{array}$$

11.
$$\begin{array}{r} \square \\ 7 \overline{)35} \end{array}$$

12.
$$\begin{array}{r} 1\square \\ 7 \overline{)70} \end{array}$$



13.
$$\begin{array}{r} \square \\ 8 \overline{)72} \end{array}$$

14.
$$\begin{array}{r} 11 \\ \square \overline{)88} \end{array}$$

15.
$$\begin{array}{r} 12 \\ 11 \overline{)\square 3\square} \end{array}$$

16.
$$\begin{array}{r} 8 \\ \square \overline{)16} \end{array}$$



17.
$$\begin{array}{r} \square \\ 6 \overline{)42} \end{array}$$

18.
$$\begin{array}{r} 5 \\ 8 \overline{)4\square} \end{array}$$

19.
$$\begin{array}{r} 8 \\ 12 \overline{)9\square} \end{array}$$

20.
$$\begin{array}{r} 10 \\ \square \overline{)40} \end{array}$$



DIGITOS FANTASMAS, DIVISION (J) RESPUESTAS

Nombre: _____

Fecha: _____

Puntuación: _____

Reemplace los dígitos que han desaparecido misteriosamente.

1.
$$\begin{array}{r} 5 \\ 12 \overline{)60} \end{array}$$



2.
$$\begin{array}{r} 2 \\ 8 \overline{)96} \end{array}$$



3.
$$\begin{array}{r} 4 \\ 5 \overline{)20} \end{array}$$



4.
$$\begin{array}{r} 10 \\ 12 \overline{)120} \end{array}$$



5.
$$\begin{array}{r} 8 \\ 7 \overline{)56} \end{array}$$



6.
$$\begin{array}{r} 9 \\ 10 \overline{)90} \end{array}$$



7.
$$\begin{array}{r} 4 \\ 10 \overline{)40} \end{array}$$



8.
$$\begin{array}{r} 7 \\ 7 \overline{)49} \end{array}$$



9.
$$\begin{array}{r} 3 \\ 7 \overline{)21} \end{array}$$



10.
$$\begin{array}{r} 5 \\ 10 \overline{)50} \end{array}$$



11.
$$\begin{array}{r} 5 \\ 7 \overline{)35} \end{array}$$



12.
$$\begin{array}{r} 10 \\ 7 \overline{)70} \end{array}$$



13.
$$\begin{array}{r} 9 \\ 8 \overline{)72} \end{array}$$



14.
$$\begin{array}{r} 11 \\ 8 \overline{)88} \end{array}$$



15.
$$\begin{array}{r} 12 \\ 11 \overline{)132} \end{array}$$



16.
$$\begin{array}{r} 8 \\ 2 \overline{)16} \end{array}$$



17.
$$\begin{array}{r} 7 \\ 6 \overline{)42} \end{array}$$



18.
$$\begin{array}{r} 5 \\ 8 \overline{)40} \end{array}$$



19.
$$\begin{array}{r} 8 \\ 12 \overline{)96} \end{array}$$



20.
$$\begin{array}{r} 10 \\ 4 \overline{)40} \end{array}$$

