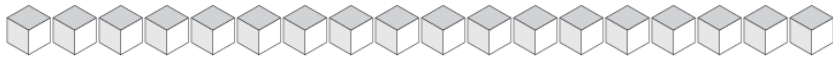
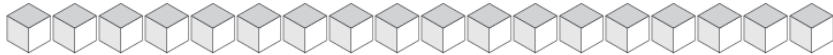


# Cambiar Unidades por Varas (C)

¿Cuántas unidades puedes cambiar por varas y cuántas quedarían?



Varas	Unidades



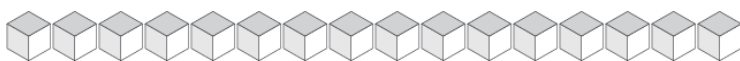
Varas	Unidades



Varas	Unidades



Varas	Unidades



Varas	Unidades

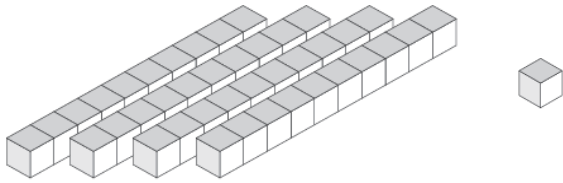


Varas	Unidades

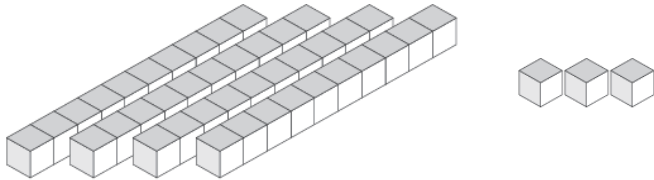


# Cambiar Unidades por Varas (C) Respuestas

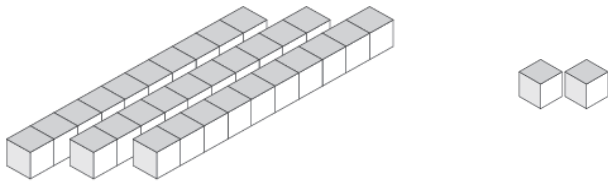
¿Cuántas unidades puedes cambiar por varas y cuántas quedarían?



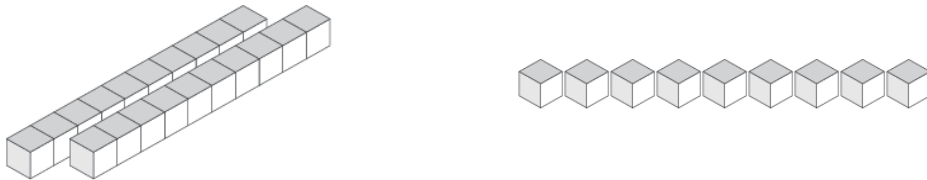
Varas	Unidades
4	1



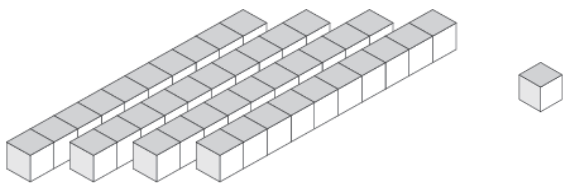
Varas	Unidades
4	3



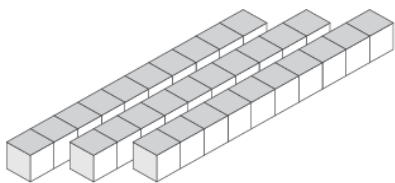
Varas	Unidades
3	2



Varas	Unidades
2	9



Varas	Unidades
4	1



Varas	Unidades
3	0