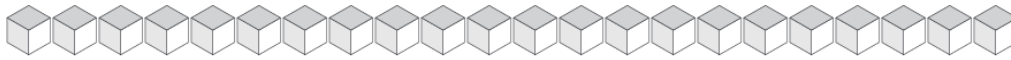
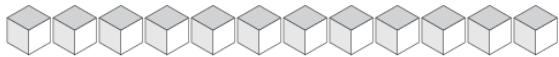


Cambiar Unidades por Varas (D)

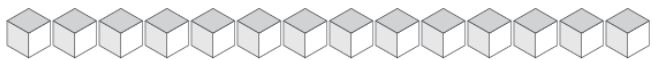
¿Cuántas unidades puedes cambiar por varas y cuántas quedarían?



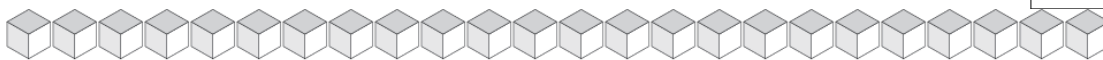
Varas	Unidades



Varas	Unidades



Varas	Unidades



Varas	Unidades



Varas	Unidades

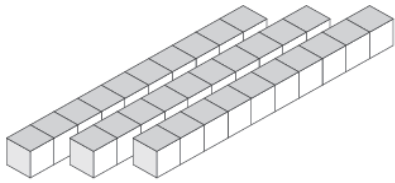


Varas	Unidades

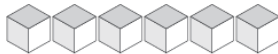
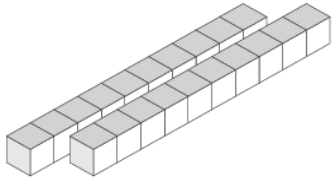


Cambiar Unidades por Varas (D) Respuestas

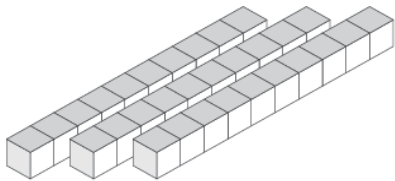
¿Cuántas unidades puedes cambiar por varas y cuántas quedarían?



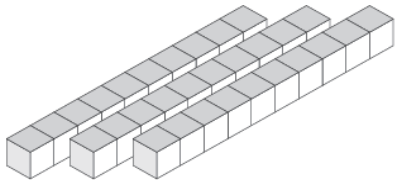
Varas	Unidades
3	3



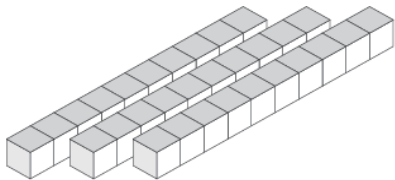
Varas	Unidades
2	6



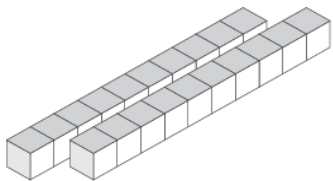
Varas	Unidades
3	7



Varas	Unidades
3	4



Varas	Unidades
3	0



Varas	Unidades
2	7