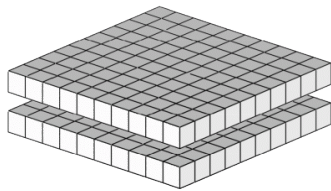
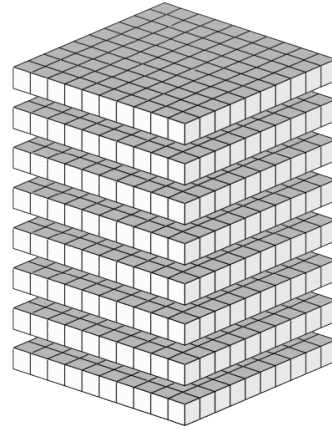


# Bloques Base Diez --- Contar Planos (B)

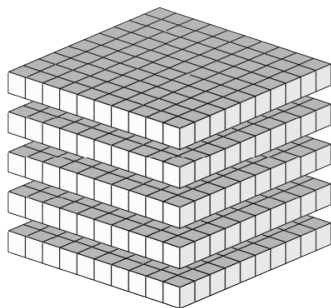
Instrucciones: El valor de cada plano es 10. ¿Cuál es el valor de cada conjunto de planos?




El valor de los planos es \_\_\_\_\_.



El valor de los planos es \_\_\_\_\_.



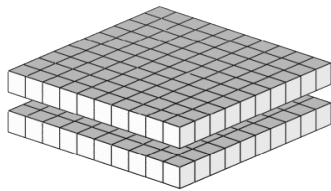
El valor de los planos es \_\_\_\_\_.



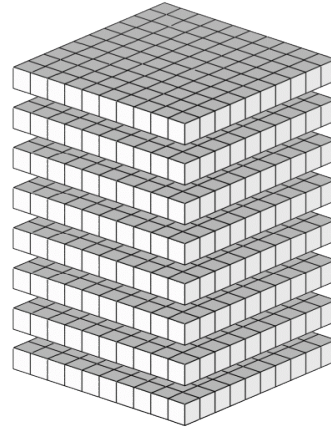
El valor de los planos es \_\_\_\_\_.

# Bloques Base Diez --- Contar Planos (B) Respuestas

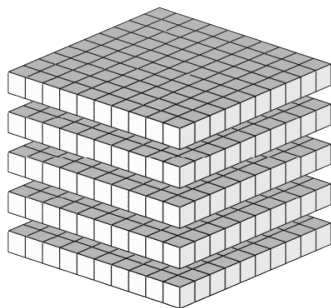
Instrucciones: El valor de cada plano es 10. ¿Cuál es el valor de cada conjunto de planos?




El valor de los planos es 200.



El valor de los planos es 800.



El valor de los planos es 500.



El valor de los planos es 1000.