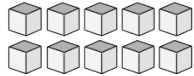
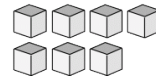


Bloques Base Diez --- Contar Unidades (A)

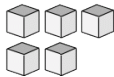
Instrucciones: Cuente cuántas unidades hay en cada uno de los grupos siguientes.



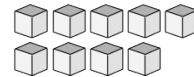
Hay _____ unidades
en este grupo.



Hay _____ unidades
en este grupo.



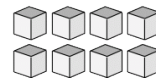
Hay _____ unidades
en este grupo.



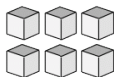
Hay _____ unidades
en este grupo.



Hay _____ unidades
en este grupo.



Hay _____ unidades
en este grupo.



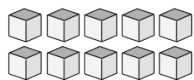
Hay _____ unidades
en este grupo.



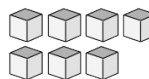
Hay _____ unidades
en este grupo.

Bloques Base Diez --- Contar Unidades (A) Respuestas

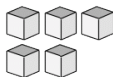
Instrucciones: Cuente cuántas unidades hay en cada uno de los grupos siguientes.



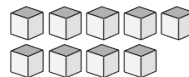
Hay 10 unidades en este grupo.



Hay 7 unidades en este grupo.



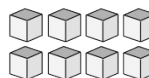
Hay 5 unidades en este grupo.



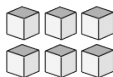
Hay 9 unidades en este grupo.



Hay 4 unidades en este grupo.



Hay 8 unidades en este grupo.



Hay 6 unidades en este grupo.



Hay 2 unidades en este grupo.