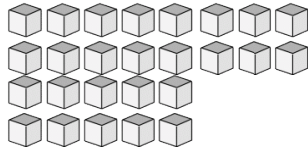
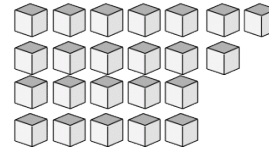


Bloques Base Diez --- Contar Unidades (D)

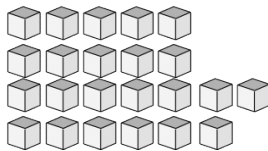
Instrucciones: Cuente cuántas unidades hay en cada uno de los grupos siguientes.



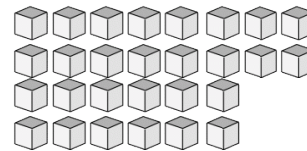
Hay _____ unidades
en este grupo.



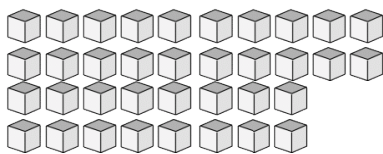
Hay _____ unidades
en este grupo.



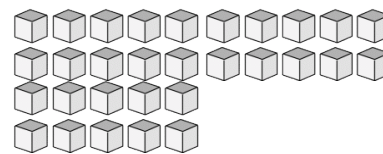
Hay _____ unidades
en este grupo.



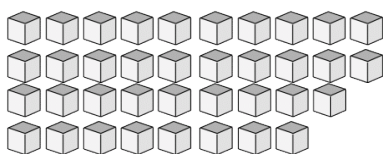
Hay _____ unidades
en este grupo.



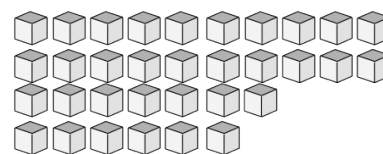
Hay _____ unidades
en este grupo.



Hay _____ unidades
en este grupo.



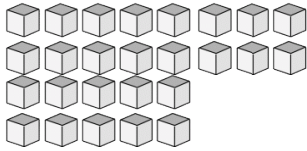
Hay _____ unidades
en este grupo.



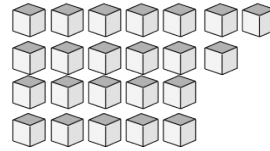
Hay _____ unidades
en este grupo.

Bloques Base Diez --- Contar Unidades (D) Respuestas

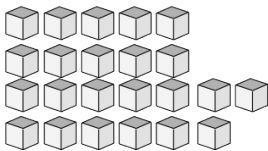
Instrucciones: Cuente cuántas unidades hay en cada uno de los grupos siguientes.



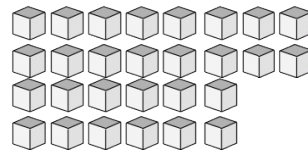
Hay 26 unidades en este grupo.



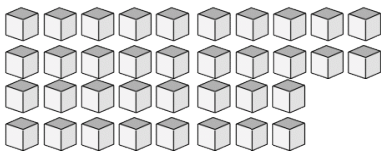
Hay 23 unidades en este grupo.



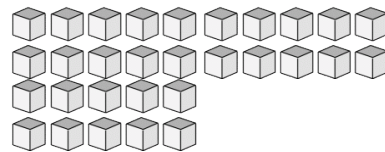
Hay 23 unidades en este grupo.



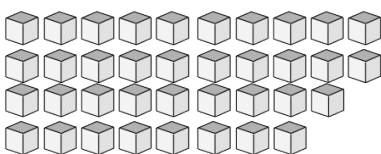
Hay 28 unidades en este grupo.



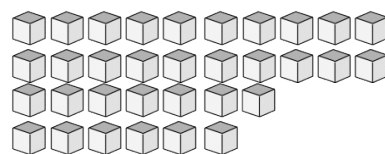
Hay 36 unidades en este grupo.



Hay 30 unidades en este grupo.



Hay 37 unidades en este grupo.



Hay 33 unidades en este grupo.