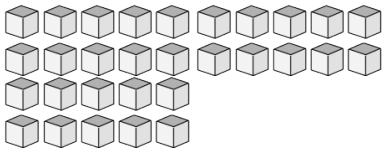
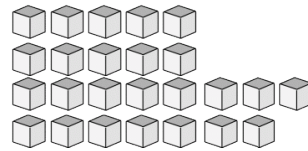


# Bloques Base Diez --- Contar Unidades (E)

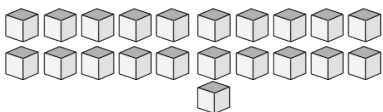
Instrucciones: Cuente cuántas unidades hay en cada uno de los grupos siguientes.



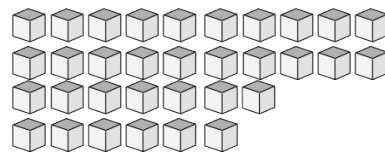
Hay \_\_\_\_\_ unidades  
en este grupo.



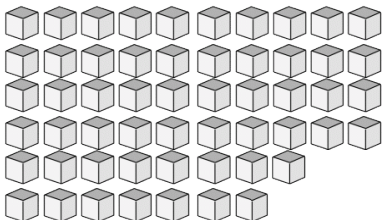
Hay \_\_\_\_\_ unidades  
en este grupo.



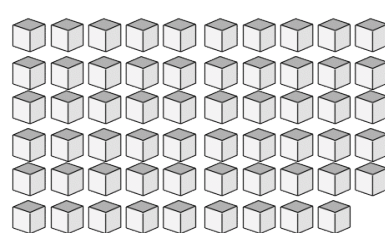
Hay \_\_\_\_\_ unidades  
en este grupo.



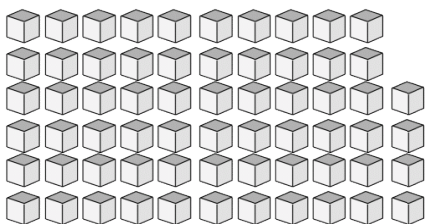
Hay \_\_\_\_\_ unidades  
en este grupo.



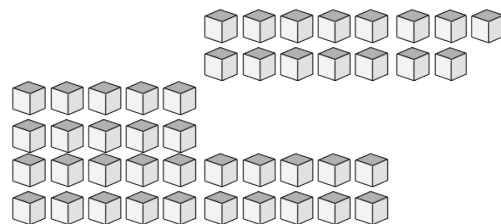
Hay \_\_\_\_\_ unidades  
en este grupo.



Hay \_\_\_\_\_ unidades  
en este grupo.



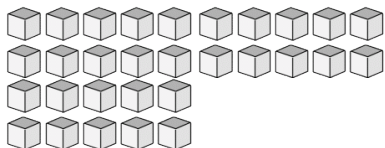
Hay \_\_\_\_\_ unidades  
en este grupo.



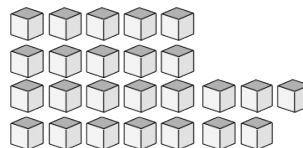
Hay \_\_\_\_\_ unidades  
en este grupo.

# Bloques Base Diez --- Contar Unidades (E) Respuestas

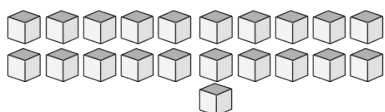
Instrucciones: Cuente cuántas unidades hay en cada uno de los grupos siguientes.



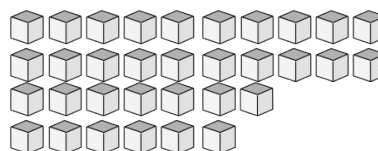
Hay 30 unidades en este grupo.



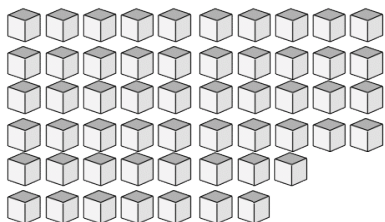
Hay 25 unidades en este grupo.



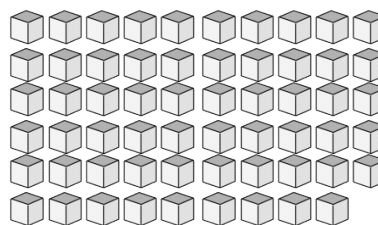
Hay 21 unidades en este grupo.



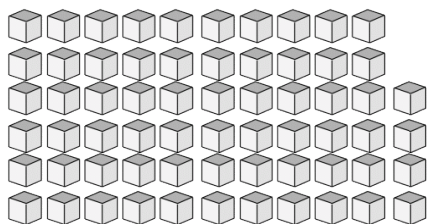
Hay 33 unidades en este grupo.



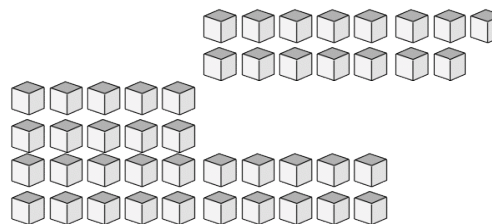
Hay 55 unidades en este grupo.



Hay 59 unidades en este grupo.



Hay 64 unidades en este grupo.



Hay 45 unidades en este grupo.