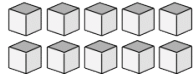
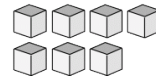


# Bloques Base Diez --- Contar Unidades (A)

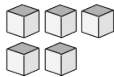
Instrucciones: Cuente cuántas unidades hay en cada uno de los grupos siguientes.



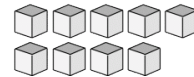
Hay \_\_\_\_\_ unidades  
en este grupo.



Hay \_\_\_\_\_ unidades  
en este grupo.



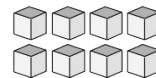
Hay \_\_\_\_\_ unidades  
en este grupo.



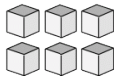
Hay \_\_\_\_\_ unidades  
en este grupo.



Hay \_\_\_\_\_ unidades  
en este grupo.



Hay \_\_\_\_\_ unidades  
en este grupo.



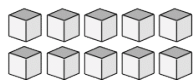
Hay \_\_\_\_\_ unidades  
en este grupo.



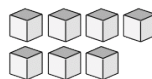
Hay \_\_\_\_\_ unidades  
en este grupo.

# Bloques Base Diez --- Contar Unidades (A) Respuestas

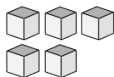
Instrucciones: Cuente cuántas unidades hay en cada uno de los grupos siguientes.



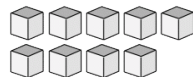
Hay 10 unidades en este grupo.



Hay 7 unidades en este grupo.



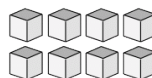
Hay 5 unidades en este grupo.



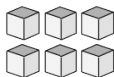
Hay 9 unidades en este grupo.



Hay 4 unidades en este grupo.



Hay 8 unidades en este grupo.



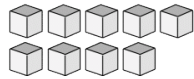
Hay 6 unidades en este grupo.



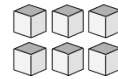
Hay 2 unidades en este grupo.

# Bloques Base Diez --- Contar Unidades (B)

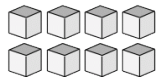
Instrucciones: Cuente cuántas unidades hay en cada uno de los grupos siguientes.



Hay \_\_\_\_\_ unidades  
en este grupo.



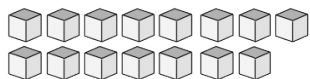
Hay \_\_\_\_\_ unidades  
en este grupo.



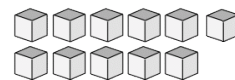
Hay \_\_\_\_\_ unidades  
en este grupo.



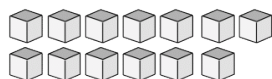
Hay \_\_\_\_\_ unidades  
en este grupo.



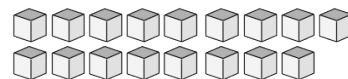
Hay \_\_\_\_\_ unidades  
en este grupo.



Hay \_\_\_\_\_ unidades  
en este grupo.



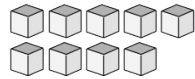
Hay \_\_\_\_\_ unidades  
en este grupo.



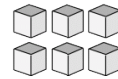
Hay \_\_\_\_\_ unidades  
en este grupo.

# Bloques Base Diez --- Contar Unidades (B) Respuestas

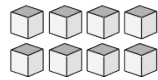
Instrucciones: Cuente cuántas unidades hay en cada uno de los grupos siguientes.



Hay 9 unidades en este grupo.



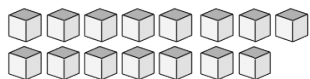
Hay 6 unidades en este grupo.



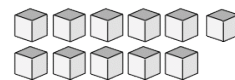
Hay 8 unidades en este grupo.



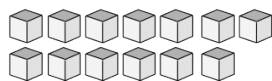
Hay 4 unidades en este grupo.



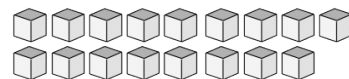
Hay 15 unidades en este grupo.



Hay 11 unidades en este grupo.



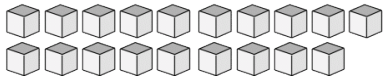
Hay 13 unidades en este grupo.



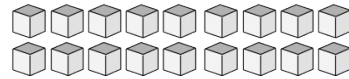
Hay 17 unidades en este grupo.

# Bloques Base Diez --- Contar Unidades (C)

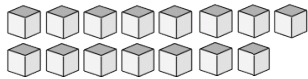
Instrucciones: Cuente cuántas unidades hay en cada uno de los grupos siguientes.



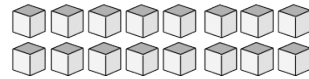
Hay \_\_\_\_\_ unidades  
en este grupo.



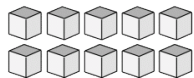
Hay \_\_\_\_\_ unidades  
en este grupo.



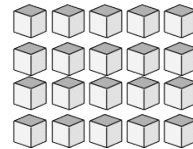
Hay \_\_\_\_\_ unidades  
en este grupo.



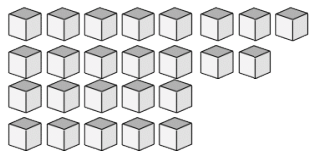
Hay \_\_\_\_\_ unidades  
en este grupo.



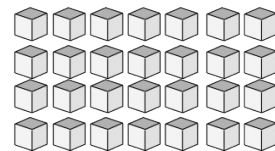
Hay \_\_\_\_\_ unidades  
en este grupo.



Hay \_\_\_\_\_ unidades  
en este grupo.



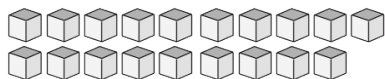
Hay \_\_\_\_\_ unidades  
en este grupo.



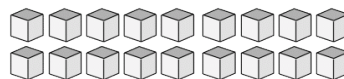
Hay \_\_\_\_\_ unidades  
en este grupo.

# Bloques Base Diez --- Contar Unidades (C) Respuestas

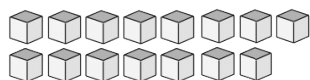
Instrucciones: Cuente cuántas unidades hay en cada uno de los grupos siguientes.



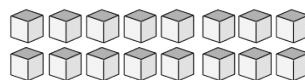
Hay 19 unidades en este grupo.



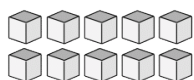
Hay 18 unidades en este grupo.



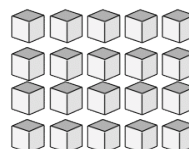
Hay 15 unidades en este grupo.



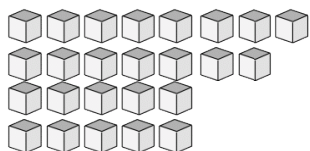
Hay 16 unidades en este grupo.



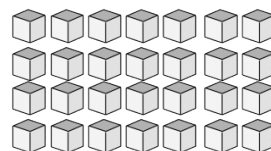
Hay 10 unidades en este grupo.



Hay 20 unidades en este grupo.



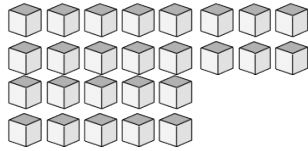
Hay 25 unidades en este grupo.



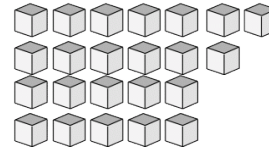
Hay 28 unidades en este grupo.

# Bloques Base Diez --- Contar Unidades (D)

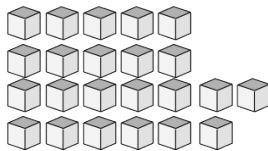
Instrucciones: Cuente cuántas unidades hay en cada uno de los grupos siguientes.



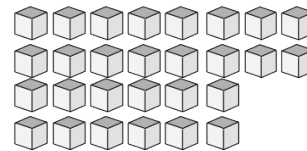
Hay \_\_\_\_\_ unidades  
en este grupo.



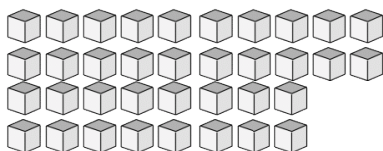
Hay \_\_\_\_\_ unidades  
en este grupo.



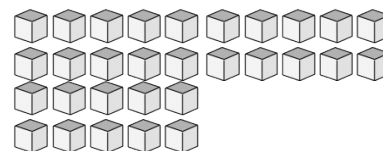
Hay \_\_\_\_\_ unidades  
en este grupo.



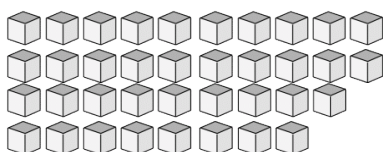
Hay \_\_\_\_\_ unidades  
en este grupo.



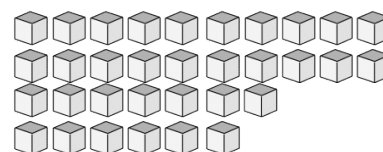
Hay \_\_\_\_\_ unidades  
en este grupo.



Hay \_\_\_\_\_ unidades  
en este grupo.



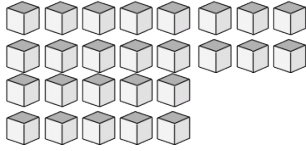
Hay \_\_\_\_\_ unidades  
en este grupo.



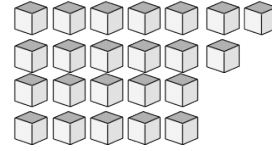
Hay \_\_\_\_\_ unidades  
en este grupo.

# Bloques Base Diez --- Contar Unidades (D) Respuestas

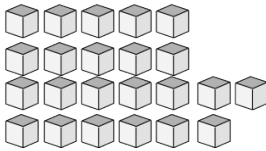
Instrucciones: Cuente cuántas unidades hay en cada uno de los grupos siguientes.



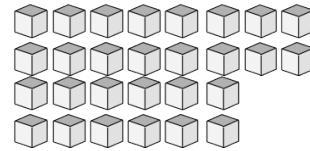
Hay 26 unidades en este grupo.



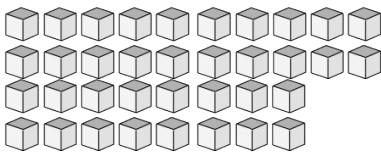
Hay 23 unidades en este grupo.



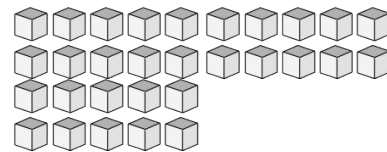
Hay 23 unidades en este grupo.



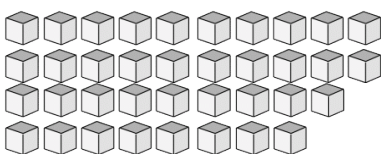
Hay 28 unidades en este grupo.



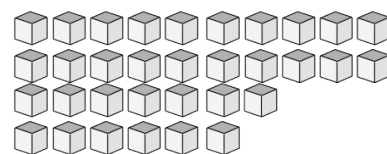
Hay 36 unidades en este grupo.



Hay 30 unidades en este grupo.



Hay 37 unidades en este grupo.

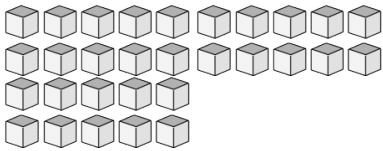


Hay 33 unidades en este grupo.

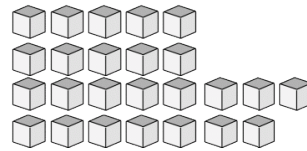


# Bloques Base Diez --- Contar Unidades (E)

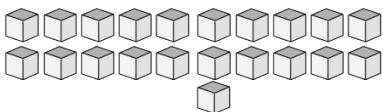
Instrucciones: Cuente cuántas unidades hay en cada uno de los grupos siguientes.



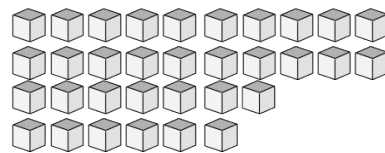
Hay \_\_\_\_\_ unidades  
en este grupo.



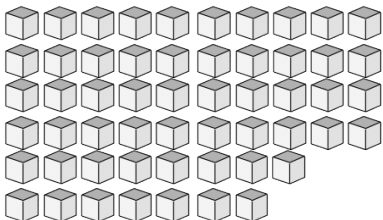
Hay \_\_\_\_\_ unidades  
en este grupo.



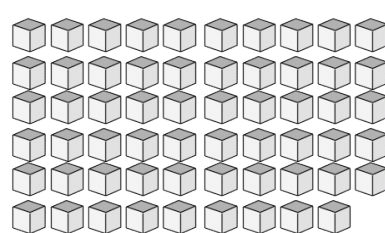
Hay \_\_\_\_\_ unidades  
en este grupo.



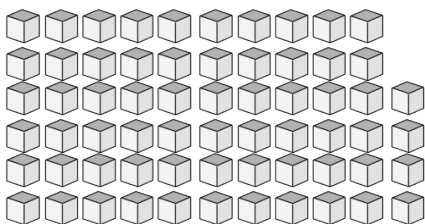
Hay \_\_\_\_\_ unidades  
en este grupo.



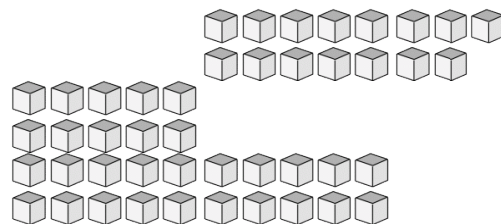
Hay \_\_\_\_\_ unidades  
en este grupo.



Hay \_\_\_\_\_ unidades  
en este grupo.



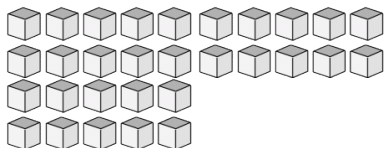
Hay \_\_\_\_\_ unidades  
en este grupo.



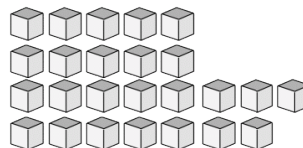
Hay \_\_\_\_\_ unidades  
en este grupo.

# Bloques Base Diez --- Contar Unidades (E) Respuestas

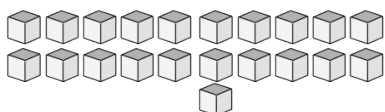
Instrucciones: Cuente cuántas unidades hay en cada uno de los grupos siguientes.



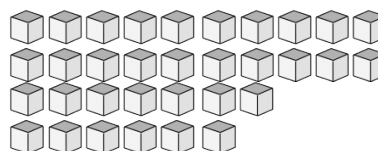
Hay 30 unidades en este grupo.



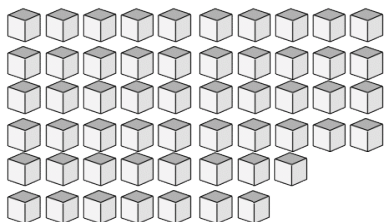
Hay 25 unidades en este grupo.



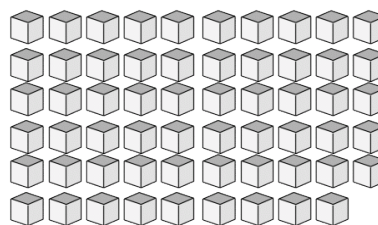
Hay 21 unidades en este grupo.



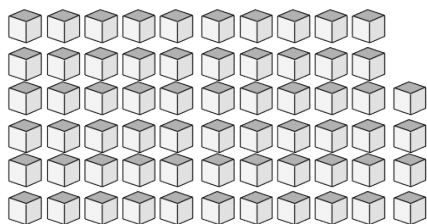
Hay 33 unidades en este grupo.



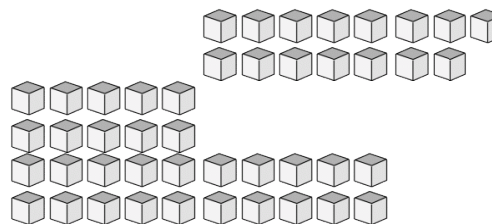
Hay 55 unidades en este grupo.



Hay 59 unidades en este grupo.



Hay 64 unidades en este grupo.



Hay 45 unidades en este grupo.