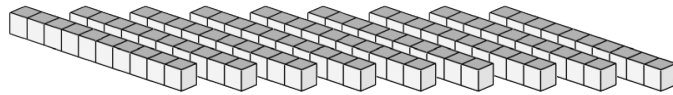
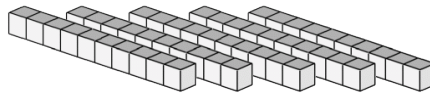


Bloques Base Diez --- Contar Varas (A)

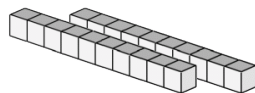
Instrucciones: El valor de cada vara es 10. ¿Cuál es el valor de cada conjunto de varas?



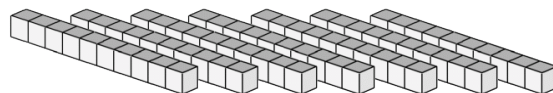
El valor de las varas es _____.



El valor de las varas es _____.



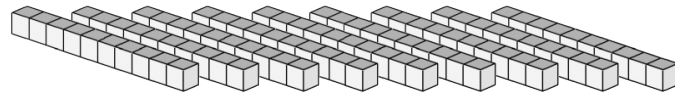
El valor de las varas es _____.



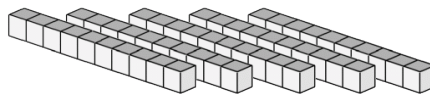
El valor de las varas es _____.

Bloques Base Diez --- Contar Varas (A) Respuestas

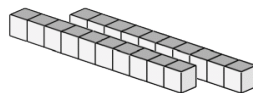
Instrucciones: El valor de cada vara es 10. ¿Cuál es el valor de cada conjunto de varas?



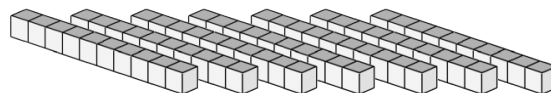
El valor de las varas es 90.



El valor de las varas es 50.



El valor de las varas es 20.



El valor de las varas es 70.