
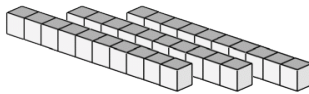


# Bloques Base Diez --- Contar Varas (B)

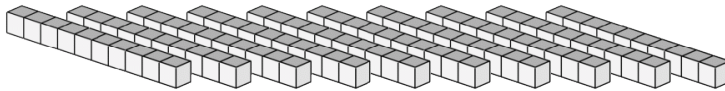
Instrucciones: El valor de cada vara es 10. ¿Cuál es el valor de cada conjunto de varas?




El valor de las varas es \_\_\_\_\_.



El valor de las varas es \_\_\_\_\_.




El valor de las varas es \_\_\_\_\_.



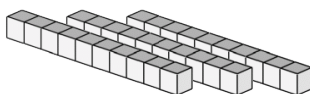
El valor de las varas es \_\_\_\_\_.

# Bloques Base Diez --- Contar Varas (B) Respuestas

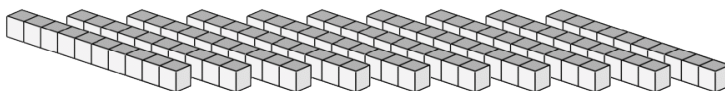
Instrucciones: El valor de cada vara es 10. ¿Cuál es el valor de cada conjunto de varas?




El valor de las varas es 70.



El valor de las varas es 30.



El valor de las varas es 100.



El valor de las varas es 80.