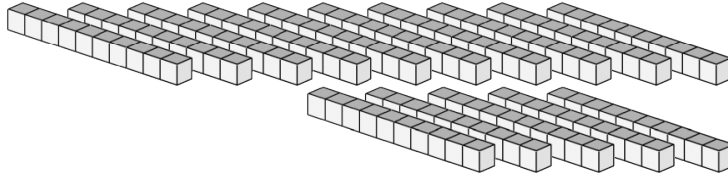
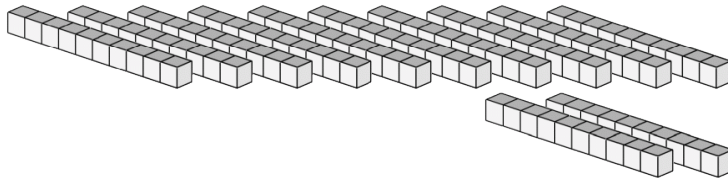


# Bloques Base Diez --- Contar Varas (C)

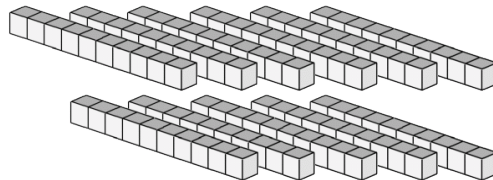
Instrucciones: El valor de cada vara es 10. ¿Cuál es el valor de cada conjunto de varas?



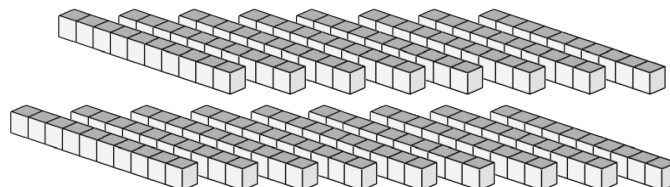
El valor de las varas es \_\_\_\_\_.



El valor de las varas es \_\_\_\_\_.



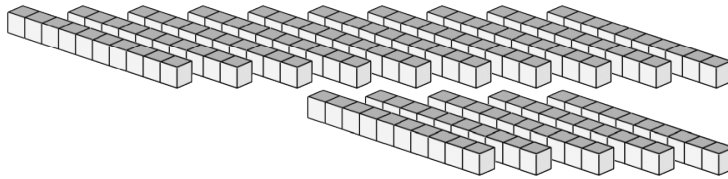
El valor de las varas es \_\_\_\_\_.



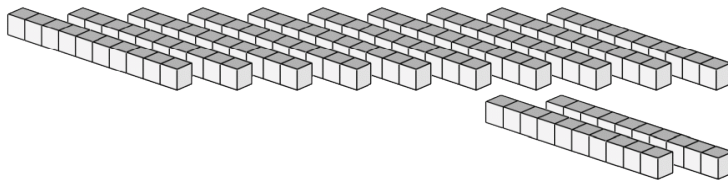
El valor de las varas es \_\_\_\_\_.

# Bloques Base Diez --- Contar Varas (C) Respuestas

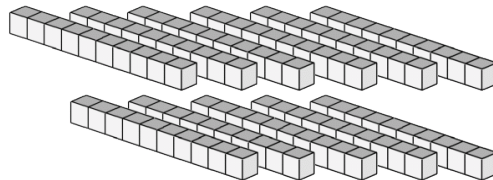
Instrucciones: El valor de cada vara es 10. ¿Cuál es el valor de cada conjunto de varas?



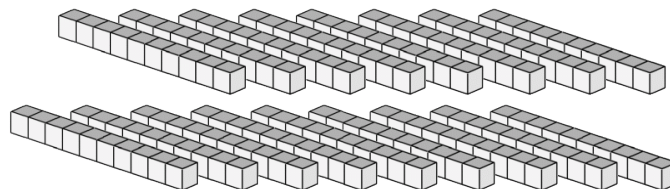
El valor de las varas es 150.



El valor de las varas es 120.



El valor de las varas es 110.



El valor de las varas es 170.