

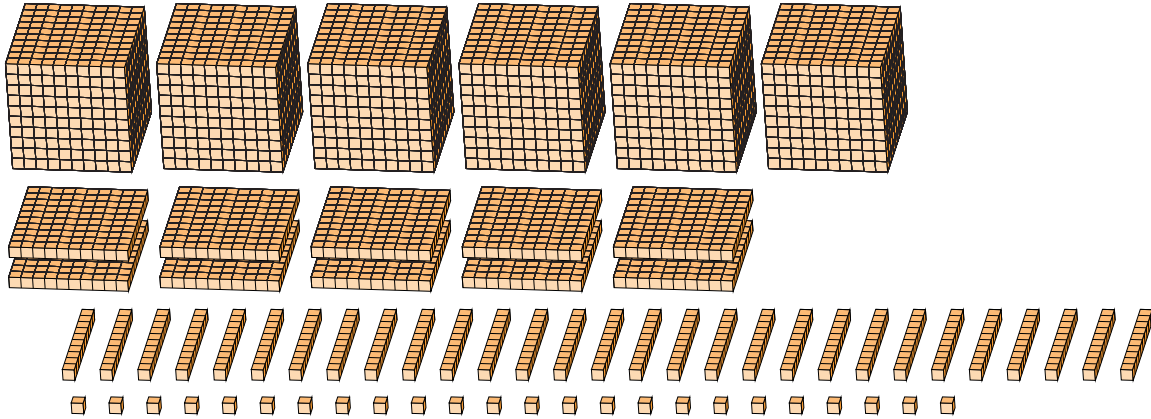
Reagrupar Bloques Base Diez (C)

Nombre: _____

Fecha: _____

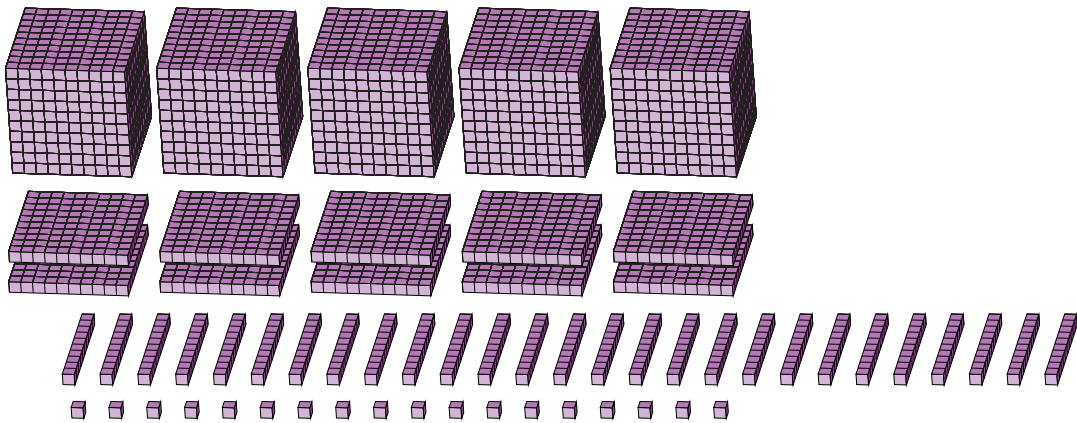
¿Qué número se muestra en cada grupo de bloques base diez?

1.



<input type="text"/>	<input type="text"/>	<input type="text"/>	<input type="text"/>	→	<input type="text"/>	<input type="text"/>	<input type="text"/>	<input type="text"/>
millares	centenas	decenas	unidades	reagrupar				

2.



<input type="text"/>	<input type="text"/>	<input type="text"/>	<input type="text"/>	→	<input type="text"/>	<input type="text"/>	<input type="text"/>	<input type="text"/>
millares	centenas	decenas	unidades	reagrupar				

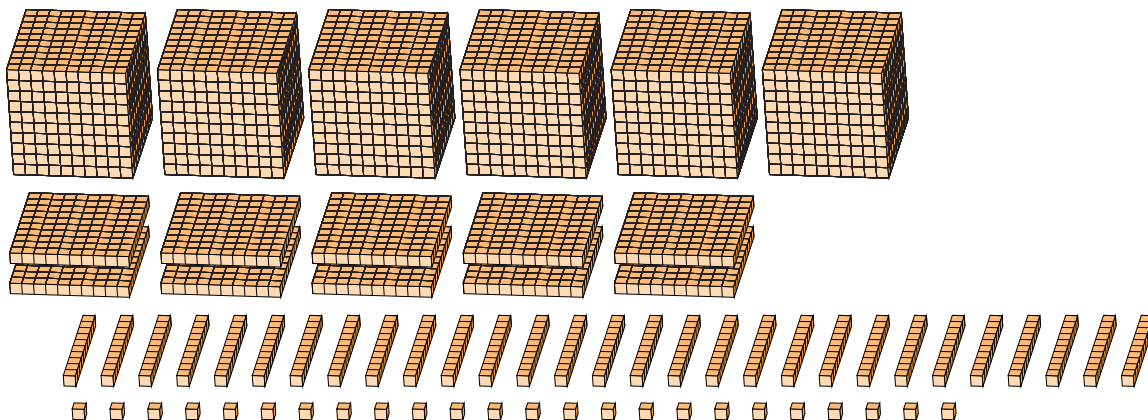
Reagrupar Bloques Base Diez (C) Respuestas

Nombre: _____

Fecha: _____

¿Qué número se muestra en cada grupo de bloques base diez?

1.



2.

