

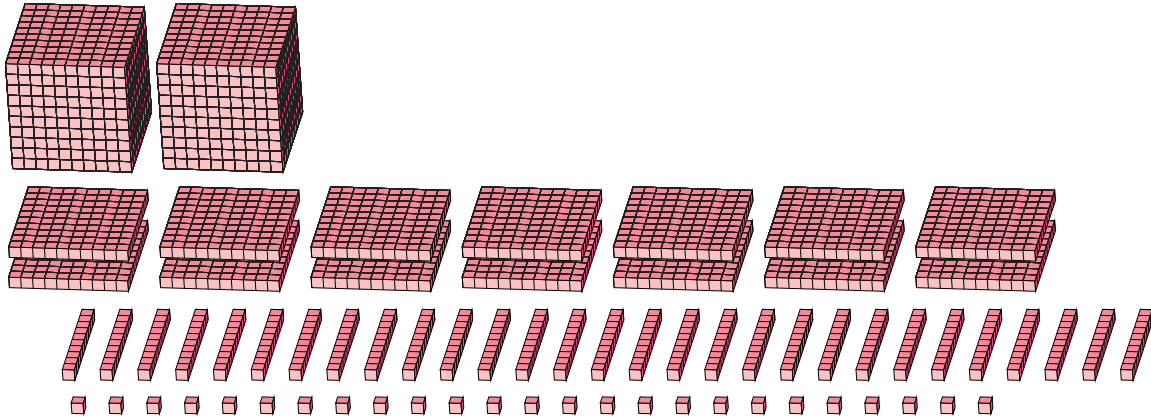
# Reagrupar Bloques Base Diez (B)

Nombre: \_\_\_\_\_

Fecha: \_\_\_\_\_

¿Qué número se muestra en cada grupo de bloques base diez?

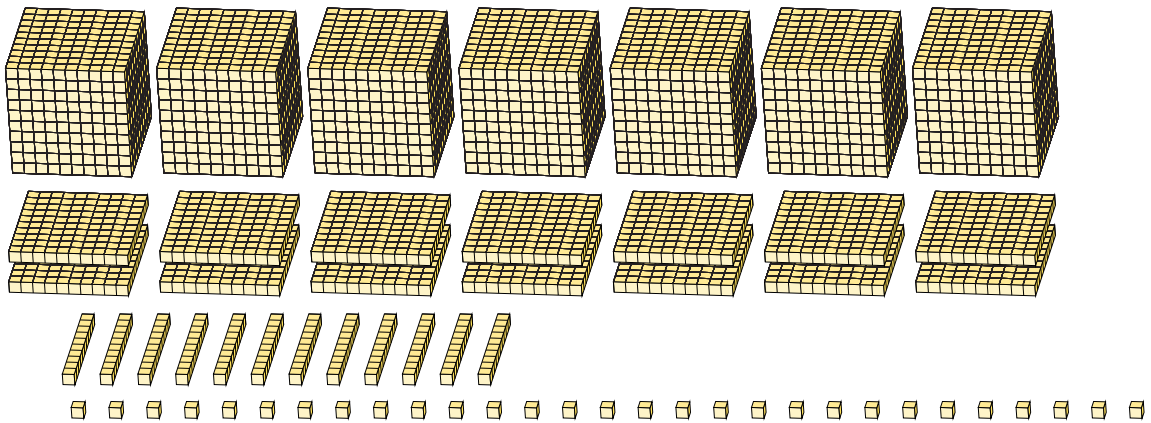
1.



Forma Expandida

Forma Estándar

2.



Forma Expandida

Forma Estándar

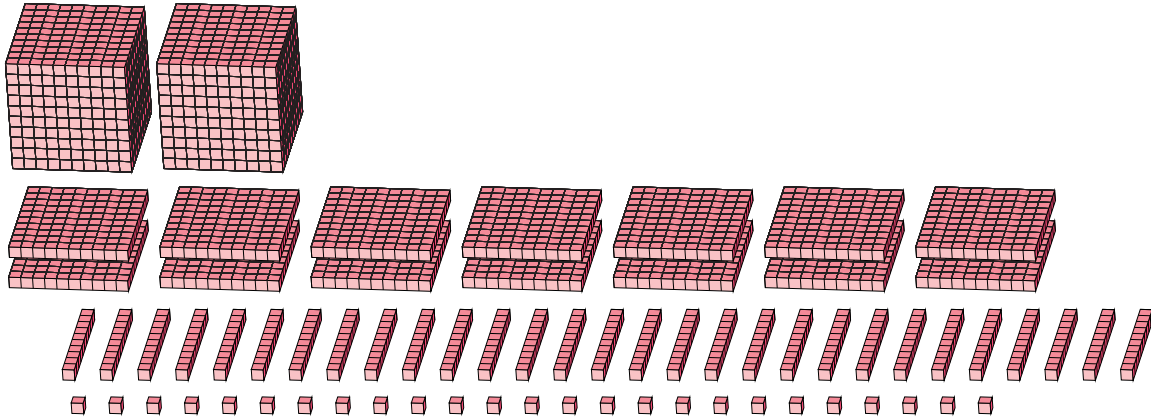
# Reagrupar Bloques Base Diez (B) Respuestas

Nombre: \_\_\_\_\_

Fecha: \_\_\_\_\_

¿Qué número se muestra en cada grupo de bloques base diez?

1.



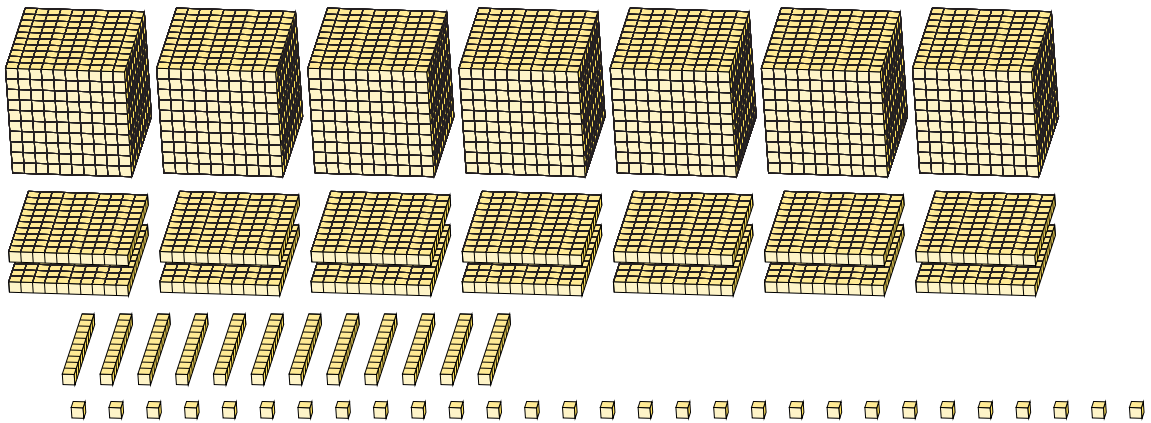
Forma Expandida

Forma Estándar

$$\begin{aligned}
 &(2 \times 1000) + (14 \times 100) + (29 \times 10) + (25 \times 1) \\
 &(3 \times 1000) + (7 \times 100) + (1 \times 10) + (5 \times 1) \\
 &3000 + 700 + 10 + 5
 \end{aligned}$$

3715

2.



Forma Expandida

Forma Estándar

$$\begin{aligned}
 &(7 \times 1000) + (14 \times 100) + (12 \times 10) + (29 \times 1) \\
 &(8 \times 1000) + (5 \times 100) + (4 \times 10) + (9 \times 1) \\
 &8000 + 500 + 40 + 9
 \end{aligned}$$

8549