

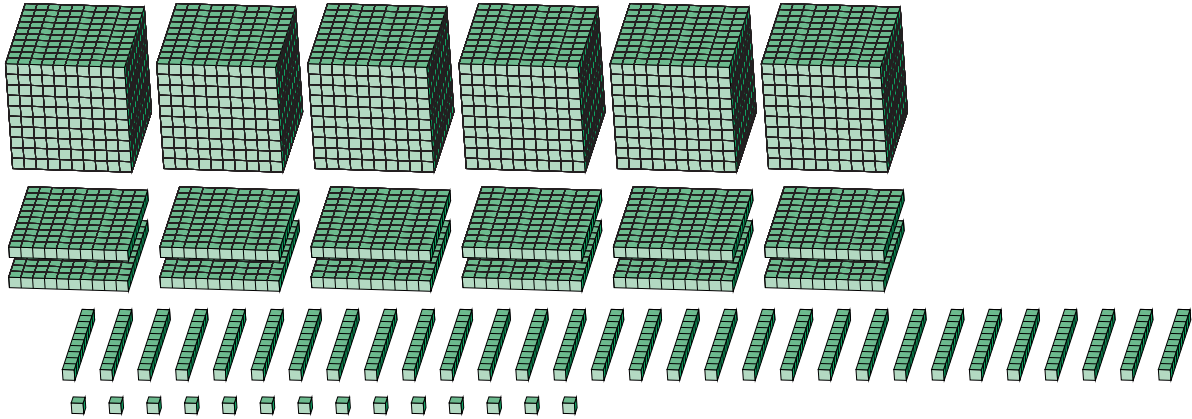
Reagrupar Bloques Base Diez (E)

Nombre: _____

Fecha: _____

¿Qué número se muestra en cada grupo de bloques base diez?

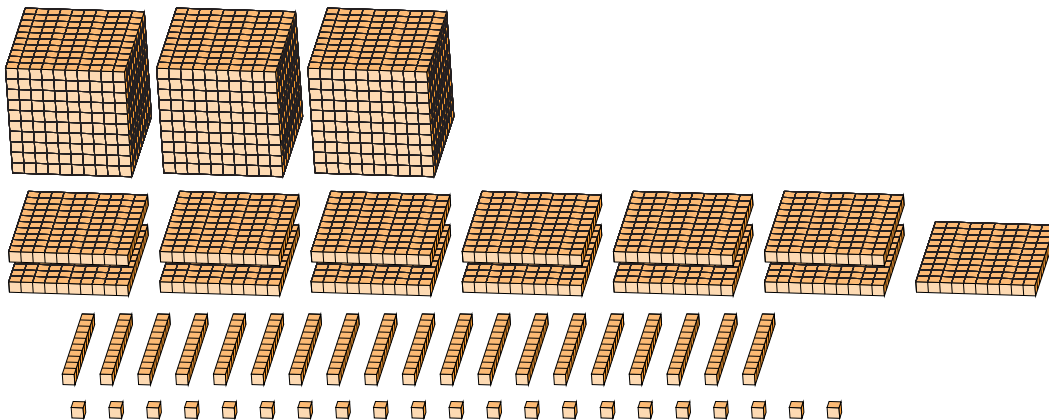
1.



Forma Expandida

Forma Estándar

2.



Forma Expandida

Forma Estándar

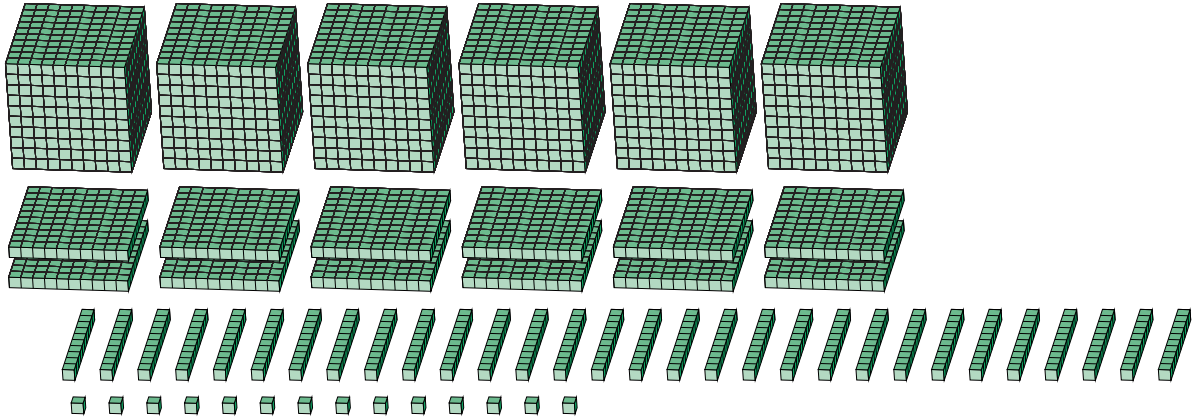
Reagrupar Bloques Base Diez (E) Respuestas

Nombre: _____

Fecha: _____

¿Qué número se muestra en cada grupo de bloques base diez?

1.



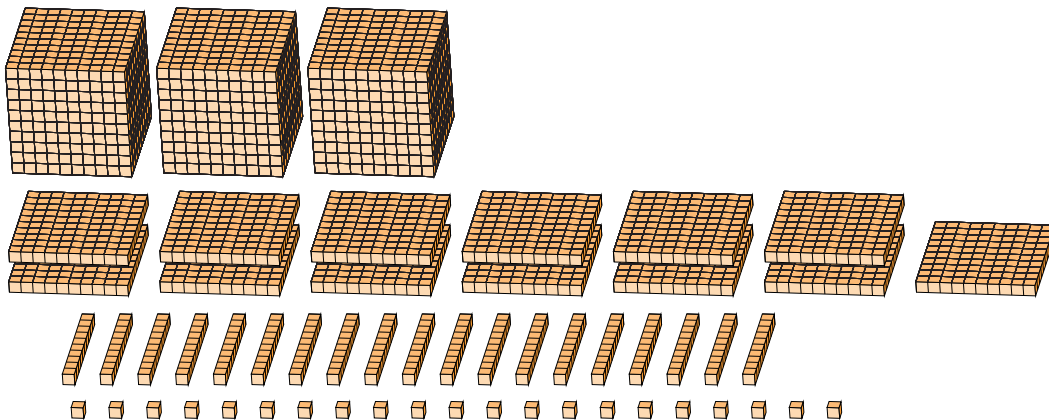
Forma Expandida

Forma Estándar

$$\begin{aligned}
 &(6 \times 1000) + (12 \times 100) + (30 \times 10) + (14 \times 1) \\
 &(7 \times 1000) + (5 \times 100) + (1 \times 10) + (4 \times 1) \\
 &7000 + 500 + 10 + 4
 \end{aligned}$$

7514

2.



Forma Expandida

Forma Estándar

$$\begin{aligned}
 &(3 \times 1000) + (13 \times 100) + (19 \times 10) + (21 \times 1) \\
 &(4 \times 1000) + (5 \times 100) + (1 \times 10) + (1 \times 1) \\
 &4000 + 500 + 10 + 1
 \end{aligned}$$

4511