

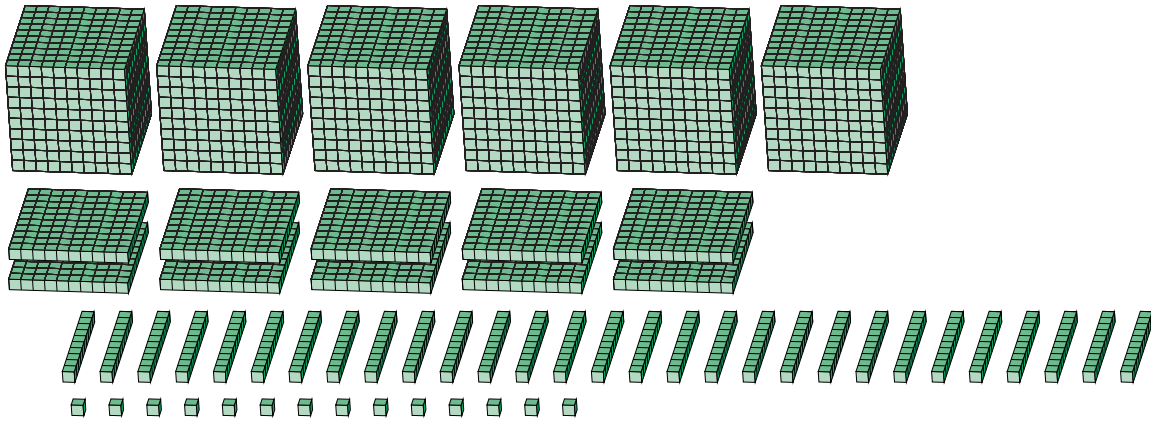
Reagrupar Bloques Base Diez (G)

Nombre: _____

Fecha: _____

¿Qué número se muestra en cada grupo de bloques base diez?

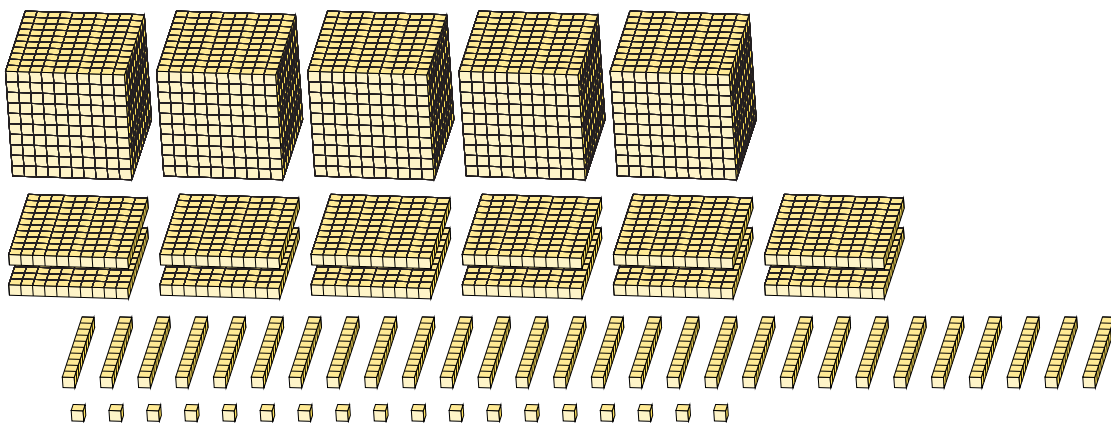
1.



Forma Expandida

Forma Estándar

2.



Forma Expandida

Forma Estándar

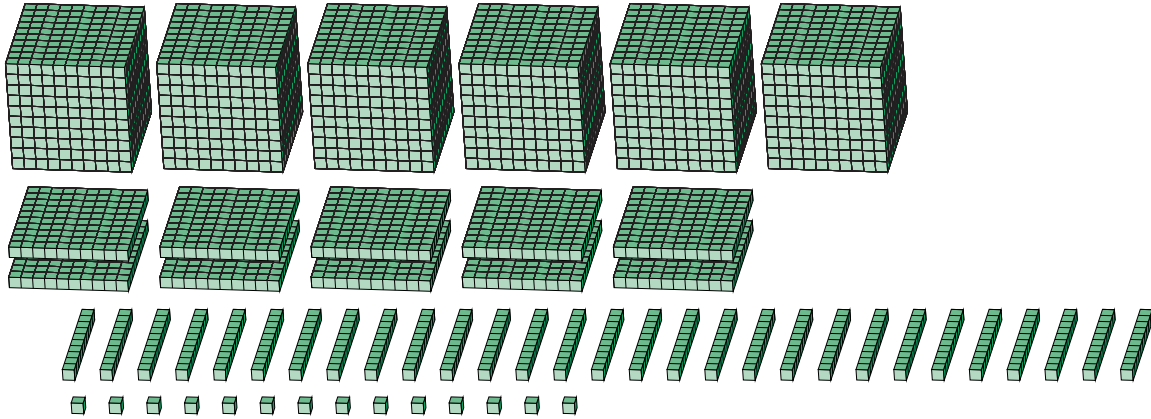
Reagrupar Bloques Base Diez (G) Respuestas

Nombre: _____

Fecha: _____

¿Qué número se muestra en cada grupo de bloques base diez?

1.



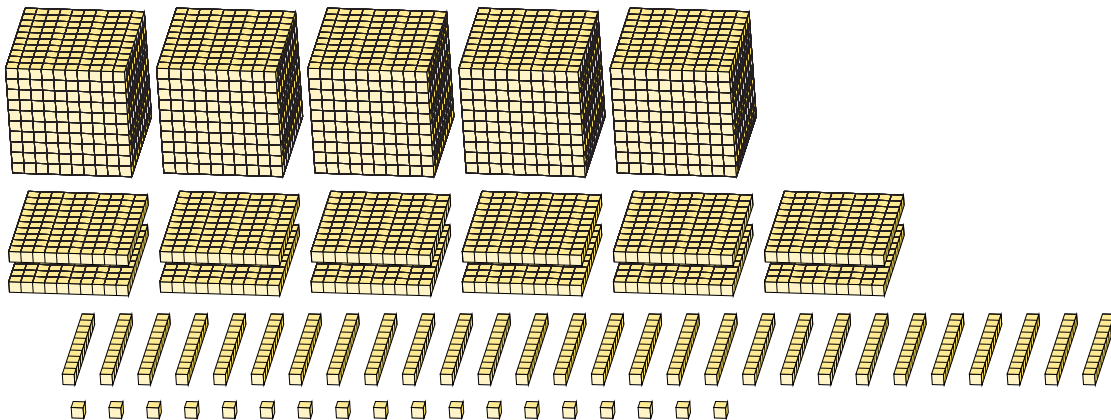
Forma Expandida

Forma Estándar

$$\begin{aligned}
 &(6 \times 1000) + (10 \times 100) + (29 \times 10) + (14 \times 1) \\
 &(7 \times 1000) + (3 \times 100) + (0 \times 10) + (4 \times 1) \\
 &7000 + 300 + 0 + 4
 \end{aligned}$$

7304

2.



Forma Expandida

Forma Estándar

$$\begin{aligned}
 &(5 \times 1000) + (12 \times 100) + (28 \times 10) + (18 \times 1) \\
 &(6 \times 1000) + (4 \times 100) + (9 \times 10) + (8 \times 1) \\
 &6000 + 400 + 90 + 8
 \end{aligned}$$

6498