

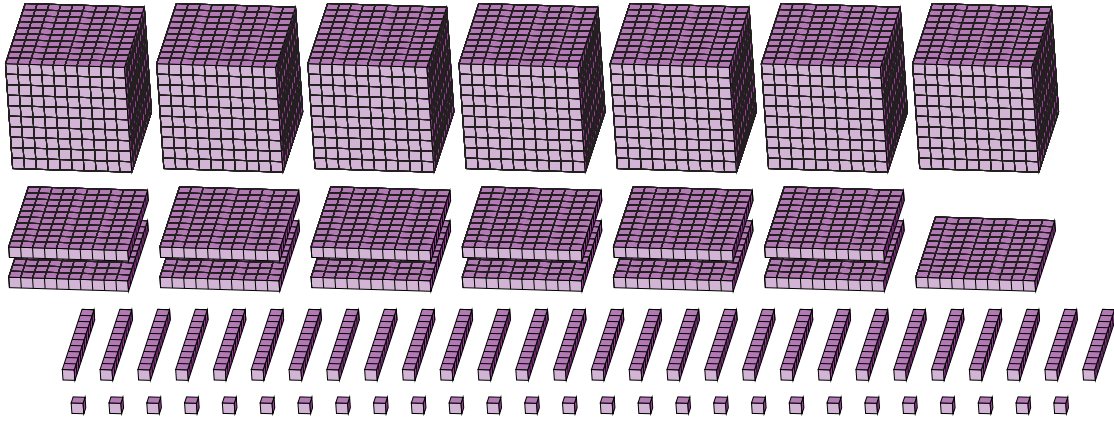
Reagrupar Bloques Base Diez (H)

Nombre: _____

Fecha: _____

¿Qué número se muestra en cada grupo de bloques base diez?

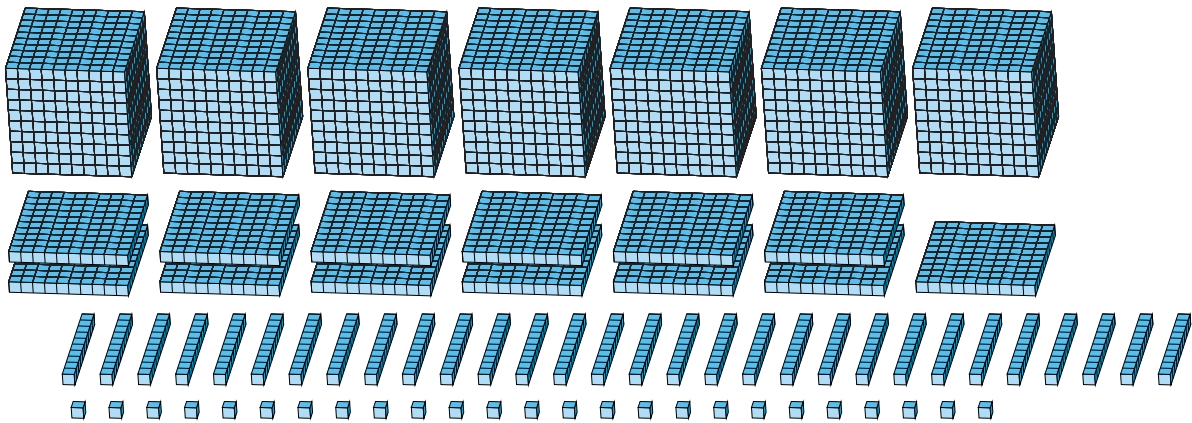
1.



Forma Expandida

Forma Estándar

2.



Forma Expandida

Forma Estándar

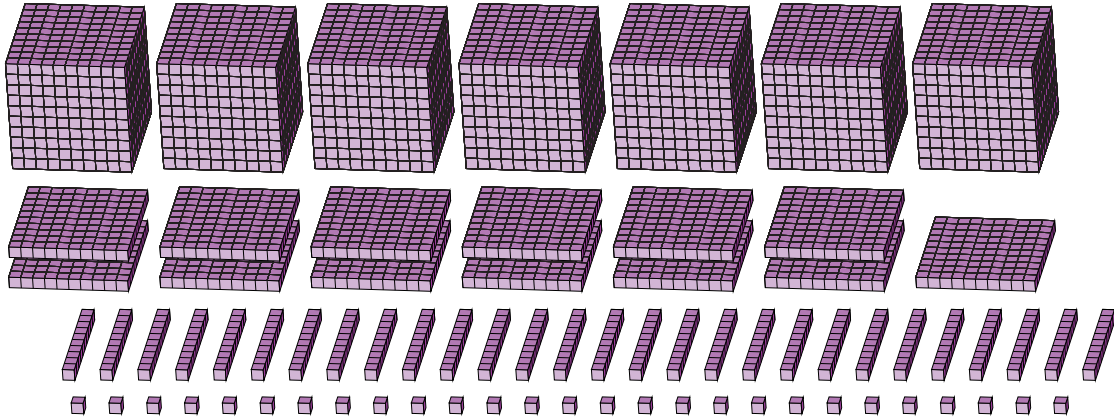
Reagrupar Bloques Base Diez (H) Respuestas

Nombre: _____

Fecha: _____

¿Qué número se muestra en cada grupo de bloques base diez?

1.



Forma Expandida

Forma Estándar

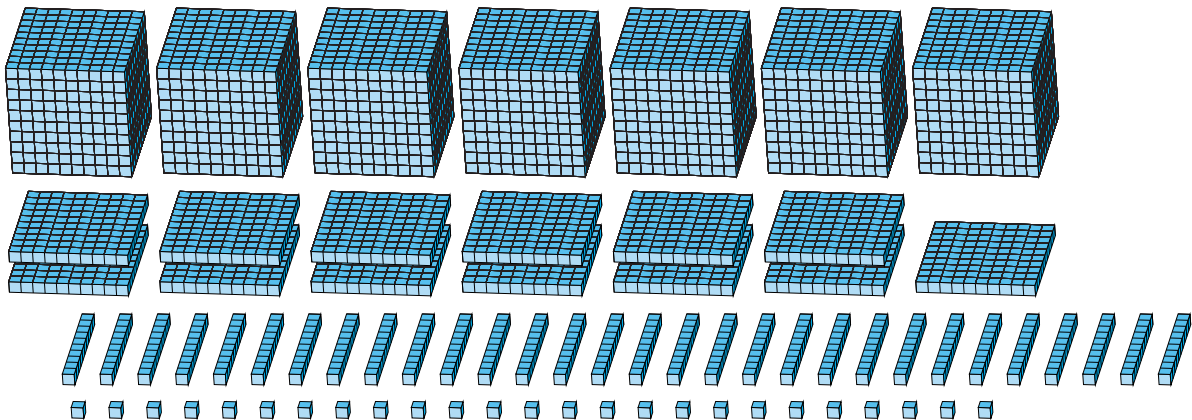
$$(7 \times 1000) + (13 \times 100) + (28 \times 10) + (27 \times 1)$$

$$(8 \times 1000) + (6 \times 100) + (0 \times 10) + (7 \times 1)$$

$$8000 + 600 + 0 + 7$$

8607

2.



Forma Expandida

Forma Estándar

$$(7 \times 1000) + (13 \times 100) + (30 \times 10) + (25 \times 1)$$

$$(8 \times 1000) + (6 \times 100) + (2 \times 10) + (5 \times 1)$$

$$8000 + 600 + 20 + 5$$

8625