

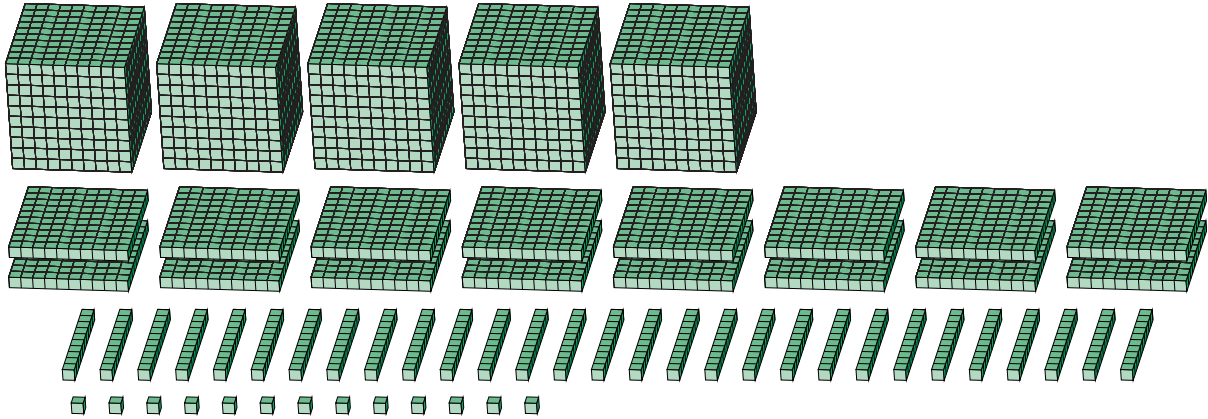
Reagrupar Bloques Base Diez (I)

Nombre: _____

Fecha: _____

¿Qué número se muestra en cada grupo de bloques base diez?

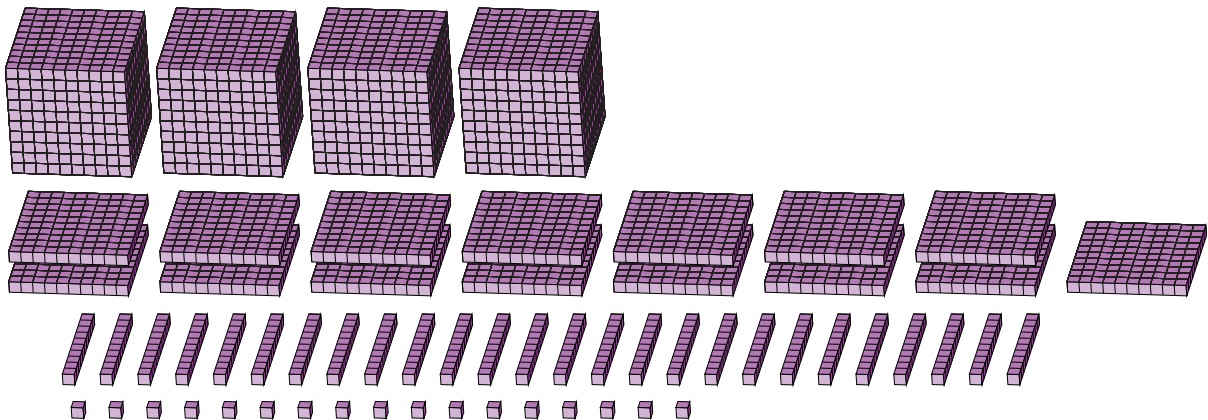
1.



Forma Expandida

Forma Estándar

2.



Forma Expandida

Forma Estándar

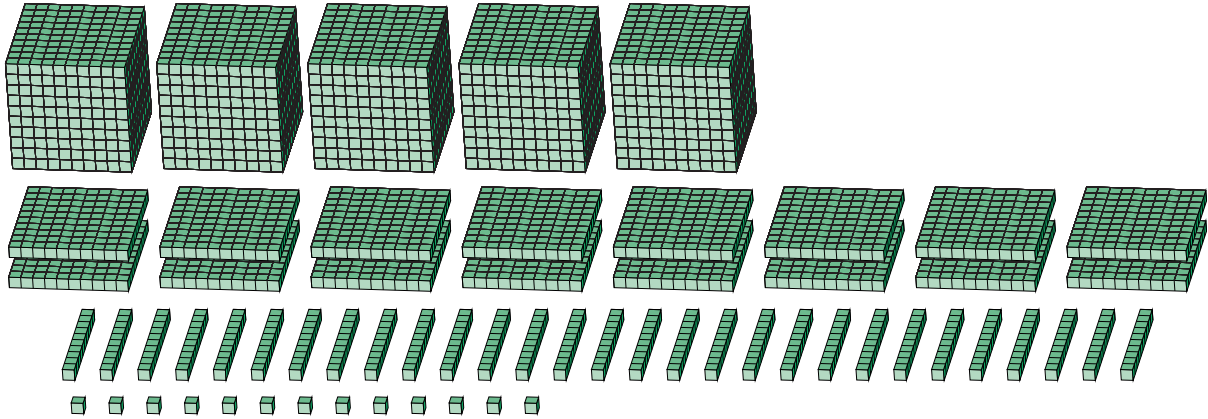
Reagrupar Bloques Base Diez (I) Respuestas

Nombre: _____

Fecha: _____

¿Qué número se muestra en cada grupo de bloques base diez?

1.



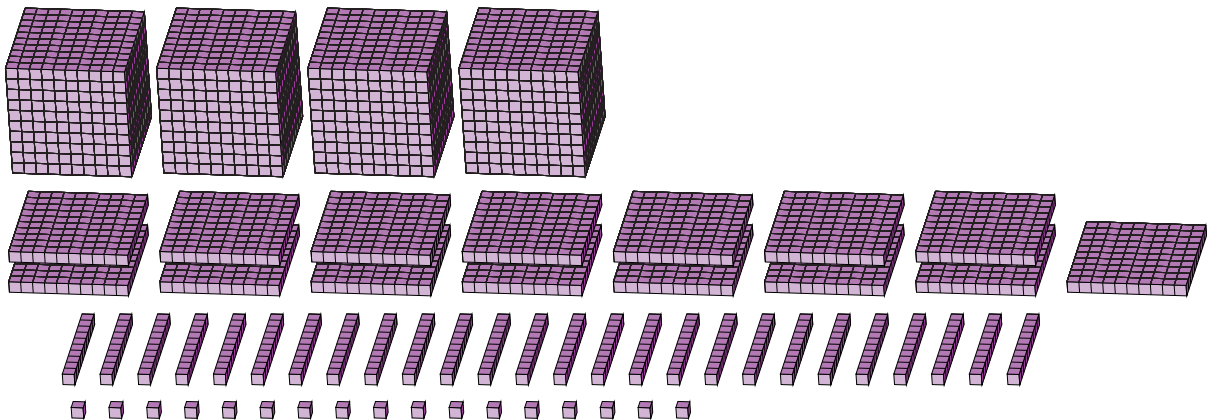
Forma Expandida

Forma Estándar

$$\begin{aligned}
 &(5 \times 1000) + (16 \times 100) + (29 \times 10) + (13 \times 1) \\
 &(6 \times 1000) + (9 \times 100) + (0 \times 10) + (3 \times 1) \\
 &6000 + 900 + 0 + 3
 \end{aligned}$$

6903

2.



Forma Expandida

Forma Estándar

$$\begin{aligned}
 &(4 \times 1000) + (15 \times 100) + (26 \times 10) + (17 \times 1) \\
 &(5 \times 1000) + (7 \times 100) + (7 \times 10) + (7 \times 1) \\
 &5000 + 700 + 70 + 7
 \end{aligned}$$

5777