

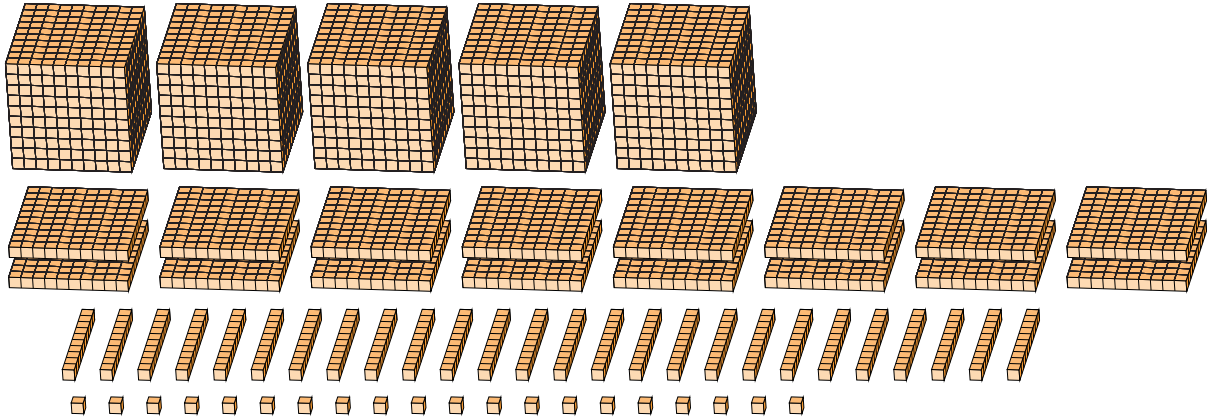
Reagrupar Bloques Base Diez (J)

Nombre: _____

Fecha: _____

¿Qué número se muestra en cada grupo de bloques base diez?

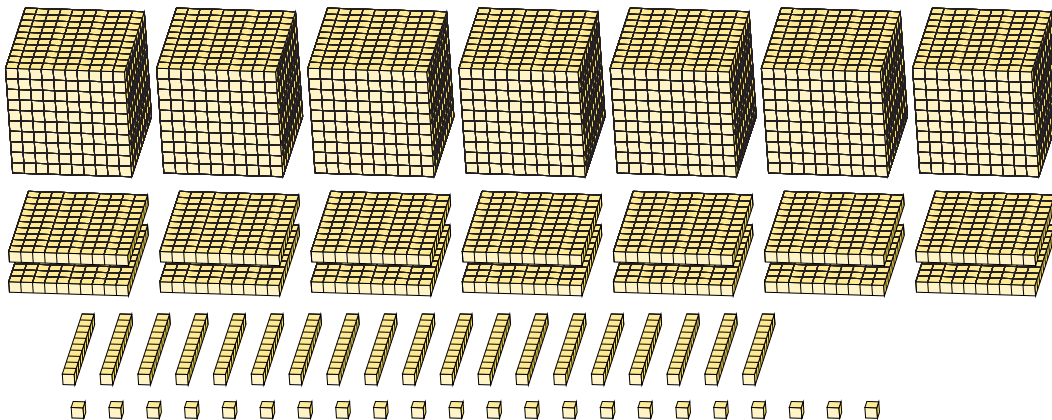
1.



Forma Expandida

Forma Estándar

2.



Forma Expandida

Forma Estándar

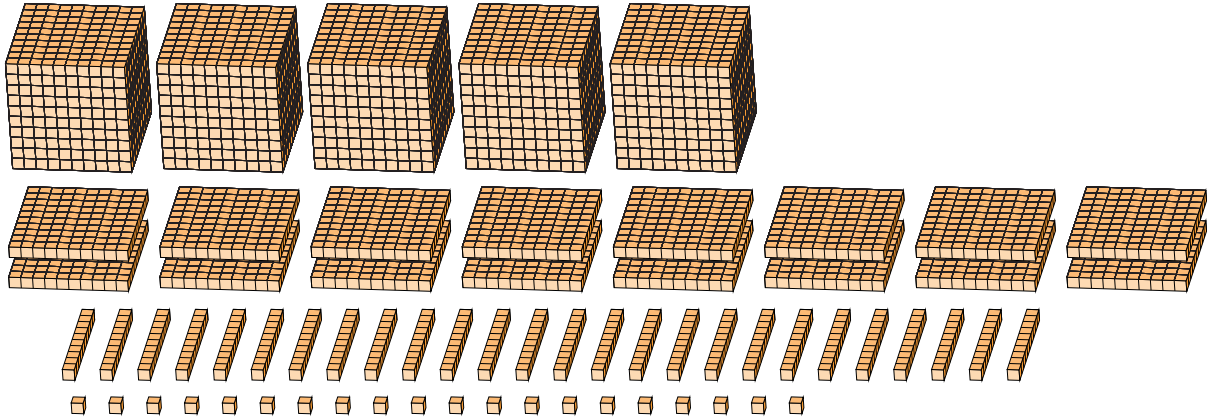
Reagrupar Bloques Base Diez (J) Respuestas

Nombre: _____

Fecha: _____

¿Qué número se muestra en cada grupo de bloques base diez?

1.



Forma Expandida

Forma Estándar

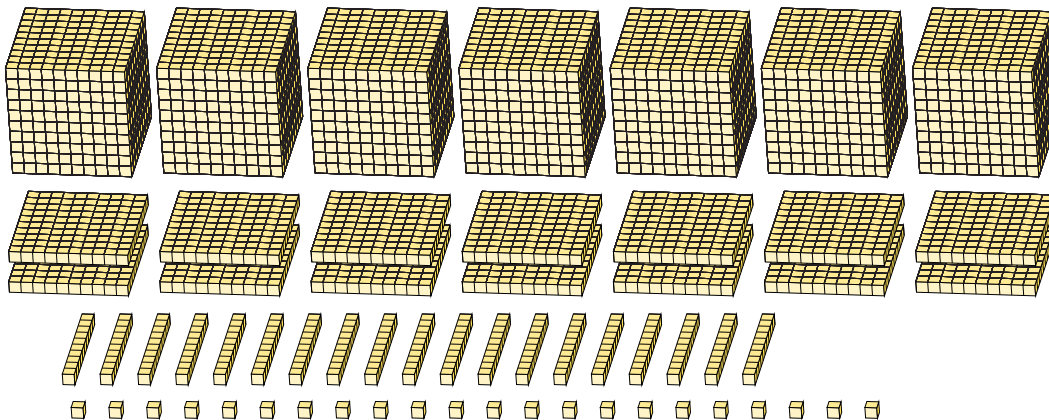
$$(5 \times 1000) + (16 \times 100) + (26 \times 10) + (20 \times 1)$$

$$(6 \times 1000) + (8 \times 100) + (8 \times 10) + (0 \times 1)$$

$$6000 + 800 + 80 + 0$$

6880

2.



Forma Expandida

Forma Estándar

$$(7 \times 1000) + (14 \times 100) + (19 \times 10) + (22 \times 1)$$

$$(8 \times 1000) + (6 \times 100) + (1 \times 10) + (2 \times 1)$$

$$8000 + 600 + 10 + 2$$

8612