

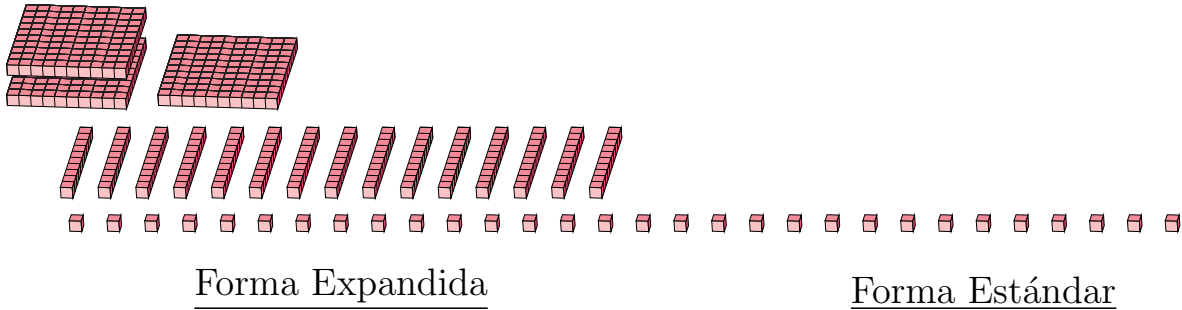
Reagrupar Bloques Base Diez (F)

Nombre: _____

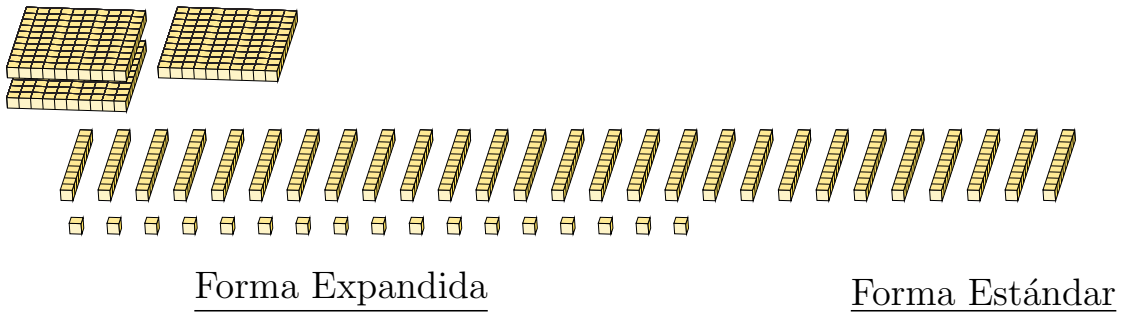
Fecha: _____

¿Qué número se muestra en cada grupo de bloques base diez?

1.



2.



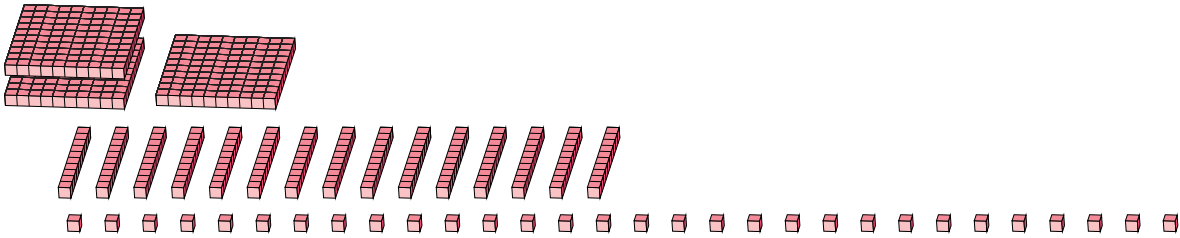
Reagrupar Bloques Base Diez (F) Respuestas

Nombre: _____

Fecha: _____

¿Qué número se muestra en cada grupo de bloques base diez?

1.



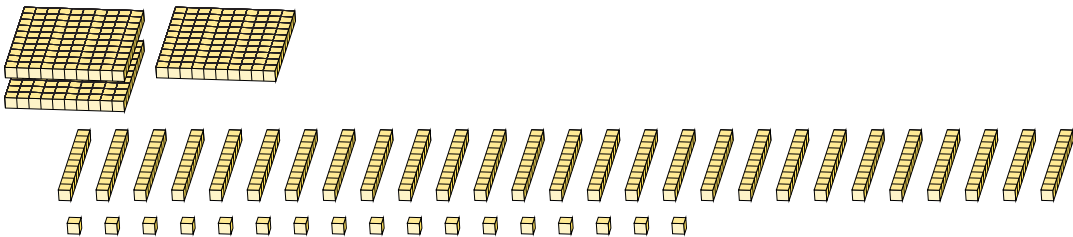
Forma Expandida

$$\begin{aligned} &(3 \times 100) + (15 \times 10) + (30 \times 1) \\ &(4 \times 100) + (8 \times 10) + (0 \times 1) \\ &400 + 80 + 0 \end{aligned}$$

Forma Estándar

480

2.



Forma Expandida

$$\begin{aligned} &(1 \times 100) + (27 \times 10) + (17 \times 1) \\ &(3 \times 100) + (8 \times 10) + (7 \times 1) \\ &300 + 80 + 7 \end{aligned}$$

Forma Estándar

387