

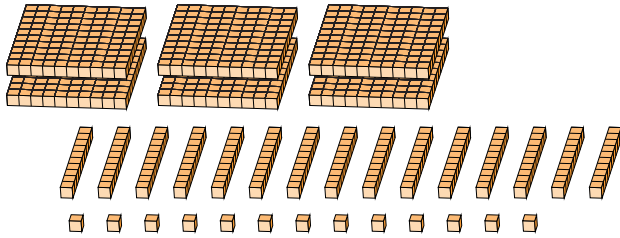
Reagrupar Bloques Base Diez (D)

Nombre: _____

Fecha: _____

¿Qué número se muestra en cada grupo de bloques base diez?

1.

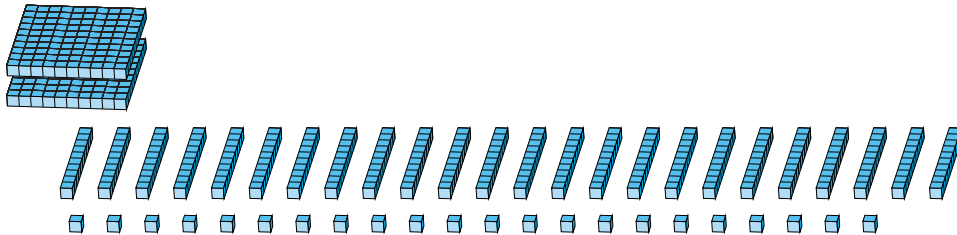


centenas decenas unidades

→
reagrupar

--	--	--

2.



centenas decenas unidades

→
reagrupar

--	--	--

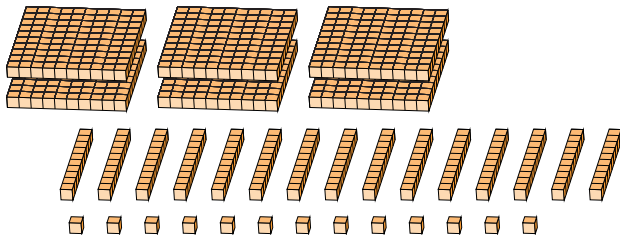
Reagrupar Bloques Base Diez (D) Respuestas

Nombre: _____

Fecha: _____

¿Qué número se muestra en cada grupo de bloques base diez?

1.

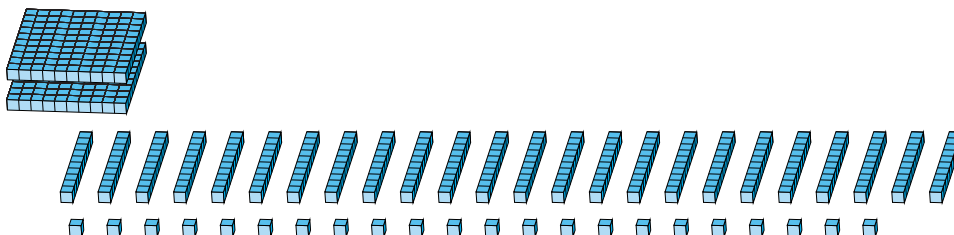


6	15	13
centenas	decenas	unidades

→
reagrupar

7	6	3
---	---	---

2.



2	24	22
centenas	decenas	unidades

→
reagrupar

4	6	2
---	---	---