

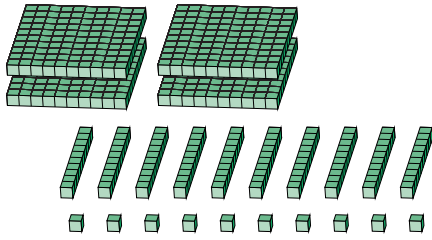
# Reagrupar Bloques Base Diez (E)

Nombre: \_\_\_\_\_

Fecha: \_\_\_\_\_

¿Qué número se muestra en cada grupo de bloques base diez?

1.

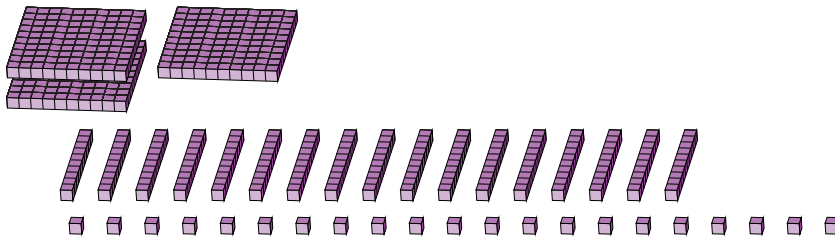


             
centenas    decenas    unidades

→  
reagrupar

--	--	--

2.



             
centenas    decenas    unidades

→  
reagrupar

--	--	--

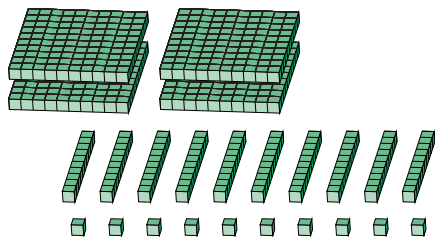
# Reagrupar Bloques Base Diez (E) Respuestas

Nombre: \_\_\_\_\_

Fecha: \_\_\_\_\_

¿Qué número se muestra en cada grupo de bloques base diez?

1.




4	10	10
centenas	decenas	unidades

→  
reagrupar

5	1	0
---	---	---

2.



1	17	21
centenas	decenas	unidades

→  
reagrupar

2	9	1
---	---	---