

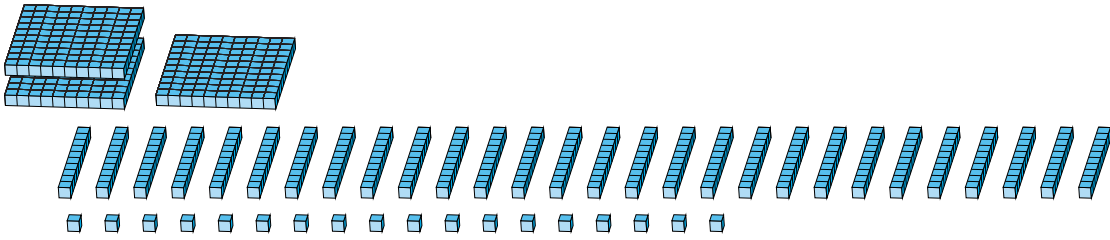
Reagrupar Bloques Base Diez (H)

Nombre: _____


Fecha: _____

¿Qué número se muestra en cada grupo de bloques base diez?

1.



2.



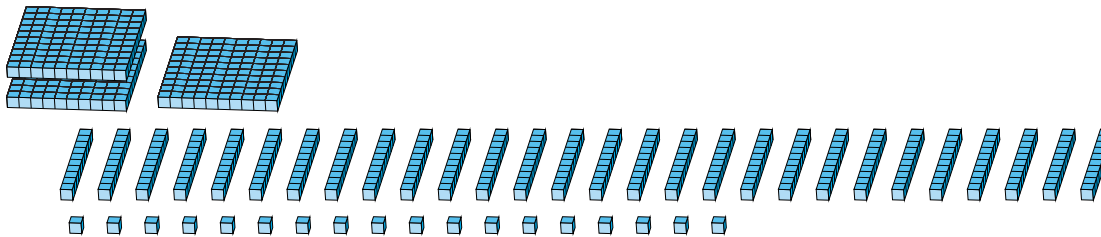
Reagrupar Bloques Base Diez (H) Respuestas

Nombre: _____

Fecha: _____

¿Qué número se muestra en cada grupo de bloques base diez?

1.



2.

