

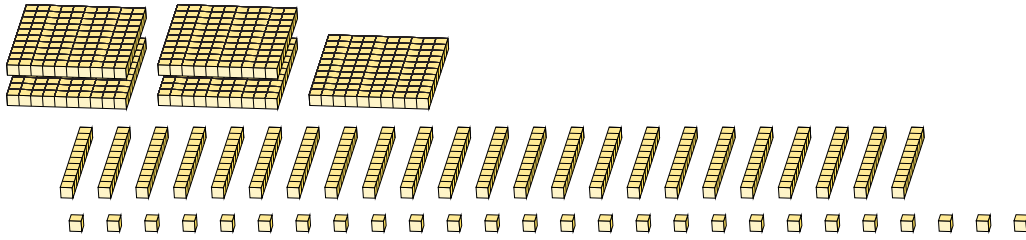
# Reagrupar Bloques Base Diez (I)

Nombre: \_\_\_\_\_

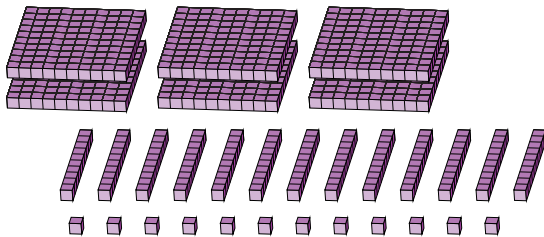
Fecha: \_\_\_\_\_

¿Qué número se muestra en cada grupo de bloques base diez?

1.



2.



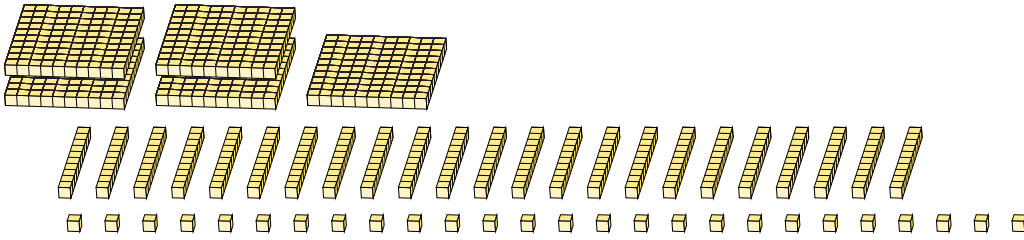
# Reagrupar Bloques Base Diez (I) Respuestas

Nombre: \_\_\_\_\_

Fecha: \_\_\_\_\_

¿Qué número se muestra en cada grupo de bloques base diez?

1.

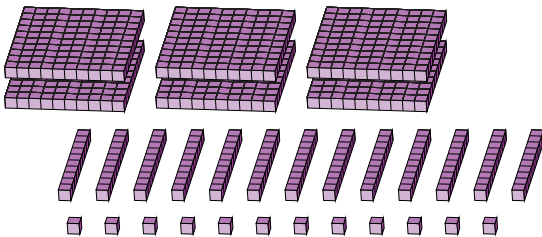


5	23	26
centenas	decenas	unidades

→  
reagrupar

7	5	6
---	---	---

2.



6	13	12
centenas	decenas	unidades

→  
reagrupar

7	4	2
---	---	---