

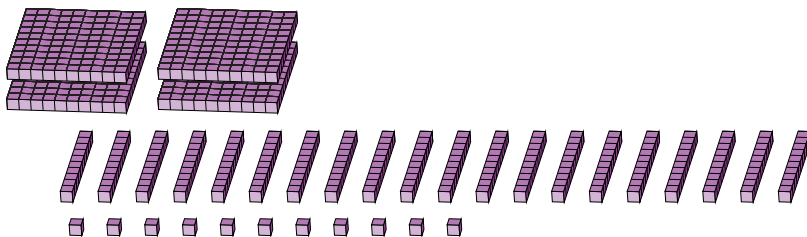
Reagrupar Bloques Base Diez (A)

Nombre: _____

Fecha: _____

¿Qué número se muestra en cada grupo de bloques base diez?

1.



centenas


decenas

unidades

→
reagrupar

<input type="text"/>	<input type="text"/>	<input type="text"/>
----------------------	----------------------	----------------------

2.



centenas

decenas

unidades

→
reagrupar

<input type="text"/>	<input type="text"/>	<input type="text"/>
----------------------	----------------------	----------------------

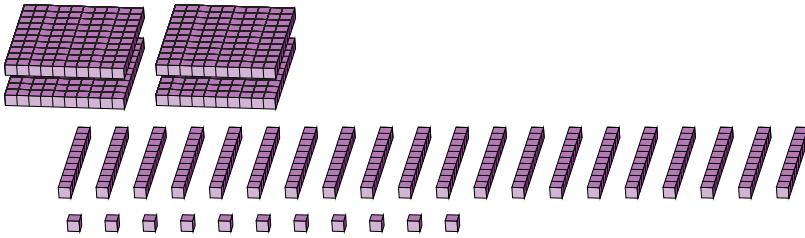
Reagrupar Bloques Base Diez (A) Respuestas

Nombre: _____

Fecha: _____

¿Qué número se muestra en cada grupo de bloques base diez?

1.

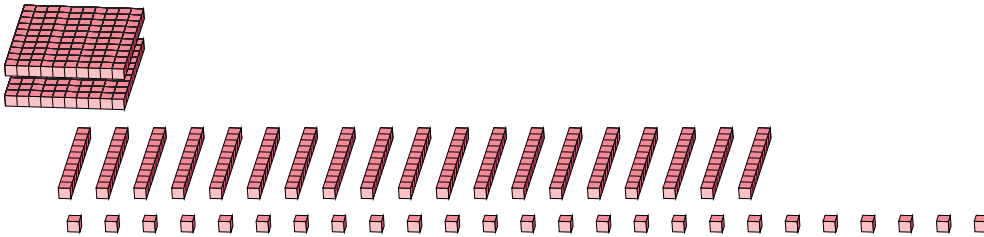


4	20	11
centenas	decenas	unidades

→ reagrupar

6	1	1
---	---	---

2.



2	19	25
centenas	decenas	unidades

→ reagrupar

4	1	5
---	---	---

Reagrupar Bloques Base Diez (B)

Nombre: _____

Fecha: _____

¿Qué número se muestra en cada grupo de bloques base diez?

1.

centenas decenas unidades \longrightarrow reagrupar

2.

centenas decenas unidades \longrightarrow reagrupar

Reagrupar Bloques Base Diez (B) Respuestas

Nombre: _____

Fecha: _____

¿Qué número se muestra en cada grupo de bloques base diez?

1.

The diagram shows base ten blocks representing the number 1328. It consists of 1 hundred block, 3 ten rods, 2 ten rods, and 8 one units. An arrow labeled "reagrupar" points to the regrouped blocks: 2 hundred blocks, 5 ten rods, and 8 one units.

1	13	28	→	2	5	8
centenas	decenas	unidades	reagrupar			

2.

The diagram shows base ten blocks representing the number 6281. It consists of 6 hundred blocks, 2 ten rods, 8 ten rods, and 1 one unit. An arrow labeled "reagrupar" points to the regrouped blocks: 8 hundred blocks, 9 ten rods, and 1 one unit.

6	28	11	→	8	9	1
centenas	decenas	unidades	reagrupar			

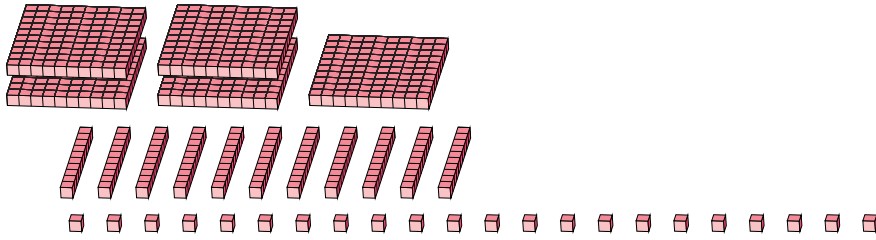
Reagrupar Bloques Base Diez (C)

Nombre: _____

Fecha: _____

¿Qué número se muestra en cada grupo de bloques base diez?

1.

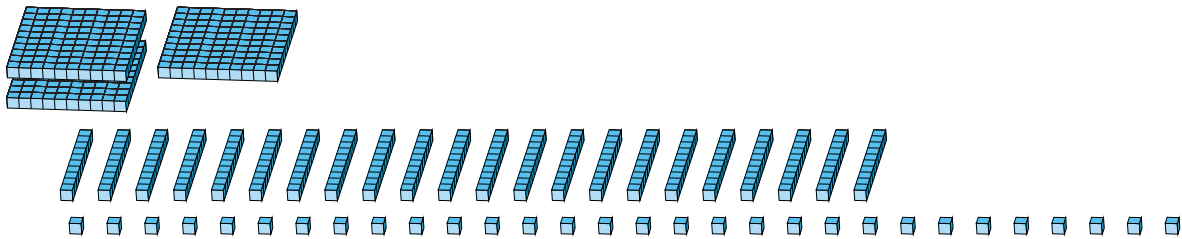


centenas decenas unidades

→
reagrupar

--	--	--

2.



centenas decenas unidades

→
reagrupar

--	--	--

Reagrupar Bloques Base Diez (C) Respuestas

Nombre: _____

Fecha: _____

¿Qué número se muestra en cada grupo de bloques base diez?

1.

Diagram showing base ten blocks representing 5 hundreds, 11 tens, and 22 units. Below the blocks are three boxes labeled 'centenas', 'decenas', and 'unidades' containing the numbers 5, 11, and 22 respectively. An arrow labeled 'reagrupar' points to a three-digit number in a box: 632.

5	11	22
centenas	decenas	unidades

reagrupar

6	3	2
---	---	---

2.

Diagram showing base ten blocks representing 1 hundred, 22 tens, and 30 units. Below the blocks are three boxes labeled 'centenas', 'decenas', and 'unidades' containing the numbers 1, 22, and 30 respectively. An arrow labeled 'reagrupar' points to a three-digit number in a box: 350.

1	22	30
centenas	decenas	unidades

reagrupar

3	5	0
---	---	---

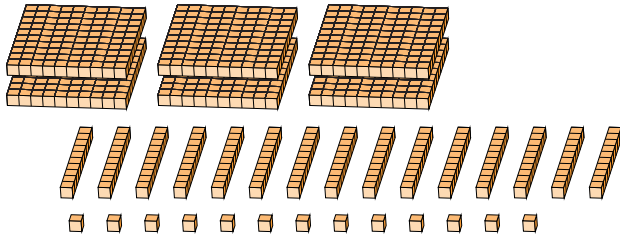
Reagrupar Bloques Base Diez (D)

Nombre: _____

Fecha: _____

¿Qué número se muestra en cada grupo de bloques base diez?

1.

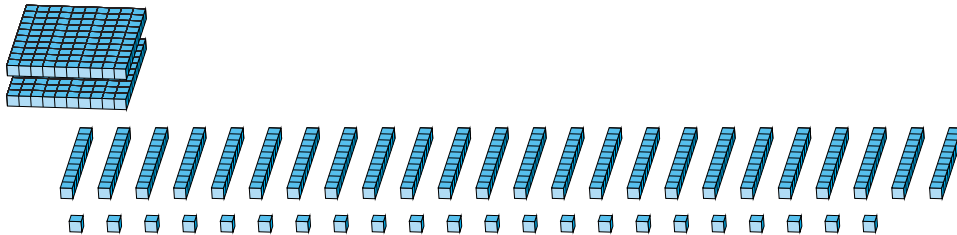


centenas decenas unidades

→
reagrupar

--	--	--

2.



centenas decenas unidades

→
reagrupar

--	--	--

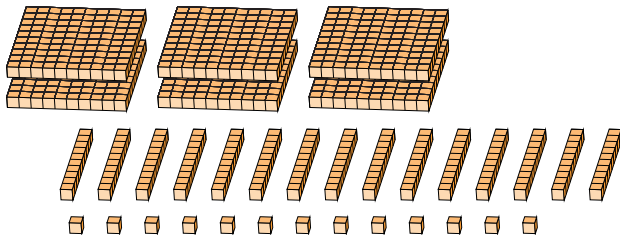
Reagrupar Bloques Base Diez (D) Respuestas

Nombre: _____

Fecha: _____

¿Qué número se muestra en cada grupo de bloques base diez?

1.

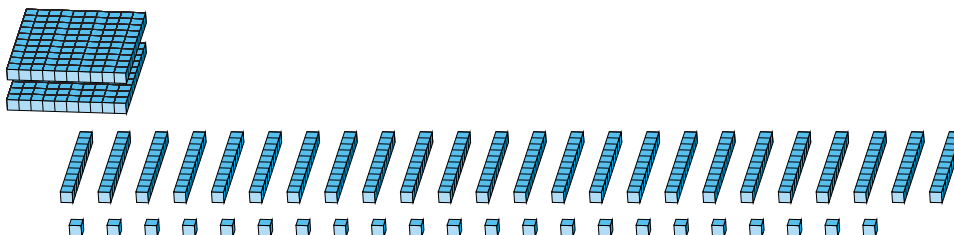


6	15	13
centenas	decenas	unidades

→
reagrupar

7	6	3
---	---	---

2.



2	24	22
centenas	decenas	unidades

→
reagrupar

4	6	2
---	---	---

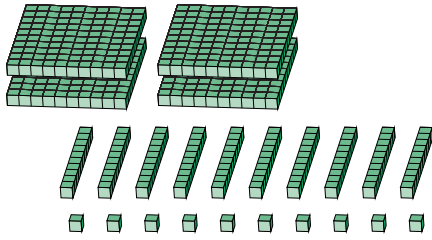
Reagrupar Bloques Base Diez (E)

Nombre: _____

Fecha: _____

¿Qué número se muestra en cada grupo de bloques base diez?

1.

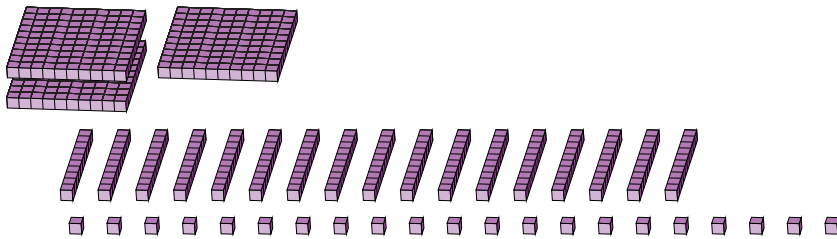


centenas decenas unidades

→
reagrupar

--	--	--

2.



centenas decenas unidades

→
reagrupar

--	--	--

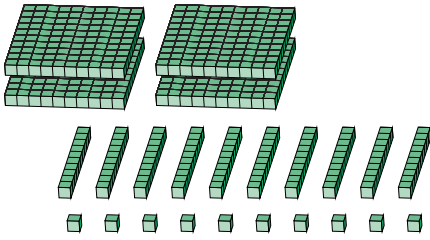
Reagrupar Bloques Base Diez (E) Respuestas

Nombre: _____

Fecha: _____

¿Qué número se muestra en cada grupo de bloques base diez?

1.



4

 centenas

10

 decenas

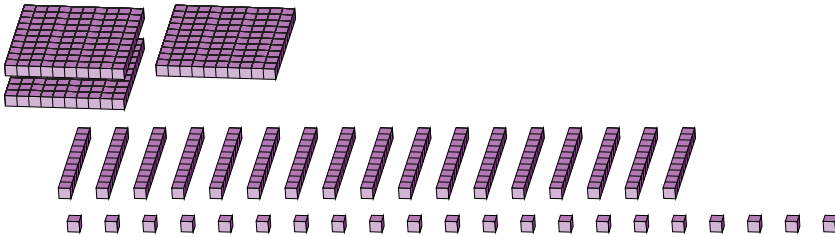
10

 unidades

→
reagrupar

5	1	0
---	---	---

2.



1

 centenas

17

 decenas

21

 unidades

→
reagrupar

2	9	1
---	---	---

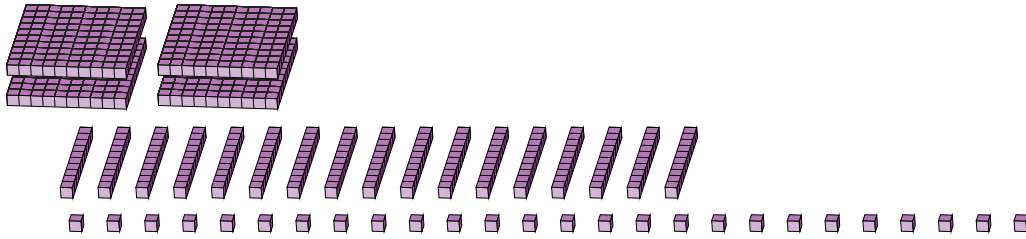
Reagrupar Bloques Base Diez (F)

Nombre: _____

Fecha: _____

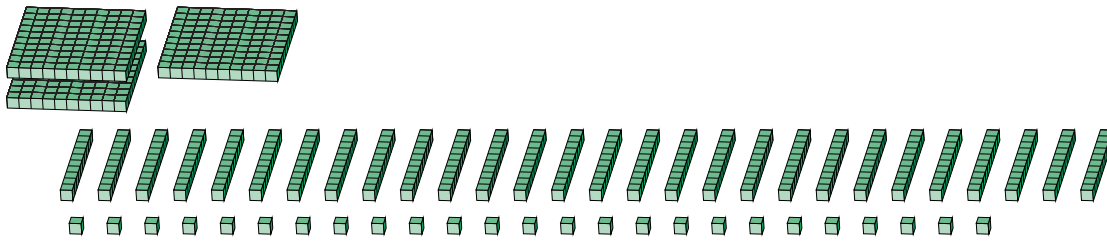
¿Qué número se muestra en cada grupo de bloques base diez?

1.



centenas decenas unidades \longrightarrow reagrupar

2.



centenas decenas unidades \longrightarrow reagrupar


Reagrupar Bloques Base Diez (F) Respuestas

Nombre: _____

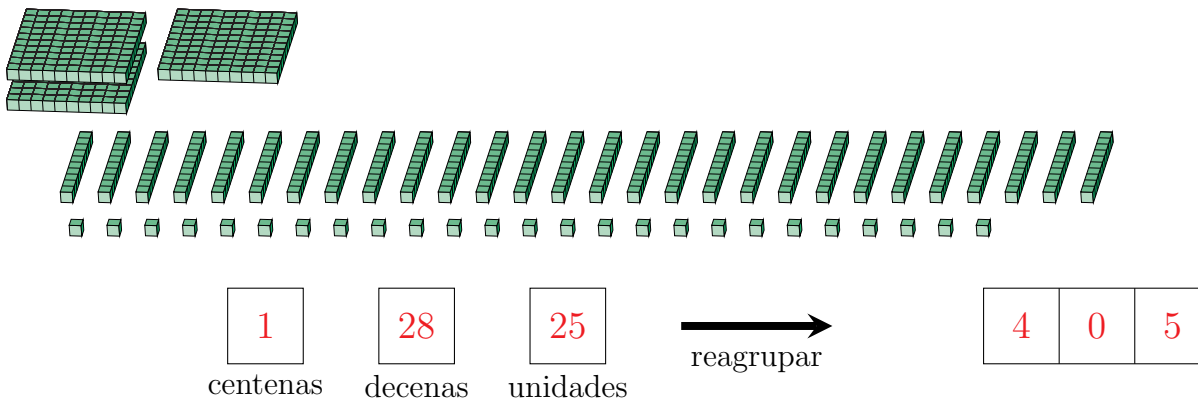
Fecha: _____

¿Qué número se muestra en cada grupo de bloques base diez?

1.



2.




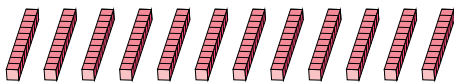
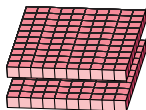
Reagrupar Bloques Base Diez (G)

Nombre: _____

Fecha: _____

¿Qué número se muestra en cada grupo de bloques base diez?

1.



centenas



decenas



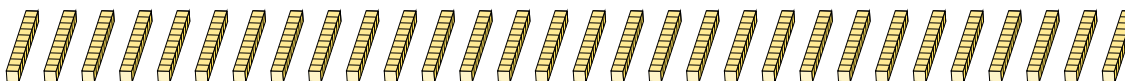
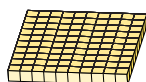

unidades



reagrupar



2.



centenas




decenas



unidades



reagrupar



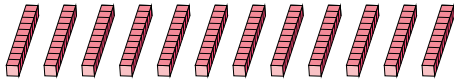
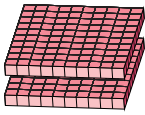
Reagrupar Bloques Base Diez (G) Respuestas

Nombre: _____

Fecha: _____

¿Qué número se muestra en cada grupo de bloques base diez?

1.


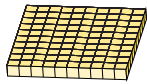
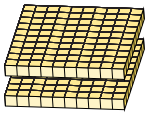


2	12	20
centenas	decenas	unidades

→
reagrupar

3	4	0
---	---	---

2.



3	30	15
centenas	decenas	unidades

→
reagrupar

6	1	5
---	---	---

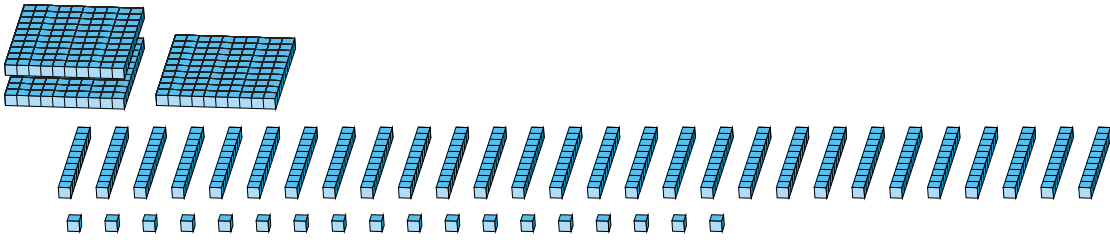
Reagrupar Bloques Base Diez (H)

Nombre: _____


Fecha: _____

¿Qué número se muestra en cada grupo de bloques base diez?

1.



2.



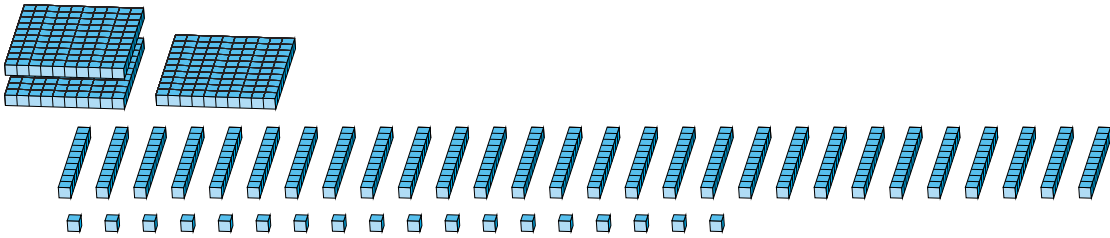
Reagrupar Bloques Base Diez (H) Respuestas

Nombre: _____

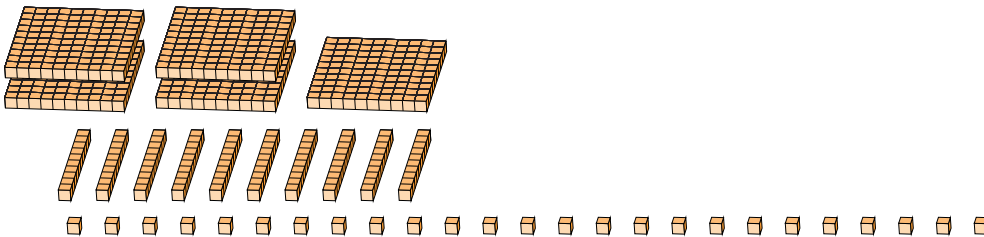
Fecha: _____

¿Qué número se muestra en cada grupo de bloques base diez?

1.



2.



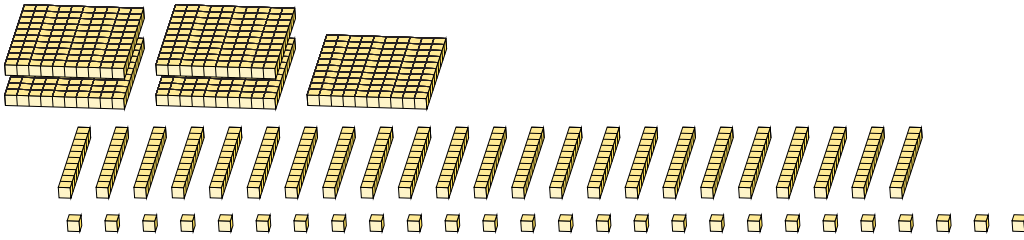
Reagrupar Bloques Base Diez (I)

Nombre: _____

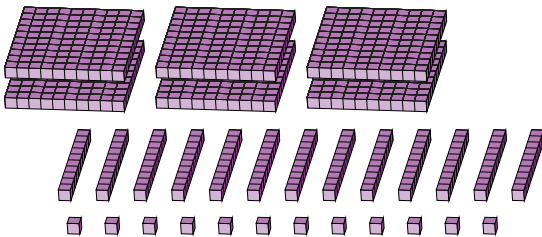
Fecha: _____

¿Qué número se muestra en cada grupo de bloques base diez?

1.



2.



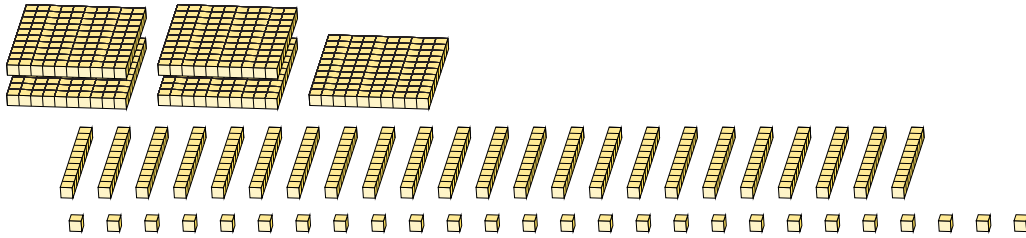
Reagrupar Bloques Base Diez (I) Respuestas

Nombre: _____

Fecha: _____

¿Qué número se muestra en cada grupo de bloques base diez?

1.

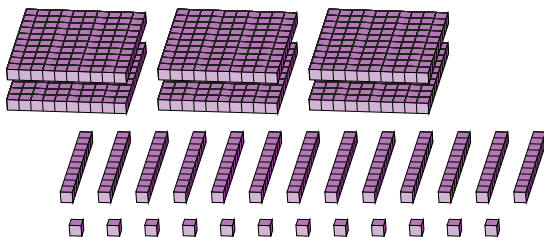


5	23	26
centenas	decenas	unidades

→
reagrupar

7	5	6
---	---	---

2.



6	13	12
centenas	decenas	unidades

→
reagrupar

7	4	2
---	---	---

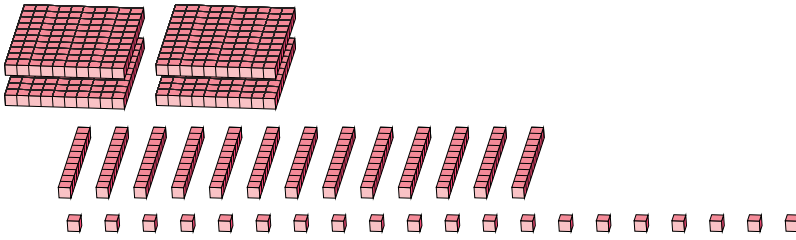
Reagrupar Bloques Base Diez (J)

Nombre: _____

Fecha: _____

¿Qué número se muestra en cada grupo de bloques base diez?

1.

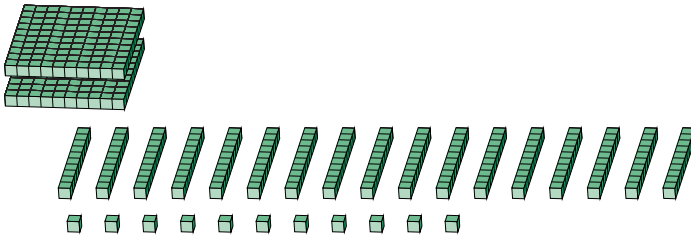


centenas decenas unidades

→
reagrupar

--	--	--

2.



centenas decenas unidades

→
reagrupar

--	--	--

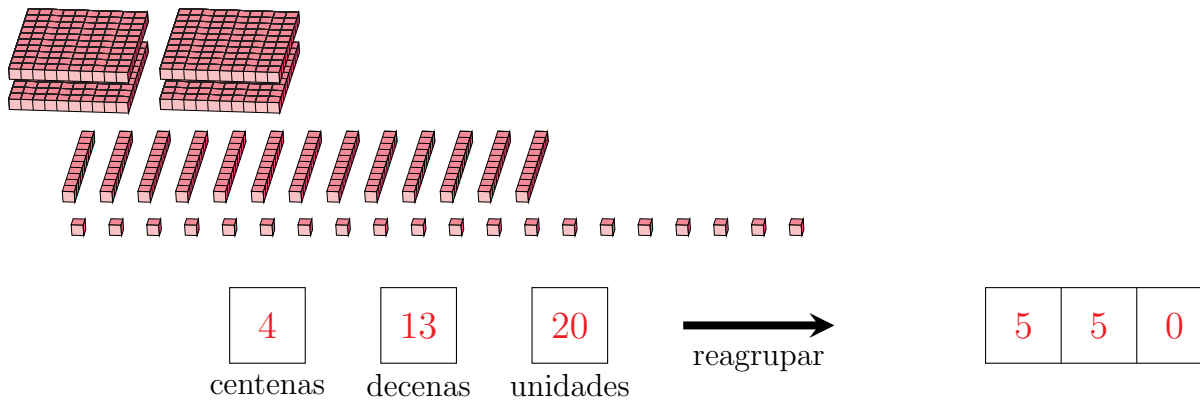
Reagrupar Bloques Base Diez (J) Respuestas

Nombre: _____

Fecha: _____

¿Qué número se muestra en cada grupo de bloques base diez?

1.



2.

