

# Contar Monedas Norteamericanas (H)

¿Cuánto vale cada conjunto de monedas?

1.



\$ \_\_\_\_\_

2.




\$ \_\_\_\_\_

3.



\$ \_\_\_\_\_

4.



\$ \_\_\_\_\_

5.



\$ \_\_\_\_\_

6.



\$ \_\_\_\_\_

Todas las imágenes fueron proporcionadas por la Casa de Moneda de Estados Unidos de América.

# Contar Monedas Norteamericanas (H) Respuestas

¿Cuánto vale cada conjunto de monedas?

1.



\$1.55

2.



\$2.60

3.




\$1.85

4.




\$1.65

5.



\$2.55

6.



\$2.30

Todas las imágenes fueron proporcionadas por la Casa de Moneda de Estados Unidos de América.