

Contar Monedas Norteamericanas (J)

¿Cuánto vale cada conjunto de monedas?

1.




\$ _____

2.



\$ _____

3.




\$ _____

4.




\$ _____

5.



\$ _____

6.



\$ _____

Todas las imágenes fueron proporcionadas por la Casa de Moneda de Estados Unidos de América.

Contar Monedas Norteamericanas (J) Respuestas

¿Cuánto vale cada conjunto de monedas?

1.



\$0.72

2.



\$0.97

3.



\$0.71

4.



\$1.07

5.



\$0.22

6.



\$0.27

Todas las imágenes fueron proporcionadas por la Casa de Moneda de Estados Unidos de América.