

# Contar Monedas Norteamericanas (A)

¿Cuánto vale cada conjunto de monedas?

1.




\$ \_\_\_\_\_

2.




\$ \_\_\_\_\_

3.




\$ \_\_\_\_\_

4.



\$ \_\_\_\_\_

5.



\$ \_\_\_\_\_

6.



\$ \_\_\_\_\_

Todas las imágenes fueron proporcionadas por la Casa de Moneda de Estados Unidos de América.

# Contar Monedas Norteamericanas (A) Respuestas

¿Cuánto vale cada conjunto de monedas?

1.



\$0.76

2.



\$0.67

3.



\$0.43

4.



\$0.55

5.



\$0.61

6.



\$0.97

Todas las imágenes fueron proporcionadas por la Casa de Moneda de Estados Unidos de América.

# Contar Monedas Norteamericanas (B)

¿Cuánto vale cada conjunto de monedas?

1.



\$ \_\_\_\_\_

2.



\$ \_\_\_\_\_

3.



\$ \_\_\_\_\_

4.



\$ \_\_\_\_\_

5.



\$ \_\_\_\_\_

6.



\$ \_\_\_\_\_

Todas las imágenes fueron proporcionadas por la Casa de Moneda de Estados Unidos de América.

# Contar Monedas Norteamericanas (B) Respuestas

¿Cuánto vale cada conjunto de monedas?

1.



\$0.96

2.



\$0.69

3.



\$1.16

4.



\$0.43

5.



\$0.53

6.



\$0.71

Todas las imágenes fueron proporcionadas por la Casa de Moneda de Estados Unidos de América.

# Contar Monedas Norteamericanas (C)

¿Cuánto vale cada conjunto de monedas?

1.



\$ \_\_\_\_\_

2.



\$ \_\_\_\_\_

3.




\$ \_\_\_\_\_

4.



\$ \_\_\_\_\_

5.



\$ \_\_\_\_\_

6.



\$ \_\_\_\_\_

Todas las imágenes fueron proporcionadas por la Casa de Moneda de Estados Unidos de América.

# Contar Monedas Norteamericanas (C) Respuestas

¿Cuánto vale cada conjunto de monedas?

1.



2.




3.



4.



5.



6.



Todas las imágenes fueron proporcionadas por la Casa de Moneda de Estados Unidos de América.

# Contar Monedas Norteamericanas (D)

¿Cuánto vale cada conjunto de monedas?

1.



\$ \_\_\_\_\_

2.



\$ \_\_\_\_\_

3.



\$ \_\_\_\_\_

4.



\$ \_\_\_\_\_

5.



\$ \_\_\_\_\_

6.



\$ \_\_\_\_\_

Todas las imágenes fueron proporcionadas por la Casa de Moneda de Estados Unidos de América.

# Contar Monedas Norteamericanas (D) Respuestas

¿Cuánto vale cada conjunto de monedas?

1.



\$0.86

2.



\$0.58

3.



\$1.06

4.



\$0.62

5.



\$0.61

6.



\$0.66

Todas las imágenes fueron proporcionadas por la Casa de Moneda de Estados Unidos de América.



# Contar Monedas Norteamericanas (E)

¿Cuánto vale cada conjunto de monedas?

1.



\$ \_\_\_\_\_

2.



\$ \_\_\_\_\_

3.



\$ \_\_\_\_\_

4.



\$ \_\_\_\_\_

5.



\$ \_\_\_\_\_

6.



\$ \_\_\_\_\_

Todas las imágenes fueron proporcionadas por la Casa de Moneda de Estados Unidos de América.

# Contar Monedas Norteamericanas (E) Respuestas

¿Cuánto vale cada conjunto de monedas?

1.



\$1.20

2.



\$0.17

3.



\$1.16

4.



\$0.18

5.



\$0.28

6.



\$1.11

Todas las imágenes fueron proporcionadas por la Casa de Moneda de Estados Unidos de América.

# Contar Monedas Norteamericanas (F)

¿Cuánto vale cada conjunto de monedas?

1.



\$ \_\_\_\_\_

2.



\$ \_\_\_\_\_

3.



\$ \_\_\_\_\_

4.



\$ \_\_\_\_\_

5.



\$ \_\_\_\_\_

6.



\$ \_\_\_\_\_

Todas las imágenes fueron proporcionadas por la Casa de Moneda de Estados Unidos de América.

# Contar Monedas Norteamericanas (F) Respuestas

¿Cuánto vale cada conjunto de monedas?

1.



\$1.02

2.



\$0.87

3.



\$0.78

4.



\$0.60

5.



\$0.42

6.



\$0.33

Todas las imágenes fueron proporcionadas por la Casa de Moneda de Estados Unidos de América.

# Contar Monedas Norteamericanas (G)

¿Cuánto vale cada conjunto de monedas?

1.



\$ \_\_\_\_\_

2.




\$ \_\_\_\_\_

3.



\$ \_\_\_\_\_

4.



\$ \_\_\_\_\_

5.



\$ \_\_\_\_\_

6.



\$ \_\_\_\_\_

Todas las imágenes fueron proporcionadas por la Casa de Moneda de Estados Unidos de América.

# Contar Monedas Norteamericanas (G) Respuestas

¿Cuánto vale cada conjunto de monedas?

1.




\$0.52

2.



\$0.75

3.



\$1.01

4.



\$0.40

5.



\$1.11

6.



\$0.82

Todas las imágenes fueron proporcionadas por la Casa de Moneda de Estados Unidos de América.

# Contar Monedas Norteamericanas (H)

¿Cuánto vale cada conjunto de monedas?

1.



\$ \_\_\_\_\_

2.



\$ \_\_\_\_\_

3.



\$ \_\_\_\_\_

4.



\$ \_\_\_\_\_

5.



\$ \_\_\_\_\_

6.



\$ \_\_\_\_\_

Todas las imágenes fueron proporcionadas por la Casa de Moneda de Estados Unidos de América.

# Contar Monedas Norteamericanas (H) Respuestas

¿Cuánto vale cada conjunto de monedas?

1.



\$0.62

2.



\$0.47

3.



\$0.63

4.



\$0.82

5.



\$0.57

6.



\$1.25

Todas las imágenes fueron proporcionadas por la Casa de Moneda de Estados Unidos de América.



# Contar Monedas Norteamericanas (I)

¿Cuánto vale cada conjunto de monedas?

1.



\$ \_\_\_\_\_

2.



\$ \_\_\_\_\_

3.



\$ \_\_\_\_\_

4.



\$ \_\_\_\_\_

5.



\$ \_\_\_\_\_

6.



\$ \_\_\_\_\_

Todas las imágenes fueron proporcionadas por la Casa de Moneda de Estados Unidos de América.

# Contar Monedas Norteamericanas (I) Respuestas

¿Cuánto vale cada conjunto de monedas?

1.



\$0.71

2.



\$0.18

3.



\$0.31

4.



\$0.66

5.



\$0.51

6.



\$0.96

Todas las imágenes fueron proporcionadas por la Casa de Moneda de Estados Unidos de América.

# Contar Monedas Norteamericanas (J)

¿Cuánto vale cada conjunto de monedas?

1.



\$ \_\_\_\_\_

2.



\$ \_\_\_\_\_

3.



\$ \_\_\_\_\_

4.



\$ \_\_\_\_\_

5.



\$ \_\_\_\_\_

6.



\$ \_\_\_\_\_

Todas las imágenes fueron proporcionadas por la Casa de Moneda de Estados Unidos de América.

# Contar Monedas Norteamericanas (J) Respuestas


¿Cuánto vale cada conjunto de monedas?

1.



\$0.72

2.



\$0.97

3.



\$0.71

4.



\$1.07

5.



\$0.22

6.



\$0.27

Todas las imágenes fueron proporcionadas por la Casa de Moneda de Estados Unidos de América.