

Contar Monedas Norteamericanas (A)

¿Cuánto vale cada conjunto de monedas?

1.

\$ _____

2.

\$ _____

3.

\$ _____

4.

\$ _____

5.

\$ _____

6.

\$ _____

Todas las imágenes fueron proporcionadas por la Casa de Moneda de Estados Unidos de América.

Contar Monedas Norteamericanas (A) Respuestas

¿Cuánto vale cada conjunto de monedas?

1.

\$0.87

2.

\$0.97

3.

\$1.02

4.

\$1.16

5.

\$0.97

6.

\$1.06

Todas las imágenes fueron proporcionadas por la Casa de Moneda de Estados Unidos de América.

Contar Monedas Norteamericanas (B)

¿Cuánto vale cada conjunto de monedas?

1.



\$ _____

2.



\$ _____

3.




\$ _____

4.



\$ _____

5.



\$ _____

6.



\$ _____

Todas las imágenes fueron proporcionadas por la Casa de Moneda de Estados Unidos de América.

Contar Monedas Norteamericanas (B) Respuestas

¿Cuánto vale cada conjunto de monedas?

1.



\$0.64

2.



\$1.43

3.



\$0.79

4.



\$1.06

5.



\$0.34

6.



\$1.46

Todas las imágenes fueron proporcionadas por la Casa de Moneda de Estados Unidos de América.

Contar Monedas Norteamericanas (C)

¿Cuánto vale cada conjunto de monedas?

1.



\$ _____

2.



\$ _____

3.



\$ _____

4.



\$ _____

5.



\$ _____

6.



\$ _____

Todas las imágenes fueron proporcionadas por la Casa de Moneda de Estados Unidos de América.

Contar Monedas Norteamericanas (C) Respuestas

¿Cuánto vale cada conjunto de monedas?

1.



\$0.88

2.



\$0.93

3.



\$0.91

4.



\$1.18

5.



\$1.07

6.



\$0.86

Todas las imágenes fueron proporcionadas por la Casa de Moneda de Estados Unidos de América.

Contar Monedas Norteamericanas (D)


¿Cuánto vale cada conjunto de monedas?

1.



\$ _____

2.



\$ _____

3.




\$ _____

4.



\$ _____

5.



\$ _____

6.



\$ _____

Todas las imágenes fueron proporcionadas por la Casa de Moneda de Estados Unidos de América.

Contar Monedas Norteamericanas (D) Respuestas

¿Cuánto vale cada conjunto de monedas?

1.



\$0.49

2.



\$0.62

3.



\$1.02

4.



\$0.92

5.



\$0.82

6.



\$0.64

Todas las imágenes fueron proporcionadas por la Casa de Moneda de Estados Unidos de América.

Contar Monedas Norteamericanas (E)

¿Cuánto vale cada conjunto de monedas?

1.



\$ _____

2.




\$ _____

3.



\$ _____

4.



\$ _____

5.



\$ _____

6.



\$ _____

Todas las imágenes fueron proporcionadas por la Casa de Moneda de Estados Unidos de América.

Contar Monedas Norteamericanas (E) Respuestas

¿Cuánto vale cada conjunto de monedas?

1.



\$1.13

2.



\$0.91

3.



\$1.03

4.



\$0.43

5.



\$0.97

6.




\$1.42

Todas las imágenes fueron proporcionadas por la Casa de Moneda de Estados Unidos de América.

Contar Monedas Norteamericanas (F)

¿Cuánto vale cada conjunto de monedas?

1.



\$ _____

2.




\$ _____

3.



\$ _____

4.




\$ _____

5.



\$ _____

6.



\$ _____

Todas las imágenes fueron proporcionadas por la Casa de Moneda de Estados Unidos de América.

Contar Monedas Norteamericanas (F) Respuestas

¿Cuánto vale cada conjunto de monedas?

1.



\$0.83

2.



\$0.96

3.



\$1.07

4.



\$0.87

5.



\$1.08

6.



\$0.48

Todas las imágenes fueron proporcionadas por la Casa de Moneda de Estados Unidos de América.

Contar Monedas Norteamericanas (G)

¿Cuánto vale cada conjunto de monedas?

1.



\$ _____

2.



\$ _____

3.



\$ _____

4.



\$ _____

5.



\$ _____

6.



\$ _____

Todas las imágenes fueron proporcionadas por la Casa de Moneda de Estados Unidos de América.

Contar Monedas Norteamericanas (G) Respuestas

¿Cuánto vale cada conjunto de monedas?

1.



\$1.13

2.



\$0.94

3.



\$0.90

4.



\$1.08

5.



\$1.28

6.



\$1.02

Todas las imágenes fueron proporcionadas por la Casa de Moneda de Estados Unidos de América.

Contar Monedas Norteamericanas (H)

¿Cuánto vale cada conjunto de monedas?

1.



\$ _____

2.



\$ _____

3.




\$ _____

4.



\$ _____

5.



\$ _____

6.



\$ _____

Todas las imágenes fueron proporcionadas por la Casa de Moneda de Estados Unidos de América.

Contar Monedas Norteamericanas (H) Respuestas

¿Cuánto vale cada conjunto de monedas?

1.



\$0.74

2.



\$1.36

3.



\$0.82

4.



\$1.11

5.



\$0.97

6.



\$0.97

Todas las imágenes fueron proporcionadas por la Casa de Moneda de Estados Unidos de América.

Contar Monedas Norteamericanas (I)

¿Cuánto vale cada conjunto de monedas?

1.



\$ _____

2.




\$ _____

3.



\$ _____

4.



\$ _____

5.



\$ _____

6.



\$ _____

Todas las imágenes fueron proporcionadas por la Casa de Moneda de Estados Unidos de América.

Contar Monedas Norteamericanas (I) Respuestas

¿Cuánto vale cada conjunto de monedas?

1.



\$0.79

2.



\$1.04

3.



\$1.66

4.



\$0.89

5.



\$0.94

6.



\$1.07

Todas las imágenes fueron proporcionadas por la Casa de Moneda de Estados Unidos de América.

Contar Monedas Norteamericanas (J)

¿Cuánto vale cada conjunto de monedas?

1.



\$ _____

2.



\$ _____

3.



\$ _____

4.



\$ _____

5.



\$ _____

6.



\$ _____

Todas las imágenes fueron proporcionadas por la Casa de Moneda de Estados Unidos de América.

Contar Monedas Norteamericanas (J) Respuestas

¿Cuánto vale cada conjunto de monedas?

1.



\$0.53

2.



\$0.87

3.



\$1.21

4.



\$1.47

5.



\$0.90

6.



\$1.27

Todas las imágenes fueron proporcionadas por la Casa de Moneda de Estados Unidos de América.