

Ordenar Enteros (H)

Ordene cada conjunto de enteros en una recta numérica.

Conjunto 1: -12, -2, 12, -11, 5, 8



Conjunto 2: -5, 3, 1, 9, -12, 10, 8



Conjunto 3: 2, 7, -7, -3, 4, 5, 3, -5



Conjunto 4: 5, -8, -9, -6, 7, -3, 11, 8, -10



Conjunto 5: 8, 6, 10, 3, -7, -5, -11, 9, 4, -1



Conjunto 6: -1, 7, -2, -11, 10, -6, -3, -12, 0, 2, -5



Conjunto 7: 1, 10, 12, 5, -2, 3, 8, -7, -8, 2, -3, -6



Ordenar Enteros (H) Respuestas

Ordene cada conjunto de enteros en una recta numérica.

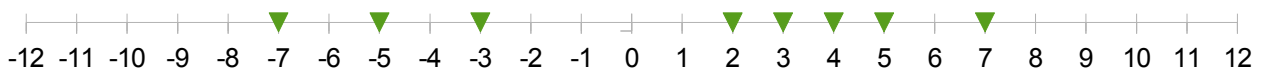
Conjunto 1: -12, -2, 12, -11, 5, 8




Conjunto 2: -5, 3, 1, 9, -12, 10, 8



Conjunto 3: 2, 7, -7, -3, 4, 5, 3, -5



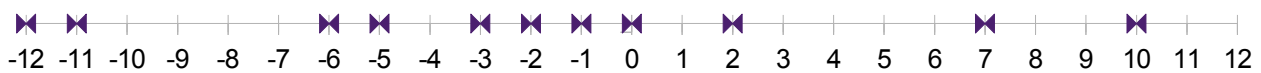
Conjunto 4: 5, -8, -9, -6, 7, -3, 11, 8, -10



Conjunto 5: 8, 6, 10, 3, -7, -5, -11, 9, 4, -1



Conjunto 6: -1, 7, -2, -11, 10, -6, -3, -12, 0, 2, -5



Conjunto 7: 1, 10, 12, 5, -2, 3, 8, -7, -8, 2, -3, -6

