

Construir Gráficos de Líneas (A)

Construya un gráfico a partir de los datos, y responda las preguntas.

Conjunto de Datos 1

4	3	5	9	9	6	6	5	1	1	5
3	2	8	2	6	8	1	1	4	2	6

Gráfico de Líneas 1



1. Determine el valor mínimo, el valor máximo y el rango de los datos.
2. Determine el conteo, la media, mediana y la moda de los datos.
Redondee la media a un lugar decimal de ser necesario.

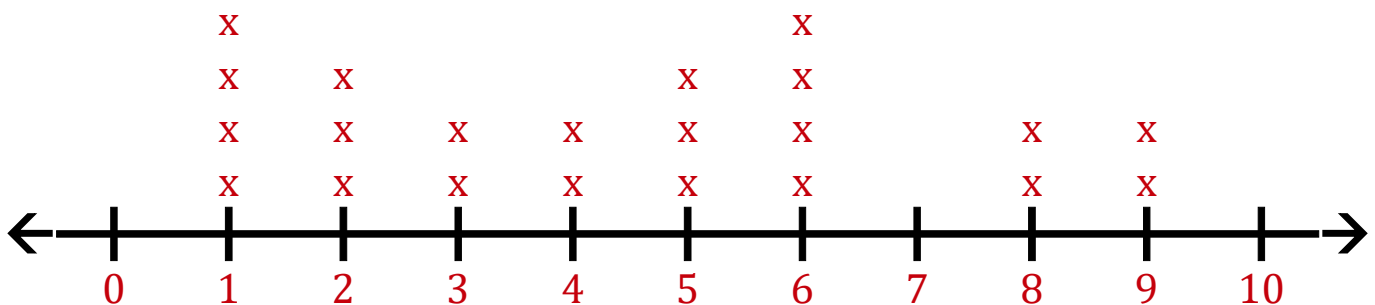
Construir Gráficos de Líneas (A) Respuestas

Construya un gráfico a partir de los datos, y responda las preguntas.

Conjunto de Datos 1

4	3	5	9	9	6	6	5	1	1	5
3	2	8	2	6	8	1	1	4	2	6

Gráfico de Líneas 1



1. Determine el valor mínimo, el valor máximo y el rango de los datos.

Mínimo: 1 Máximo: 9 Rango: 8

2. Determine el conteo, la media, mediana y la moda de los datos.
Redondee la media a un lugar decimal de ser necesario.

Conteo: 22 Mediana: 4.5 Moda: 1 6 Media: 4.4

Construir Gráficos de Líneas (B)

Construya un gráfico a partir de los datos, y responda las preguntas.

Conjunto de Datos 2

8	7	2	3	9	9	3	1	9	3	8
1	8	9	7							

Line Plot 2



1. Determine el valor mínimo, el valor máximo y el rango de los datos.
2. Determine el conteo, la media, mediana y la moda de los datos.
Redondee la media a un lugar decimal de ser necesario.

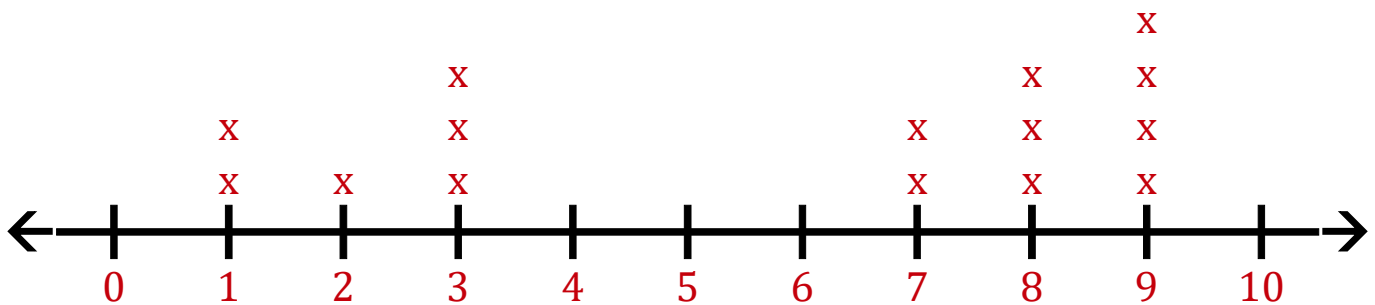
Construir Gráficos de Líneas (B) Respuestas

Construya un gráfico a partir de los datos, y responda las preguntas.

Conjunto de Datos 2

8	7	2	3	9	9	3	1	9	3	8
1	8	9	7							

Gráfico de Líneas 2



1. Determine el valor mínimo, el valor máximo y el rango de los datos.

Mínimo: 1 Máximo: 9 Rango: 8

2. Determine el conteo, la media, mediana y la moda de los datos.
Redondee la media a un lugar decimal de ser necesario.

Conteo: 15 Mediana: 7 Moda: 9 Media: 5.8

Construir Gráficos de Líneas (C)

Construya un gráfico a partir de los datos, y responda las preguntas.

Conjunto de Datos 3

1	9	6	9	5	2	7	5	7	5	4
4	4	0	7	9	9	10	6	7	0	0
10	10	10								

Line Plot 3



1. Determine el valor mínimo, el valor máximo y el rango de los datos.
2. Determine el conteo, la media, mediana y la moda de los datos.
Redondee la media a un lugar decimal de ser necesario.

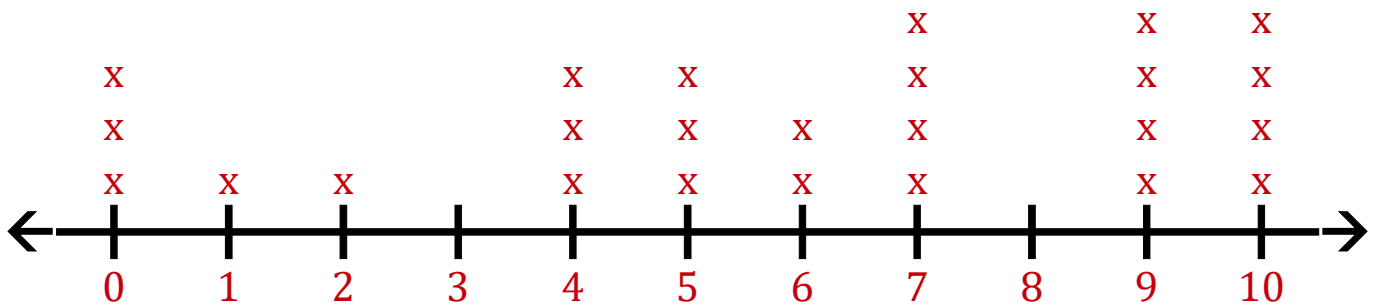
Construir Gráficos de Líneas (C) Respuestas

Construya un gráfico a partir de los datos, y responda las preguntas.

Conjunto de Datos 3

1	9	6	9	5	2	7	5	7	5	4
4	4	0	7	9	9	10	6	7	0	0
10	10	10								

Gráfico de Líneas 3



1. Determine el valor mínimo, el valor máximo y el rango de los datos.

Mínimo: 0 Máximo: 10 Rango: 10

2. Determine el conteo, la media, mediana y la moda de los datos.
Redondee la media a un lugar decimal de ser necesario.

Conteo: 25 Mediana: 6 Moda: 7 9 10 Media: 5.8

Construir Gráficos de Líneas (D)

Construya un gráfico a partir de los datos, y responda las preguntas.

Conjunto de Datos 4

8	2	5	3	6	7	0	7	3	5	5
1	7	3	0	4	5	2	2	9	9	9
3	6									

Line Plot 4



1. Determine el valor mínimo, el valor máximo y el rango de los datos.
2. Determine el conteo, la media, mediana y la moda de los datos.
Redondee la media a un lugar decimal de ser necesario.

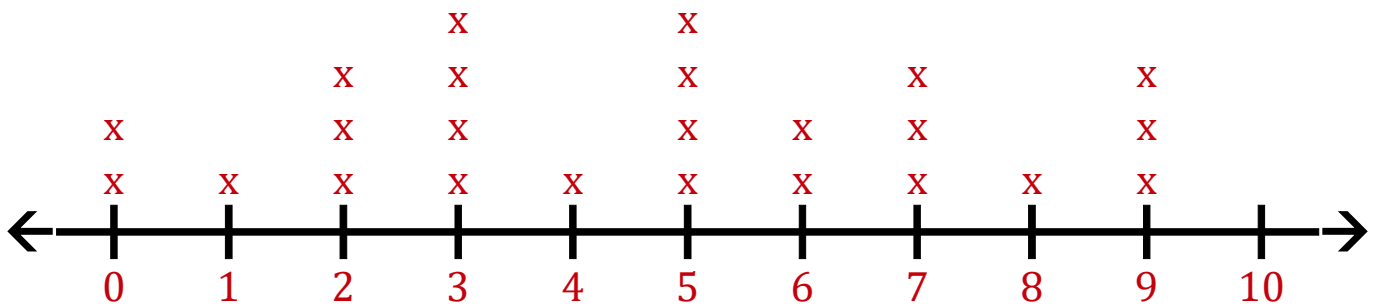
Construir Gráficos de Líneas (D) Respuestas

Construya un gráfico a partir de los datos, y responda las preguntas.

Conjunto de Datos 4

8	2	5	3	6	7	0	7	3	5	5
1	7	3	0	4	5	2	2	9	9	9
3	6									

Gráfico de Líneas 4



1. Determine el valor mínimo, el valor máximo y el rango de los datos.

Mínimo: 0 Máximo: 9 Rango: 9

2. Determine el conteo, la media, mediana y la moda de los datos.
Redondee la media a un lugar decimal de ser necesario.

Conteo: 24 Mediana: 5 Moda: 3 5 Media: 4.6

Construir Gráficos de Líneas (E)

Construya un gráfico a partir de los datos, y responda las preguntas.

Conjunto de Datos 5

7	0	7	3	8	2	0	2	8	4	6
0	2	7	8	9	8	0	2	5	3	

Line Plot 5



1. Determine el valor mínimo, el valor máximo y el rango de los datos.
2. Determine el conteo, la media, mediana y la moda de los datos.
Redondee la media a un lugar decimal de ser necesario.

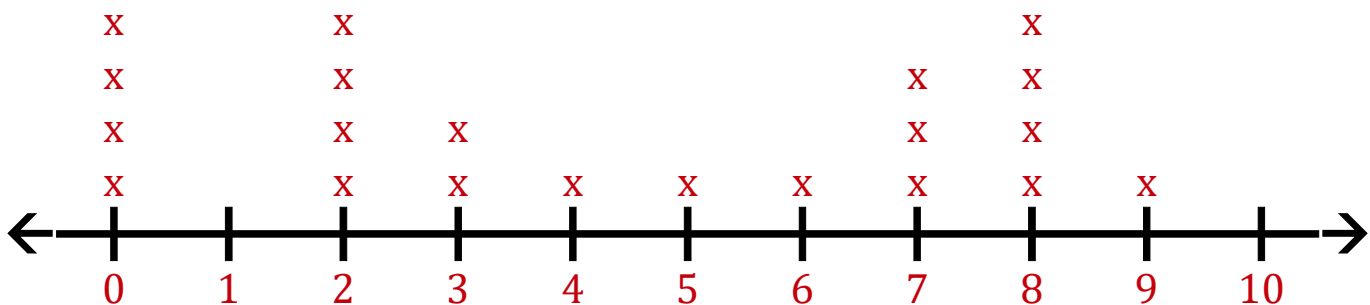
Construir Gráficos de Líneas (E) Respuestas

Construya un gráfico a partir de los datos, y responda las preguntas.

Conjunto de Datos 5

7	0	7	3	8	2	0	2	8	4	6
0	2	7	8	9	8	0	2	5	3	

Gráfico de Líneas 5



1. Determine el valor mínimo, el valor máximo y el rango de los datos.

Mínimo: 0 Máximo: 9 Rango: 9

2. Determine el conteo, la media, mediana y la moda de los datos.
Redondee la media a un lugar decimal de ser necesario.

Conteo: 21 Mediana: 4 Moda: 0 2 8 Media: 4.3

Construir Gráficos de Líneas (F)

Construya un gráfico a partir de los datos, y responda las preguntas.

Conjunto de Datos 6

7	2	9	9	0	1	9	10	2	8	9
2	8	0	8	7	0	10	0	2	8	

Line Plot 6



1. Determine el valor mínimo, el valor máximo y el rango de los datos.
2. Determine el conteo, la media, mediana y la moda de los datos.
Redondee la media a un lugar decimal de ser necesario.

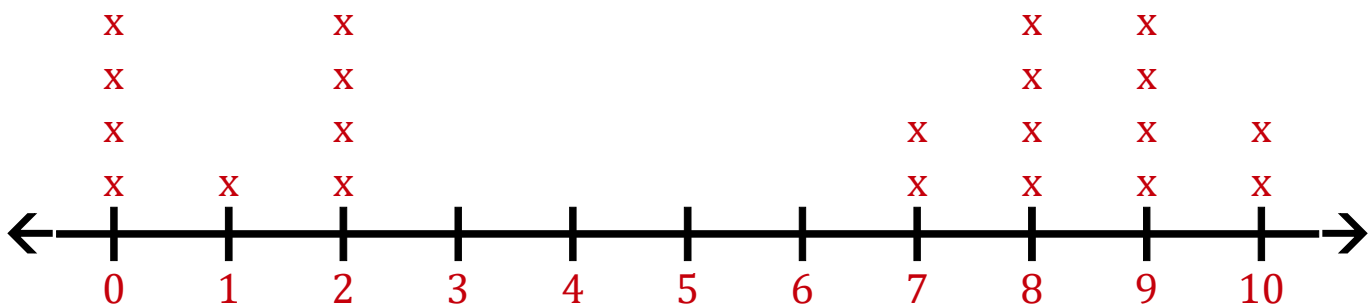
Construir Gráficos de Líneas (F) Respuestas

Construya un gráfico a partir de los datos, y responda las preguntas.

Conjunto de Datos 6

7	2	9	9	0	1	9	10	2	8	9
2	8	0	8	7	0	10	0	2	8	

Gráfico de Líneas 6



1. Determine el valor mínimo, el valor máximo y el rango de los datos.

Mínimo: 0 Máximo: 10 Rango: 10

2. Determine el conteo, la media, mediana y la moda de los datos.
Redondee la media a un lugar decimal de ser necesario.

Conteo: 21 Mediana: 7 Moda: 0 2 8 9 Media: 5.3

Construir Gráficos de Líneas (G)

Construya un gráfico a partir de los datos, y responda las preguntas.

Conjunto de Datos 7

8	2	2	6	5	8	4	5	3	9	8
7	4	8	4	6	10	10	3			

Line Plot 7



1. Determine el valor mínimo, el valor máximo y el rango de los datos.
2. Determine el conteo, la media, mediana y la moda de los datos.
Redondee la media a un lugar decimal de ser necesario.

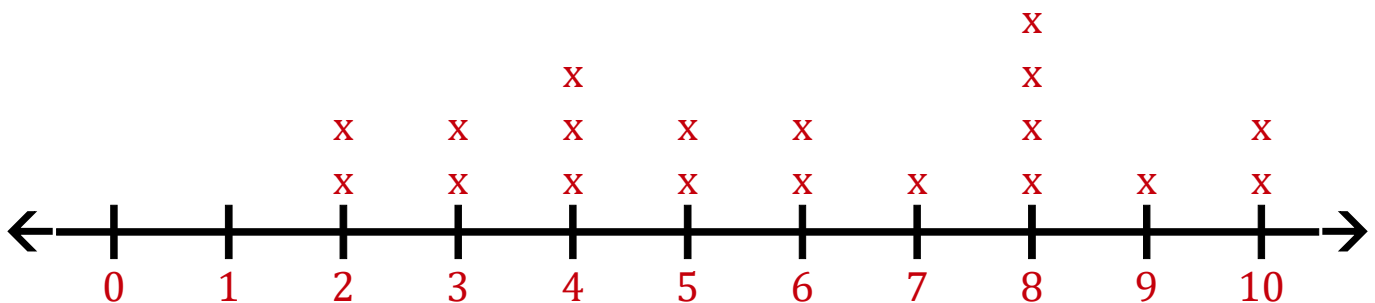
Construir Gráficos de Líneas (G) Respuestas

Construya un gráfico a partir de los datos, y responda las preguntas.

Conjunto de Datos 7

8	2	2	6	5	8	4	5	3	9	8
7	4	8	4	6	10	10	3			

Gráfico de Líneas 7



1. Determine el valor mínimo, el valor máximo y el rango de los datos.

Mínimo: 2 Máximo: 10 Rango: 8

2. Determine el conteo, la media, mediana y la moda de los datos.
Redondee la media a un lugar decimal de ser necesario.

Conteo: 19 Mediana: 6 Moda: 8 Media: 5.9

Construir Gráficos de Líneas (H)

Construya un gráfico a partir de los datos, y responda las preguntas.

Conjunto de Datos 8

9	5	6	9	4	9	6	8	7	3	5
8	6	5	4	3	7	6	5	0	3	

Line Plot 8



1. Determine el valor mínimo, el valor máximo y el rango de los datos.
2. Determine el conteo, la media, mediana y la moda de los datos.
Redondee la media a un lugar decimal de ser necesario.

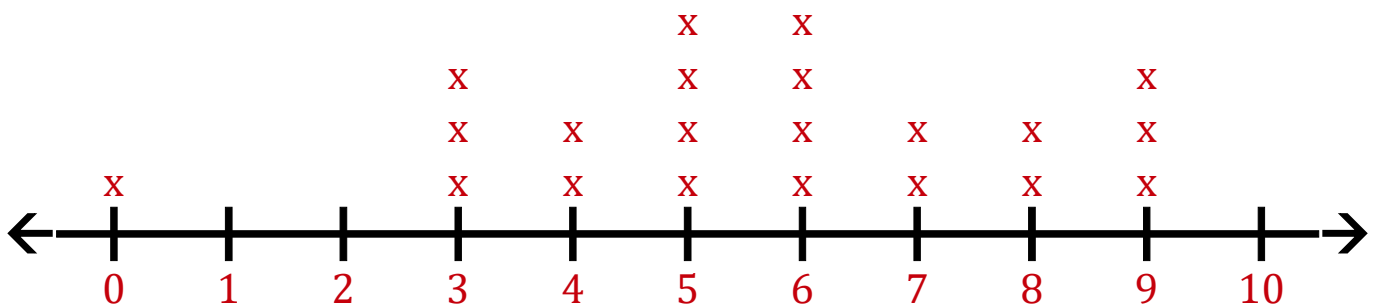
Construir Gráficos de Líneas (H) Respuestas

Construya un gráfico a partir de los datos, y responda las preguntas.

Conjunto de Datos 8

9	5	6	9	4	9	6	8	7	3	5
8	6	5	4	3	7	6	5	0	3	

Gráfico de Líneas 8



1. Determine el valor mínimo, el valor máximo y el rango de los datos.

Mínimo: 0 Máximo: 9 Rango: 9

2. Determine el conteo, la media, mediana y la moda de los datos.
Redondee la media a un lugar decimal de ser necesario.

Conteo: 21 Mediana: 6 Moda: 5 6 Media: 5.6

Construir Gráficos de Líneas (I)

Construya un gráfico a partir de los datos, y responda las preguntas.

Conjunto de Datos 9

9	9	6	2	5	1	0	7	1	6	10
1	7	6	4	0	8	8	8	5	3	4
2	5	7	3	5	7	10	1	3	10	

Line Plot 9



1. Determine el valor mínimo, el valor máximo y el rango de los datos.
2. Determine el conteo, la media, mediana y la moda de los datos.
Redondee la media a un lugar decimal de ser necesario.

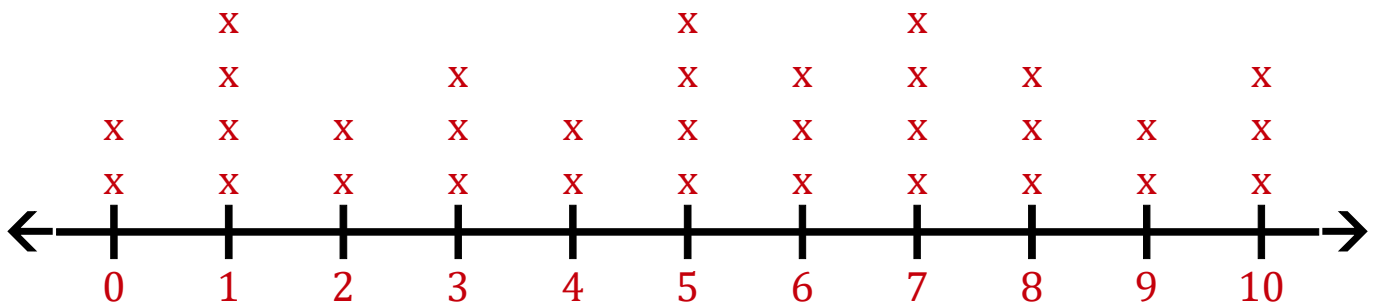
Construir Gráficos de Líneas (I) Respuestas

Construya un gráfico a partir de los datos, y responda las preguntas.

Conjunto de Datos 9

9	9	6	2	5	1	0	7	1	6	10
1	7	6	4	0	8	8	8	5	3	4
2	5	7	3	5	7	10	1	3	10	

Gráfico de Líneas 9



1. Determine el valor mínimo, el valor máximo y el rango de los datos.

Mínimo: 0 Máximo: 10 Rango: 10

2. Determine el conteo, la media, mediana y la moda de los datos.
Redondee la media a un lugar decimal de ser necesario.

Conteo: 32 Mediana: 5 Moda: 1 5 7 Media: 5.1

Construir Gráficos de Líneas (J)

Construya un gráfico a partir de los datos, y responda las preguntas.

Conjunto de Datos 10

7	10	6	6	7	9	10	6	10	4	7
3	4	4	9	7	3	4	10	3	2	

Line Plot 10



1. Determine el valor mínimo, el valor máximo y el rango de los datos.
2. Determine el conteo, la media, mediana y la moda de los datos.
Redondee la media a un lugar decimal de ser necesario.

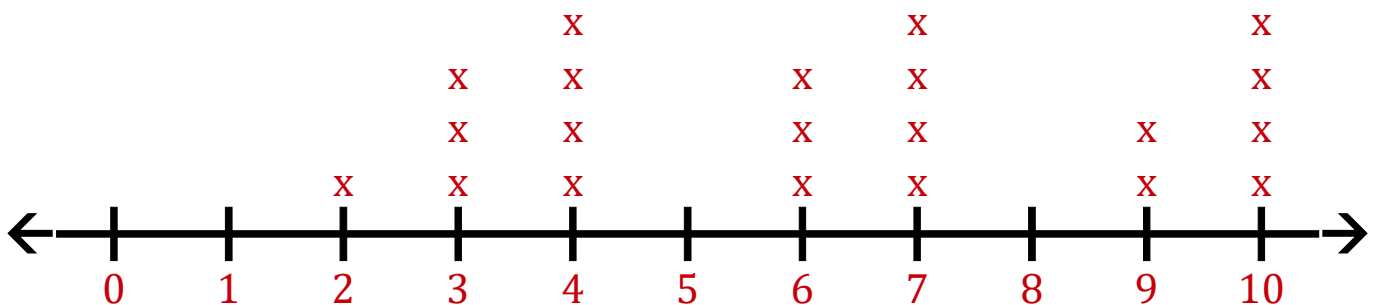
Construir Gráficos de Líneas (J) Respuestas

Construya un gráfico a partir de los datos, y responda las preguntas.

Conjunto de Datos 10

7	10	6	6	7	9	10	6	10	4	7
3	4	4	9	7	3	4	10	3	2	

Gráfico de Líneas 10



1. Determine el valor mínimo, el valor máximo y el rango de los datos.

Mínimo: 2 Máximo: 10 Rango: 8

2. Determine el conteo, la media, mediana y la moda de los datos.
Redondee la media a un lugar decimal de ser necesario.

Conteo: 21 Mediana: 6 Moda: 4 7 10 Media: 6.2