

Construir Gráficos de Líneas (A)

Construya un gráfico a partir de los datos, y responda las preguntas.

Conjunto de Datos 1

4	9	4	5	2	0	4	6	10	7	1
4	8	9	1	1	3	7	1	7	6	5
5	6	3	3	10	9					

Gráfico de Líneas 1

1. Determine el valor mínimo, el valor máximo y el rango de los datos.
2. Determine el conteo, la media, mediana y la moda de los datos.
Redondee la media a un lugar decimal de ser necesario.

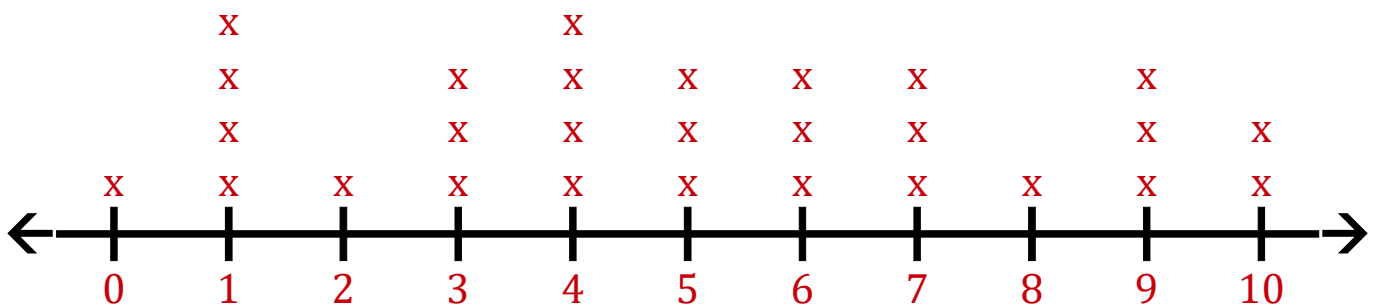
Construir Gráficos de Líneas (A) Respuestas

Construya un gráfico a partir de los datos, y responda las preguntas.

Conjunto de Datos 1

4	9	4	5	2	0	4	6	10	7	1
4	8	9	1	1	3	7	1	7	6	5
5	6	3	3	10	9					

Gráfico de Líneas 1



1. Determine el valor mínimo, el valor máximo y el rango de los datos.

Mínimo: 0 Máximo: 10 Rango: 10

2. Determine el conteo, la media, mediana y la moda de los datos.
Redondee la media a un lugar decimal de ser necesario.

Conteo: 28 Mediana: 5 Moda: 1 4 Media: 5

Construir Gráficos de Líneas (B)

Construya un gráfico a partir de los datos, y responda las preguntas.

Conjunto de Datos 2

3	0	4	7	10	10	10	8	1	2	1
0	0	2	7	3	4	7	8	1	0	2
9	1									

Line Plot 2

1. Determine el valor mínimo, el valor máximo y el rango de los datos.
2. Determine el conteo, la media, mediana y la moda de los datos.
Redondee la media a un lugar decimal de ser necesario.

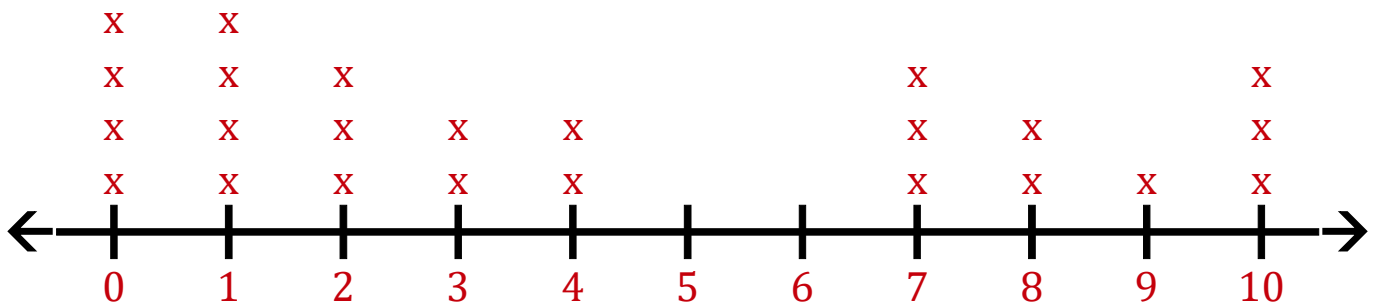
Construir Gráficos de Líneas (B) Respuestas

Construya un gráfico a partir de los datos, y responda las preguntas.

Conjunto de Datos 2

3	0	4	7	10	10	10	8	1	2	1
0	0	2	7	3	4	7	8	1	0	2
9	1									

Gráfico de Líneas 2



1. Determine el valor mínimo, el valor máximo y el rango de los datos.

Mínimo: 0 Máximo: 10 Rango: 10

2. Determine el conteo, la media, mediana y la moda de los datos.
Redondee la media a un lugar decimal de ser necesario.

Conteo: 24 Mediana: 3 Moda: 0 1 Media: 4.2

Construir Gráficos de Líneas (C)

Construya un gráfico a partir de los datos, y responda las preguntas.

Conjunto de Datos 3

6	9	7	6	6	1	3	2	1	4	1
6	7	5								

Line Plot 3

1. Determine el valor mínimo, el valor máximo y el rango de los datos.
2. Determine el conteo, la media, mediana y la moda de los datos.
Redondee la media a un lugar decimal de ser necesario.

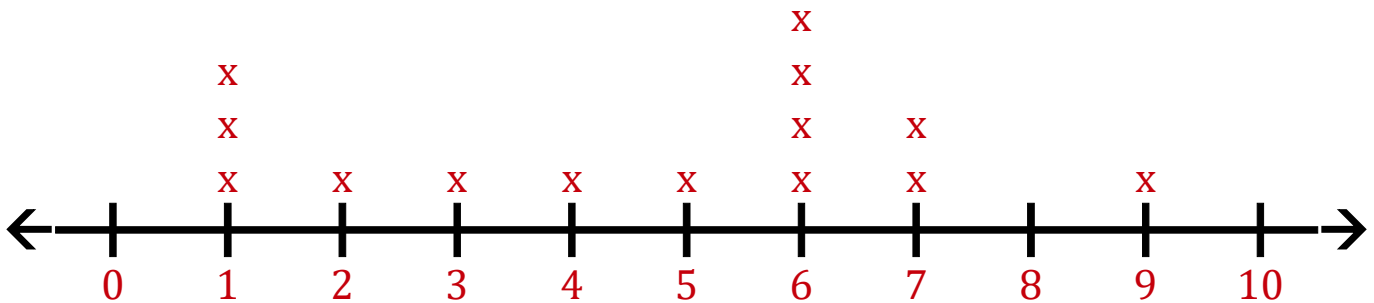
Construir Gráficos de Líneas (C) Respuestas

Construya un gráfico a partir de los datos, y responda las preguntas.

Conjunto de Datos 3

6 9 7 6 6 1 3 2 1 4 1
6 7 5

Gráfico de Líneas 3



1. Determine el valor mínimo, el valor máximo y el rango de los datos.

Mínimo: 1 Máximo: 9 Rango: 8

2. Determine el conteo, la media, mediana y la moda de los datos.
Redondee la media a un lugar decimal de ser necesario.

Conteo: 14 Mediana: 5.5 Moda: 6 Media: 4.6

Construir Gráficos de Líneas (D)

Construya un gráfico a partir de los datos, y responda las preguntas.

Conjunto de Datos 4

1	1	6	2	3	0	4	10	6	9	1
8	2	4	2	9	4	6	8	10	9	10
7	5	2	10	3	0					

Line Plot 4

1. Determine el valor mínimo, el valor máximo y el rango de los datos.
2. Determine el conteo, la media, mediana y la moda de los datos.
Redondee la media a un lugar decimal de ser necesario.

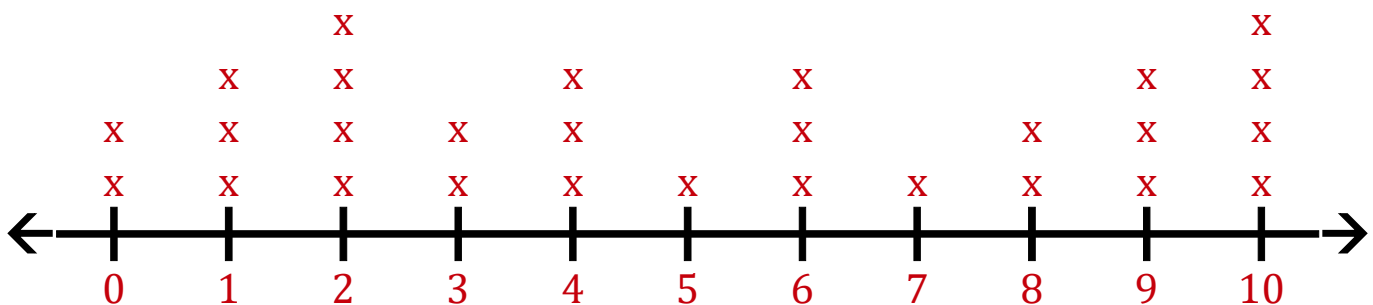
Construir Gráficos de Líneas (D) Respuestas

Construya un gráfico a partir de los datos, y responda las preguntas.

Conjunto de Datos 4

1	1	6	2	3	0	4	10	6	9	1
8	2	4	2	9	4	6	8	10	9	10
7	5	2	10	3	0					

Gráfico de Líneas 4



1. Determine el valor mínimo, el valor máximo y el rango de los datos.

Mínimo: 0 Máximo: 10 Rango: 10

2. Determine el conteo, la media, mediana y la moda de los datos.
Redondee la media a un lugar decimal de ser necesario.

Conteo: 28 Mediana: 4.5 Moda: 2 10 Media: 5.1

Construir Gráficos de Líneas (E)

Construya un gráfico a partir de los datos, y responda las preguntas.

Conjunto de Datos 5

4	9	9	2	2	2	3	4	10	3	6
4	4	10	0	6	5	10				

Line Plot 5

1. Determine el valor mínimo, el valor máximo y el rango de los datos.
2. Determine el conteo, la media, mediana y la moda de los datos.
Redondee la media a un lugar decimal de ser necesario.

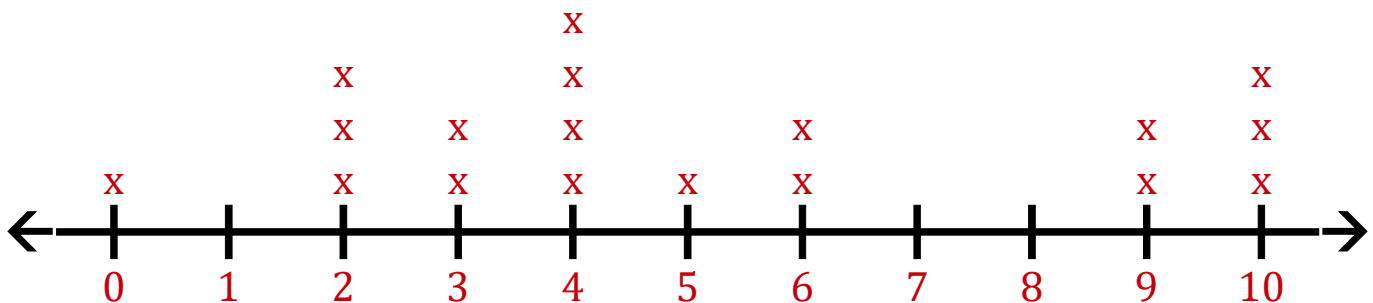
Construir Gráficos de Líneas (E) Respuestas

Construya un gráfico a partir de los datos, y responda las preguntas.

Conjunto de Datos 5

4	9	9	2	2	2	3	4	10	3	6
4	4	10	0	6	5	10				

Gráfico de Líneas 5



1. Determine el valor mínimo, el valor máximo y el rango de los datos.

Mínimo: 0 Máximo: 10 Rango: 10

2. Determine el conteo, la media, mediana y la moda de los datos.
Redondee la media a un lugar decimal de ser necesario.

Conteo: 18 Mediana: 4 Moda: 4 Media: 5.2

Construir Gráficos de Líneas (F)

Construya un gráfico a partir de los datos, y responda las preguntas.

Conjunto de Datos 6

7	7	8	1	6	2	2	5	4	5	4
1	10	1	3	2	1	5	4	5		

Line Plot 6

1. Determine el valor mínimo, el valor máximo y el rango de los datos.
2. Determine el conteo, la media, mediana y la moda de los datos.
Redondee la media a un lugar decimal de ser necesario.

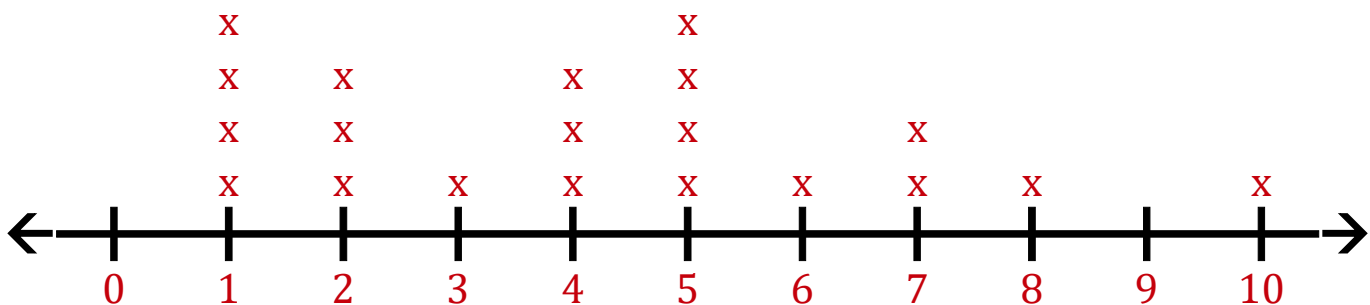
Construir Gráficos de Líneas (F) Respuestas

Construya un gráfico a partir de los datos, y responda las preguntas.

Conjunto de Datos 6

7	7	8	1	6	2	2	5	4	5	4
1	10	1	3	2	1	5	4	5		

Gráfico de Líneas 6



1. Determine el valor mínimo, el valor máximo y el rango de los datos.

Mínimo: 1 Máximo: 10 Rango: 9

2. Determine el conteo, la media, mediana y la moda de los datos.
Redondee la media a un lugar decimal de ser necesario.

Conteo: 20 Mediana: 4 Moda: 1 5 Media: 4.2

Construir Gráficos de Líneas (G)

Construya un gráfico a partir de los datos, y responda las preguntas.

Conjunto de Datos 7

1	10	4	4	2	7	5	10	1	3	7
4	3	2	3	5	3	2	5	2	4	

Line Plot 7

1. Determine el valor mínimo, el valor máximo y el rango de los datos.
2. Determine el conteo, la media, mediana y la moda de los datos.
Redondee la media a un lugar decimal de ser necesario.

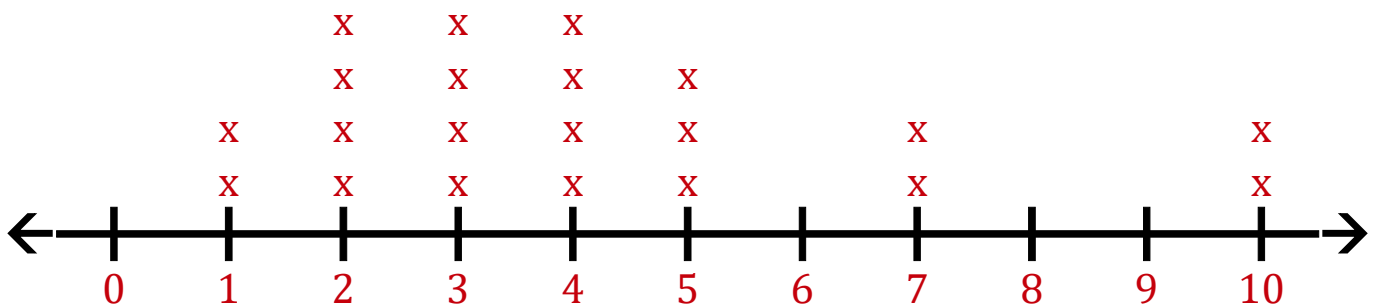
Construir Gráficos de Líneas (G) Respuestas

Construya un gráfico a partir de los datos, y responda las preguntas.

Conjunto de Datos 7

1	10	4	4	2	7	5	10	1	3	7
4	3	2	3	5	3	2	5	2	4	

Gráfico de Líneas 7



1. Determine el valor mínimo, el valor máximo y el rango de los datos.

Mínimo: 1 Máximo: 10 Rango: 9

2. Determine el conteo, la media, mediana y la moda de los datos.
Redondee la media a un lugar decimal de ser necesario.

Conteo: 21 Mediana: 4 Moda: 2 3 4 Media: 4.1

Construir Gráficos de Líneas (H)

Construya un gráfico a partir de los datos, y responda las preguntas.

Conjunto de Datos 8

6	1	1	3	3	1	10	7	9	10	2
2	2	2	8	7	1	7	7	0	3	9

Line Plot 8

1. Determine el valor mínimo, el valor máximo y el rango de los datos.
2. Determine el conteo, la media, mediana y la moda de los datos.
Redondee la media a un lugar decimal de ser necesario.

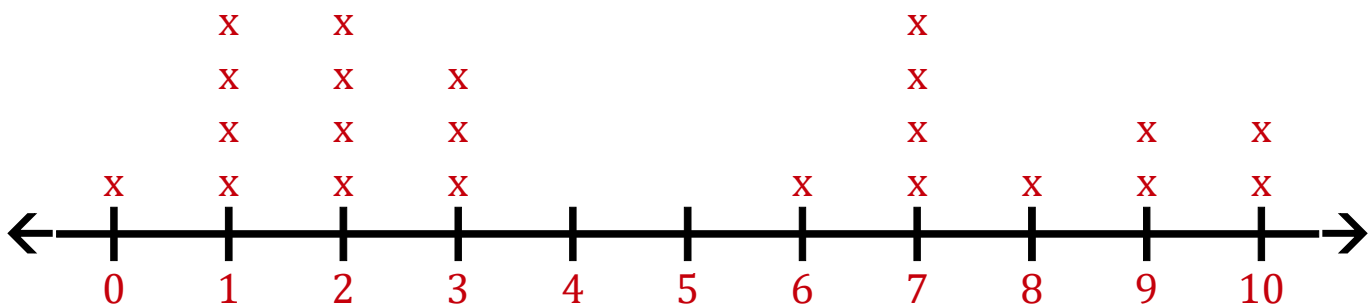
Construir Gráficos de Líneas (H) Respuestas

Construya un gráfico a partir de los datos, y responda las preguntas.

Conjunto de Datos 8

6	1	1	3	3	1	10	7	9	10	2
2	2	2	8	7	1	7	7	0	3	9

Gráfico de Líneas 8



1. Determine el valor mínimo, el valor máximo y el rango de los datos.

Mínimo: 0 Máximo: 10 Rango: 10

2. Determine el conteo, la media, mediana y la moda de los datos.
Redondee la media a un lugar decimal de ser necesario.

Conteo: 22 Mediana: 3 Moda: 1 2 7 Media: 4.6

Construir Gráficos de Líneas (I)

Construya un gráfico a partir de los datos, y responda las preguntas.

Conjunto de Datos 9

2	8	8	4	10	6	4	4	0	10	0
3	6	1	9	4	7	9	9	6	2	3
2	9	8	0	10	6	0				

Line Plot 9

1. Determine el valor mínimo, el valor máximo y el rango de los datos.
2. Determine el conteo, la media, mediana y la moda de los datos.
Redondee la media a un lugar decimal de ser necesario.

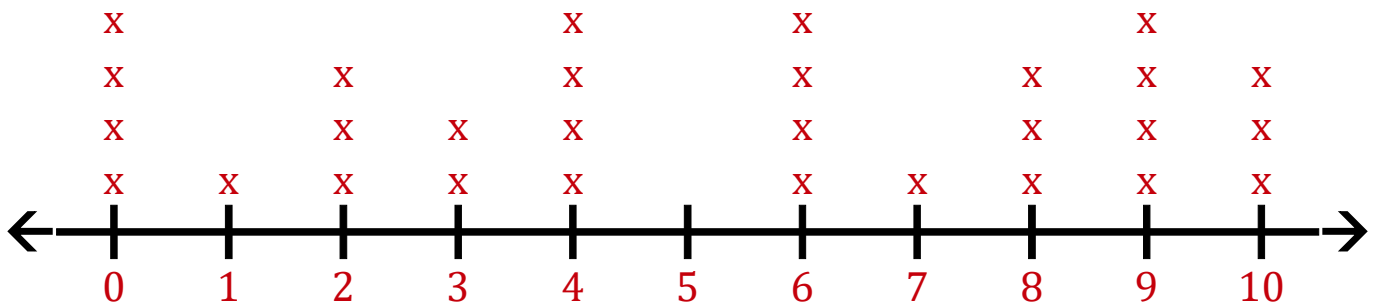
Construir Gráficos de Líneas (I) Respuestas

Construya un gráfico a partir de los datos, y responda las preguntas.

Conjunto de Datos 9

2	8	8	4	10	6	4	4	0	10	0
3	6	1	9	4	7	9	9	6	2	3
2	9	8	0	10	6	0				

Gráfico de Líneas 9



1. Determine el valor mínimo, el valor máximo y el rango de los datos.

Mínimo: 0 Máximo: 10 Rango: 10

2. Determine el conteo, la media, mediana y la moda de los datos.
Redondee la media a un lugar decimal de ser necesario.

Conteo: 29 Mediana: 6 Moda: 0 4 6 9 Media: 5.2

Construir Gráficos de Líneas (J)

Construya un gráfico a partir de los datos, y responda las preguntas.

Conjunto de Datos 10

2	7	2	4	4	6	7	2	10	0	0
10	10	5	7	2	10	7	6	5	6	6
4										

Line Plot 10

1. Determine el valor mínimo, el valor máximo y el rango de los datos.
2. Determine el conteo, la media, mediana y la moda de los datos.
Redondee la media a un lugar decimal de ser necesario.

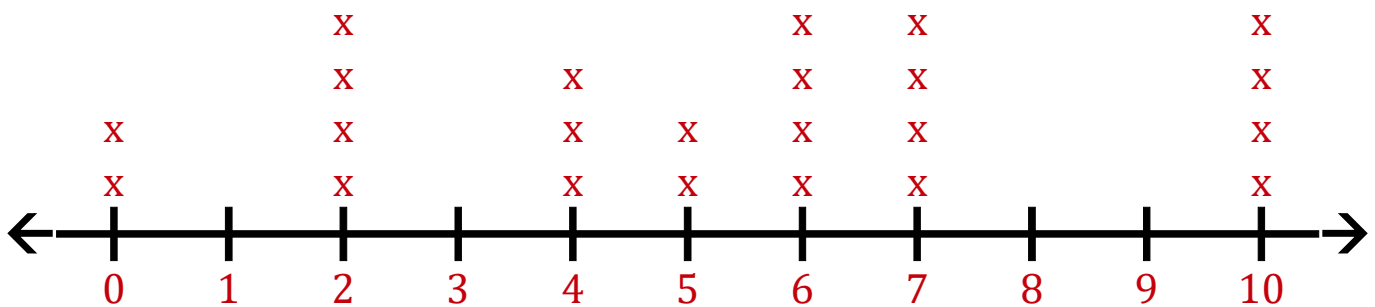
Construir Gráficos de Líneas (J) Respuestas

Construya un gráfico a partir de los datos, y responda las preguntas.

Conjunto de Datos 10

2	7	2	4	4	6	7	2	10	0	0
10	10	5	7	2	10	7	6	5	6	6
4										

Gráfico de Líneas 10



1. Determine el valor mínimo, el valor máximo y el rango de los datos.

Mínimo: 0 Máximo: 10 Rango: 10

2. Determine el conteo, la media, mediana y la moda de los datos.
Redondee la media a un lugar decimal de ser necesario.

Conteo: 23 Mediana: 6 Moda: 2 6 7 10 Media: 5.3