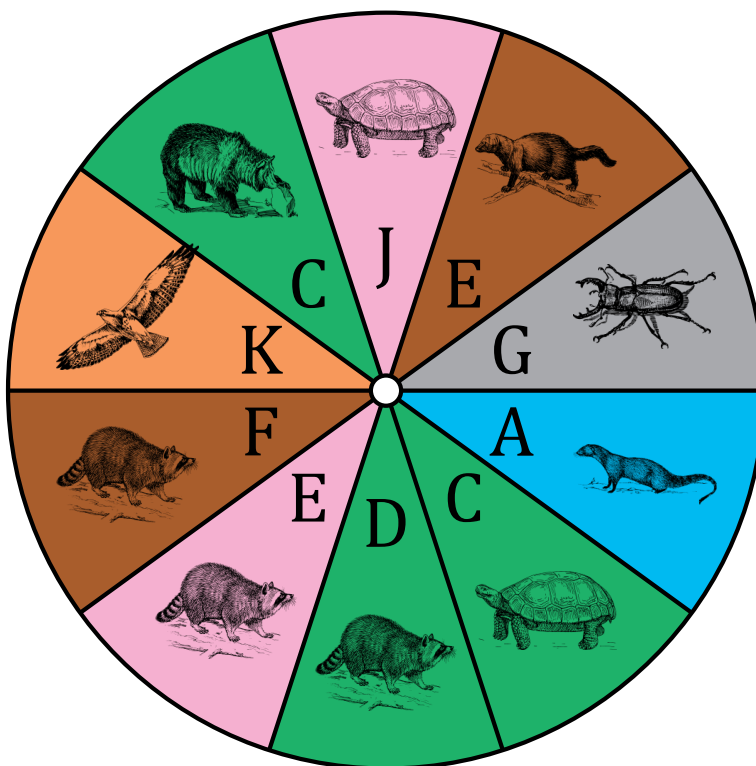


# Probabilidades con Peonza (A)

Nombre: \_\_\_\_\_

Fecha: \_\_\_\_\_

Calcule la probabilidad de que la peonza caiga en cada situación.



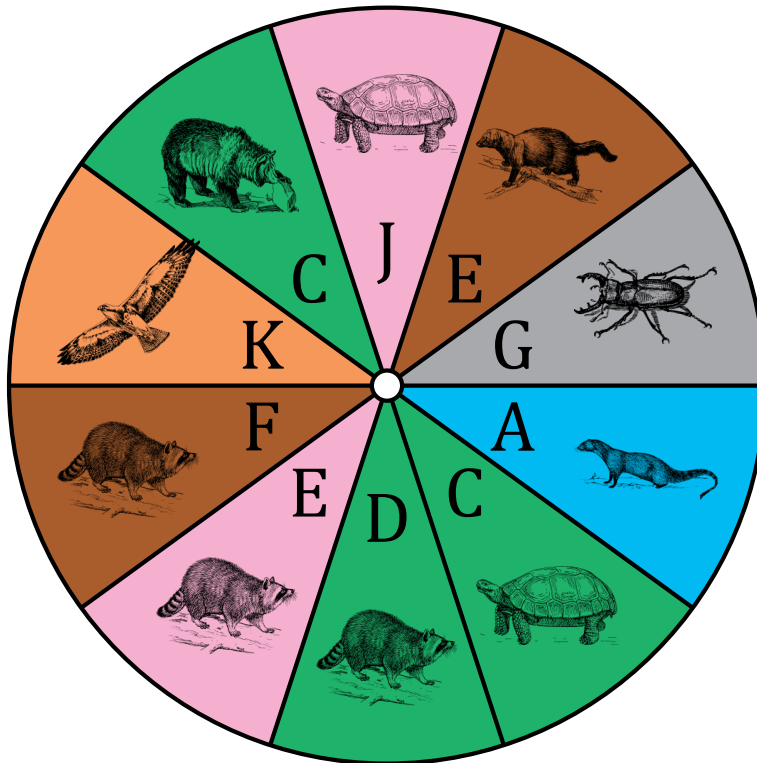
1. ¿Cuál es la probabilidad de que la peonza caiga en **gris** en un solo giro?
2. ¿Cuál es la probabilidad de que la peonza caiga en **cian** en un solo giro?
3. ¿Cuál es la probabilidad de que la peonza caiga en **una F** en un solo giro?
4. ¿Cuál es la probabilidad de que la peonza caiga en **una K** en un solo giro?
5. ¿Cuál es la probabilidad de que la peonza caiga en **un mapache** en un solo giro?
6. ¿Cuál es la probabilidad de que la peonza caiga en **una tortuga** en un solo giro?
7. ¿Cuál es la probabilidad de que la peonza caiga en **un mapache O una vocal O verde** en un solo giro?
8. ¿Cuál es la probabilidad de que la peonza **NO** caiga en **un mamífero O marrón O cualquiera de las letras de la palabra BURRO** en un solo giro?

# Probabilidades con Peonza (A) Respuestas

Nombre: \_\_\_\_\_

Fecha: \_\_\_\_\_

Calcule la probabilidad de que la peonza caiga en cada situación.



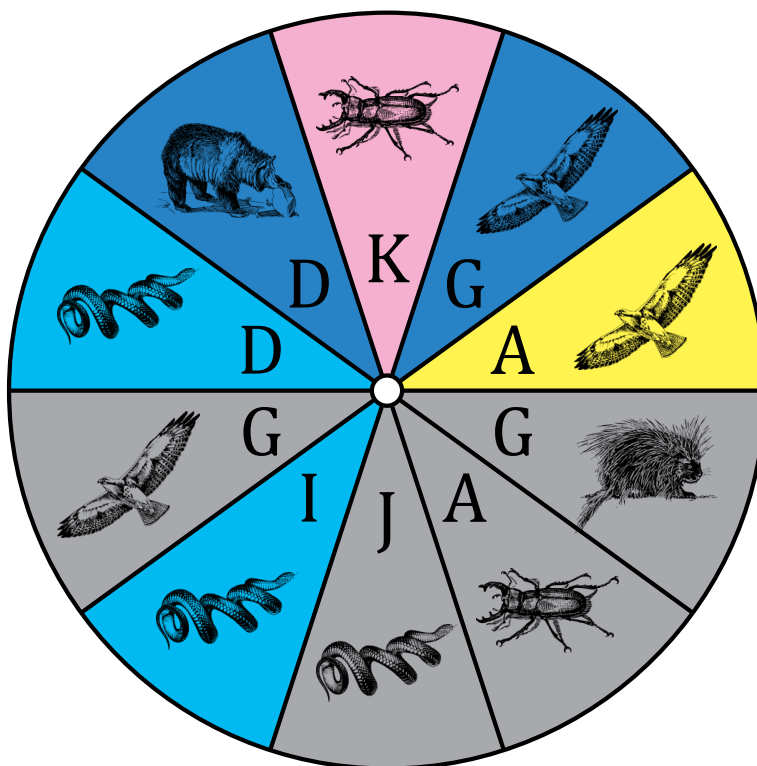
1. ¿Cuál es la probabilidad de que la peonza caiga en **gris** en un solo giro?  $\frac{1}{10} = 0.1 = 10\%$
2. ¿Cuál es la probabilidad de que la peonza caiga en **cian** en un solo giro?  $\frac{1}{10} = 0.1 = 10\%$
3. ¿Cuál es la probabilidad de que la peonza caiga en **una F** en un solo giro?  $\frac{1}{10} = 0.1 = 10\%$
4. ¿Cuál es la probabilidad de que la peonza caiga en **una K** en un solo giro?  $\frac{1}{10} = 0.1 = 10\%$
5. ¿Cuál es la probabilidad de que la peonza caiga en **un mapache** en un solo giro?  $\frac{3}{10} = 0.3 = 30\%$
6. ¿Cuál es la probabilidad de que la peonza caiga en **una tortuga** en un solo giro?  $\frac{2}{10} = \frac{1}{5} = 0.2 = 20\%$
7. ¿Cuál es la probabilidad de que la peonza caiga en **un mapache** **O** **una vocal O verde** en un solo giro?  $\frac{7}{10} = 0.7 = 70\%$
8. ¿Cuál es la probabilidad de que la peonza **NO** caiga en **un mamífero** **O** **marrón** **O** **cualquiera de las letras de la palabra BURRO** en un solo giro?  $\frac{4}{10} = \frac{2}{5} = 0.4 = 40\%$

## Probabilidades con Peonza (B)

Nombre: \_\_\_\_\_

Fecha: \_\_\_\_\_

Calcule la probabilidad de que la peonza caiga en cada situación.



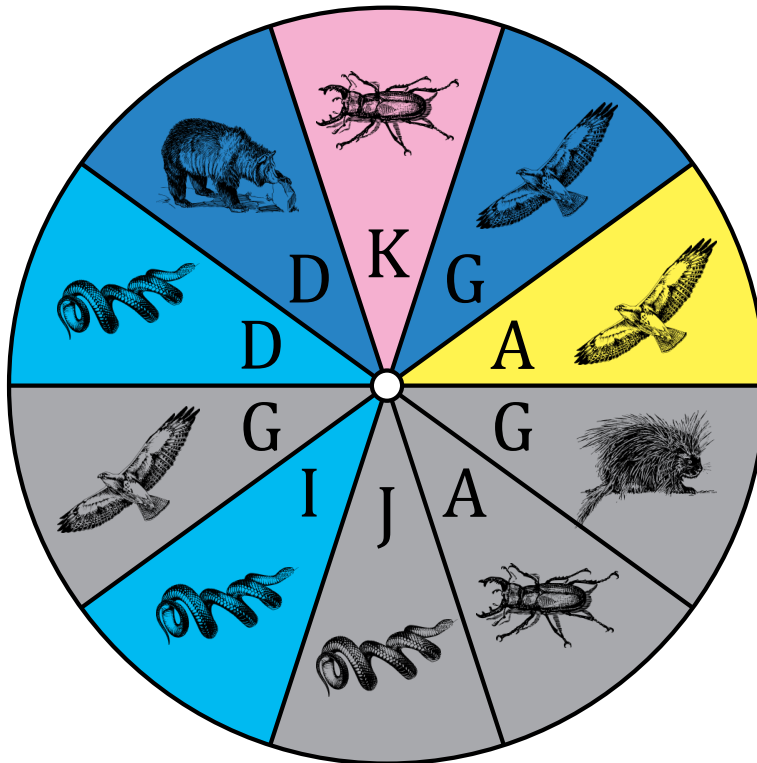
1. ¿Cuál es la probabilidad de que la peonza caiga en **cian** en un solo giro?
2. ¿Cuál es la probabilidad de que la peonza caiga en **amarillo** en un solo giro?
3. ¿Cuál es la probabilidad de que la peonza caiga en **una J** en un solo giro?
4. ¿Cuál es la probabilidad de que la peonza caiga en **una A** en un solo giro?
5. ¿Cuál es la probabilidad de que la peonza caiga en **un escarabajo** en un solo giro?
6. ¿Cuál es la probabilidad de que la peonza caiga en **un oso** en un solo giro?
7. ¿Cuál es la probabilidad de que la peonza caiga en **gris** **O** **un escarabajo** **O** cualquiera de las **letras de la palabra GRIS** en un solo giro?
8. ¿Cuál es la probabilidad de que la peonza **NO** caiga en **un mamífero** **O** **azul** **O** cualquiera de las **letras de la palabra JAGUAR** en un solo giro?

# Probabilidades con Peonza (B) Respuestas

Nombre: \_\_\_\_\_

Fecha: \_\_\_\_\_

Calcule la probabilidad de que la peonza caiga en cada situación.




1. ¿Cuál es la probabilidad de que la peonza caiga en **cian** en un solo giro?  $\frac{2}{10} = \frac{1}{5} = 0.2 = 20\%$
2. ¿Cuál es la probabilidad de que la peonza caiga en **amarillo** en un solo giro?  $\frac{1}{10} = 0.1 = 10\%$
3. ¿Cuál es la probabilidad de que la peonza caiga en **una J** en un solo giro?  $\frac{1}{10} = 0.1 = 10\%$
4. ¿Cuál es la probabilidad de que la peonza caiga en **una A** en un solo giro?  $\frac{2}{10} = \frac{1}{5} = 0.2 = 20\%$
5. ¿Cuál es la probabilidad de que la peonza caiga en **un escarabajo** en un solo giro?  $\frac{2}{10} = \frac{1}{5} = 0.2 = 20\%$
6. ¿Cuál es la probabilidad de que la peonza caiga en **un oso** en un solo giro?  $\frac{1}{10} = 0.1 = 10\%$
7. ¿Cuál es la probabilidad de que la peonza caiga en **gris** O **un escarabajo** O **cualquiera de las letras de la palabra GRIS** en un solo giro?  $\frac{7}{10} = 0.7 = 70\%$
8. ¿Cuál es la probabilidad de que la peonza **NO** caiga en **un mamífero** O **azul** O **cualquiera de las letras de la palabra JAGUAR** en un solo giro?  $\frac{3}{10} = 0.3 = 30\%$

# Probabilidades con Peonza (C)

Nombre: \_\_\_\_\_

Fecha: \_\_\_\_\_

Calcule la probabilidad de que la peonza caiga en cada situación.




1. ¿Cuál es la probabilidad de que la peonza caiga en **amarillo** en un solo giro?
2. ¿Cuál es la probabilidad de que la peonza caiga en **azul** en un solo giro?
3. ¿Cuál es la probabilidad de que la peonza caiga en **una E** en un solo giro?
4. ¿Cuál es la probabilidad de que la peonza caiga en **una C** en un solo giro?
5. ¿Cuál es la probabilidad de que la peonza caiga en **una tortuga** en un solo giro?
6. ¿Cuál es la probabilidad de que la peonza caiga en **una ardilla** en un solo giro?

# Probabilidades con Peonza (C) Respuestas

Nombre: \_\_\_\_\_

Fecha: \_\_\_\_\_

Calcule la probabilidad de que la peonza caiga en cada situación.



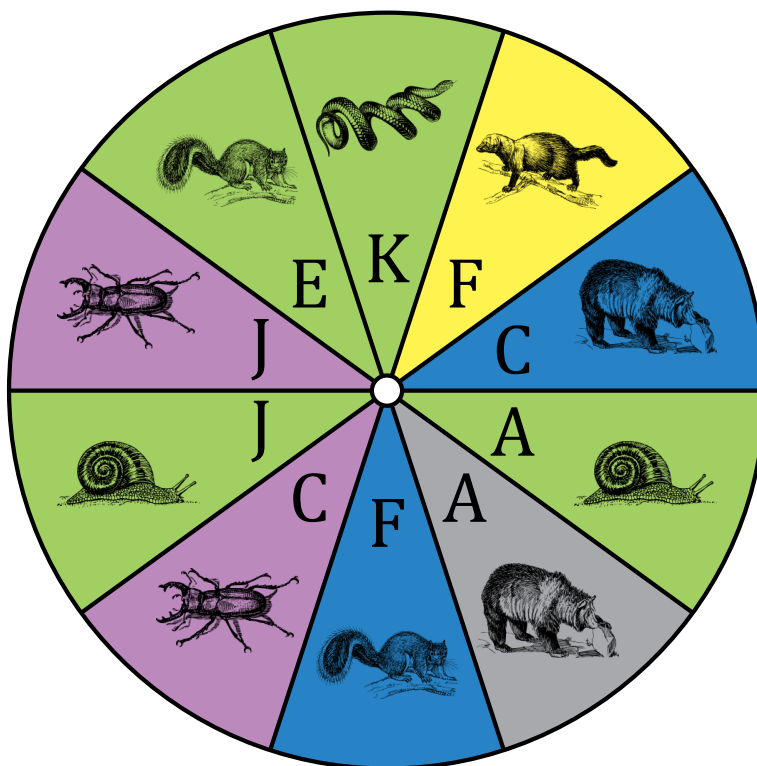
1. ¿Cuál es la probabilidad de que la peonza caiga en **amarillo** en un solo giro?  $\frac{2}{10} = \frac{1}{5} = 0.2 = 20\%$
2. ¿Cuál es la probabilidad de que la peonza caiga en **azul** en un solo giro?  $\frac{1}{10} = 0.1 = 10\%$
3. ¿Cuál es la probabilidad de que la peonza caiga en **una E** en un solo giro?  $\frac{1}{10} = 0.1 = 10\%$
4. ¿Cuál es la probabilidad de que la peonza caiga en **una C** en un solo giro?  $\frac{2}{10} = \frac{1}{5} = 0.2 = 20\%$
5. ¿Cuál es la probabilidad de que la peonza caiga en **una tortuga** en un solo giro?  $\frac{1}{10} = 0.1 = 10\%$
6. ¿Cuál es la probabilidad de que la peonza caiga en **una ardilla** en un solo giro?  $\frac{1}{10} = 0.1 = 10\%$

## Probabilidades con Peonza (D)

Nombre: \_\_\_\_\_

Fecha: \_\_\_\_\_

Calcule la probabilidad de que la peonza caiga en cada situación.



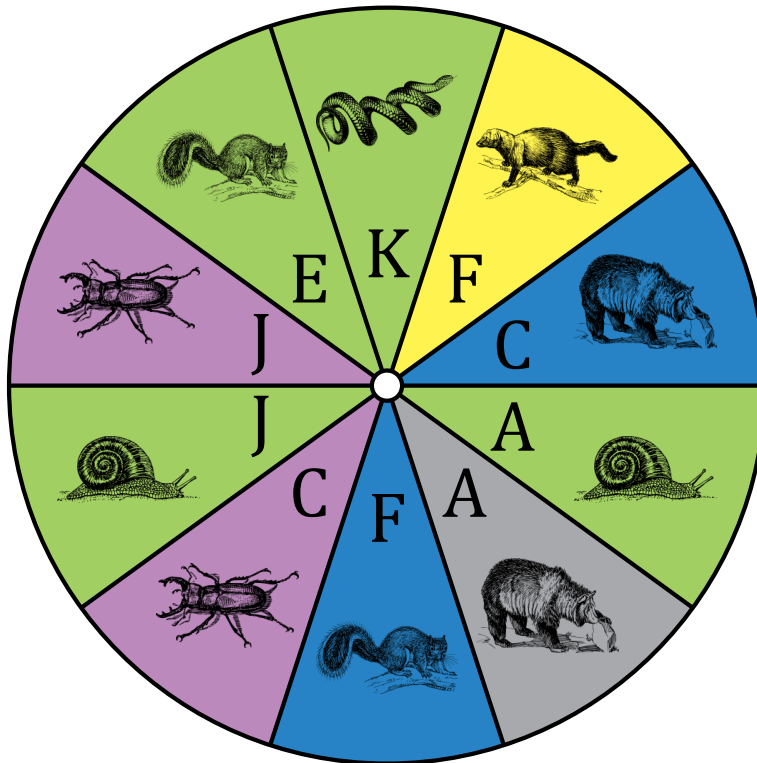
1. ¿Cuál es la probabilidad de que la peonza caiga en **azul** en un solo giro?
2. ¿Cuál es la probabilidad de que la peonza caiga en **violeta** en un solo giro?
3. ¿Cuál es la probabilidad de que la peonza caiga en **una F** en un solo giro?
4. ¿Cuál es la probabilidad de que la peonza caiga en **una A** en un solo giro?
5. ¿Cuál es la probabilidad de que la peonza caiga en **una ardilla** en un solo giro?
6. ¿Cuál es la probabilidad de que la peonza caiga en **un oso** en un solo giro?

# Probabilidades con Peonza (D) Respuestas

Nombre: \_\_\_\_\_

Fecha: \_\_\_\_\_

Calcule la probabilidad de que la peonza caiga en cada situación.



1. ¿Cuál es la probabilidad de que la peonza caiga en **azul** en un solo giro?  $\frac{2}{10} = \frac{1}{5} = 0.2 = 20\%$
2. ¿Cuál es la probabilidad de que la peonza caiga en **violeta** en un solo giro?  $\frac{2}{10} = \frac{1}{5} = 0.2 = 20\%$
3. ¿Cuál es la probabilidad de que la peonza caiga en **una F** en un solo giro?  $\frac{2}{10} = \frac{1}{5} = 0.2 = 20\%$
4. ¿Cuál es la probabilidad de que la peonza caiga en **una A** en un solo giro?  $\frac{2}{10} = \frac{1}{5} = 0.2 = 20\%$
5. ¿Cuál es la probabilidad de que la peonza caiga en **una ardilla** en un solo giro?  $\frac{2}{10} = \frac{1}{5} = 0.2 = 20\%$
6. ¿Cuál es la probabilidad de que la peonza caiga en **un oso** en un solo giro?  $\frac{2}{10} = \frac{1}{5} = 0.2 = 20\%$

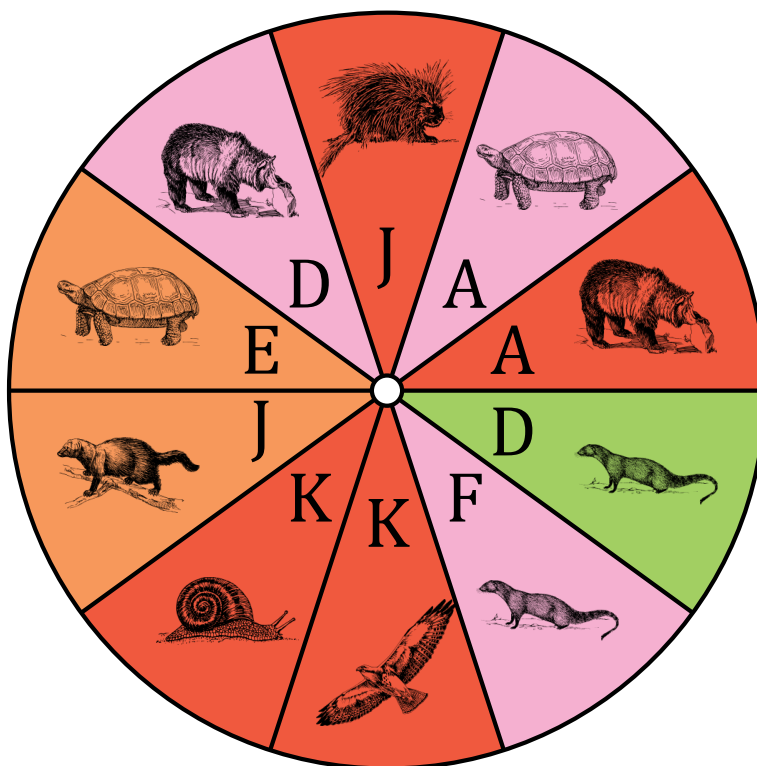


## Probabilidades con Peonza (E)

Nombre: \_\_\_\_\_

Fecha: \_\_\_\_\_

Calcule la probabilidad de que la peonza caiga en cada situación.



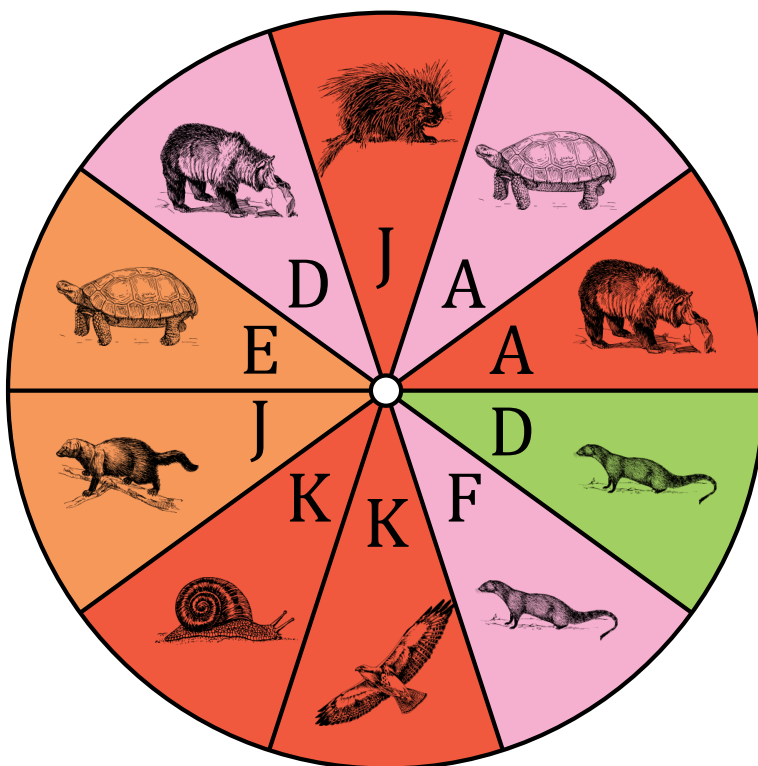
1. ¿Cuál es la probabilidad de que la peonza caiga en **rosa** en un solo giro?
2. ¿Cuál es la probabilidad de que la peonza caiga en **naranja** en un solo giro?
3. ¿Cuál es la probabilidad de que la peonza caiga en **una K** en un solo giro?
4. ¿Cuál es la probabilidad de que la peonza caiga en **una E** en un solo giro?
5. ¿Cuál es la probabilidad de que la peonza caiga en **un caracol** en un solo giro?
6. ¿Cuál es la probabilidad de que la peonza caiga en **un oso** en un solo giro?

## Probabilidades con Peonza (E) Respuestas

Nombre: \_\_\_\_\_

Fecha: \_\_\_\_\_

Calcule la probabilidad de que la peonza caiga en cada situación.



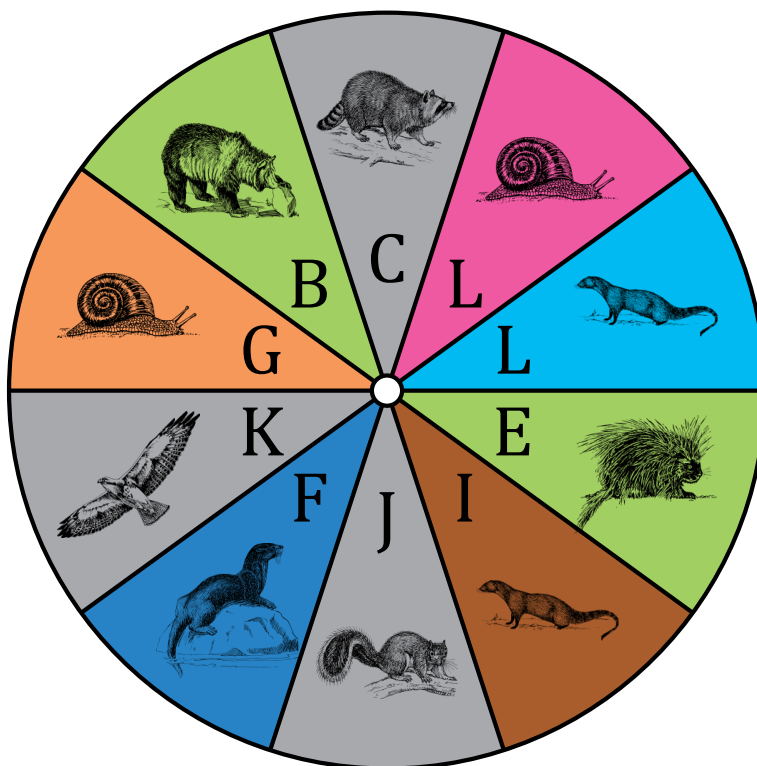
1. ¿Cuál es la probabilidad de que la peonza caiga en **rosa** en un solo giro?  $\frac{3}{10} = 0.3 = 30\%$
2. ¿Cuál es la probabilidad de que la peonza caiga en **naranja** en un solo giro?  $\frac{2}{10} = \frac{1}{5} = 0.2 = 20\%$
3. ¿Cuál es la probabilidad de que la peonza caiga en **una K** en un solo giro?  $\frac{2}{10} = \frac{1}{5} = 0.2 = 20\%$
4. ¿Cuál es la probabilidad de que la peonza caiga en **una E** en un solo giro?  $\frac{1}{10} = 0.1 = 10\%$
5. ¿Cuál es la probabilidad de que la peonza caiga en **un caracol** en un solo giro?  $\frac{1}{10} = 0.1 = 10\%$
6. ¿Cuál es la probabilidad de que la peonza caiga en **un oso** en un solo giro?  $\frac{2}{10} = \frac{1}{5} = 0.2 = 20\%$

# Probabilidades con Peonza (F)

Nombre: \_\_\_\_\_

Fecha: \_\_\_\_\_

Calcule la probabilidad de que la peonza caiga en cada situación.



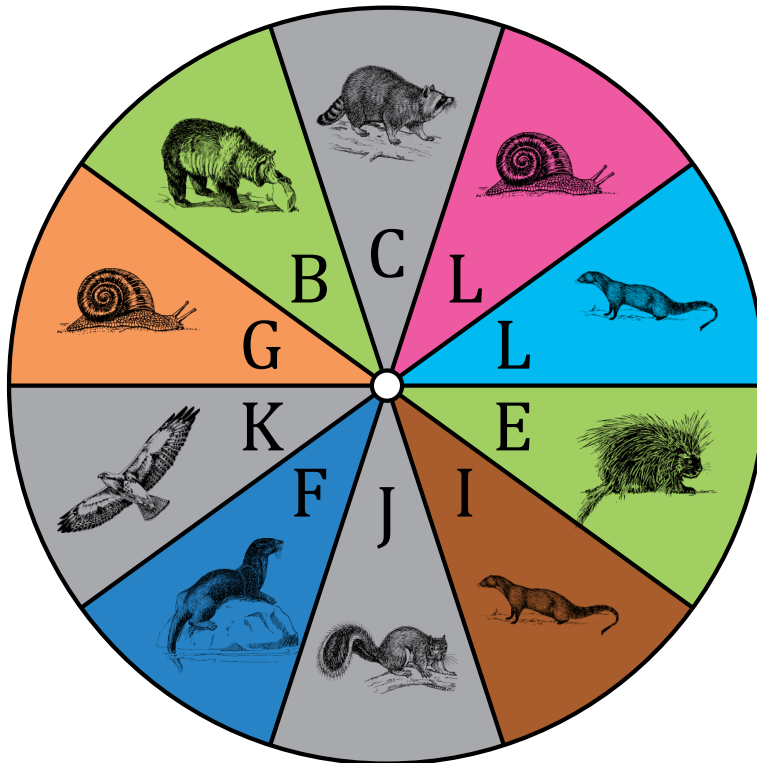
1. ¿Cuál es la probabilidad de que la peonza caiga en **verde lima** en un solo giro?
2. ¿Cuál es la probabilidad de que la peonza caiga en **naranja** en un solo giro?
3. ¿Cuál es la probabilidad de que la peonza caiga en **una G** en un solo giro?
4. ¿Cuál es la probabilidad de que la peonza caiga en **una K** en un solo giro?
5. ¿Cuál es la probabilidad de que la peonza caiga en **un oso** en un solo giro?
6. ¿Cuál es la probabilidad de que la peonza caiga en **una nutria** en un solo giro?

# Probabilidades con Peonza (F) Respuestas

Nombre: \_\_\_\_\_

Fecha: \_\_\_\_\_

Calcule la probabilidad de que la peonza caiga en cada situación.



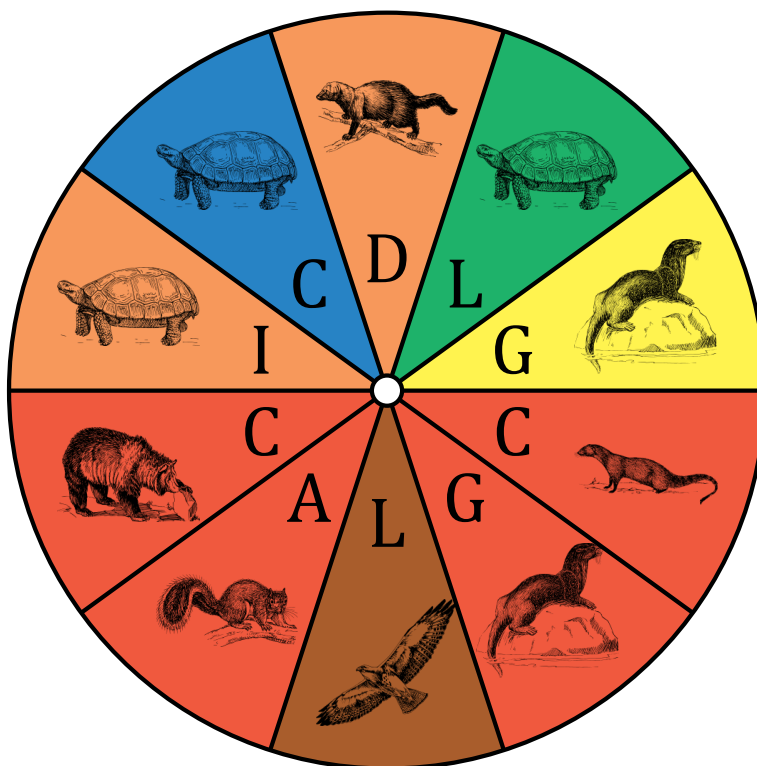
1. ¿Cuál es la probabilidad de que la peonza caiga en **verde lima** en un solo giro?  $\frac{2}{10} = \frac{1}{5} = 0.2 = 20\%$
2. ¿Cuál es la probabilidad de que la peonza caiga en **naranja** en un solo giro?  $\frac{1}{10} = 0.1 = 10\%$
3. ¿Cuál es la probabilidad de que la peonza caiga en **una G** en un solo giro?  $\frac{1}{10} = 0.1 = 10\%$
4. ¿Cuál es la probabilidad de que la peonza caiga en **una K** en un solo giro?  $\frac{1}{10} = 0.1 = 10\%$
5. ¿Cuál es la probabilidad de que la peonza caiga en **un oso** en un solo giro?  $\frac{1}{10} = 0.1 = 10\%$
6. ¿Cuál es la probabilidad de que la peonza caiga en **una nutria** en un solo giro?  $\frac{1}{10} = 0.1 = 10\%$

# Probabilidades con Peonza (G)

Nombre: \_\_\_\_\_

Fecha: \_\_\_\_\_

Calcule la probabilidad de que la peonza caiga en cada situación.



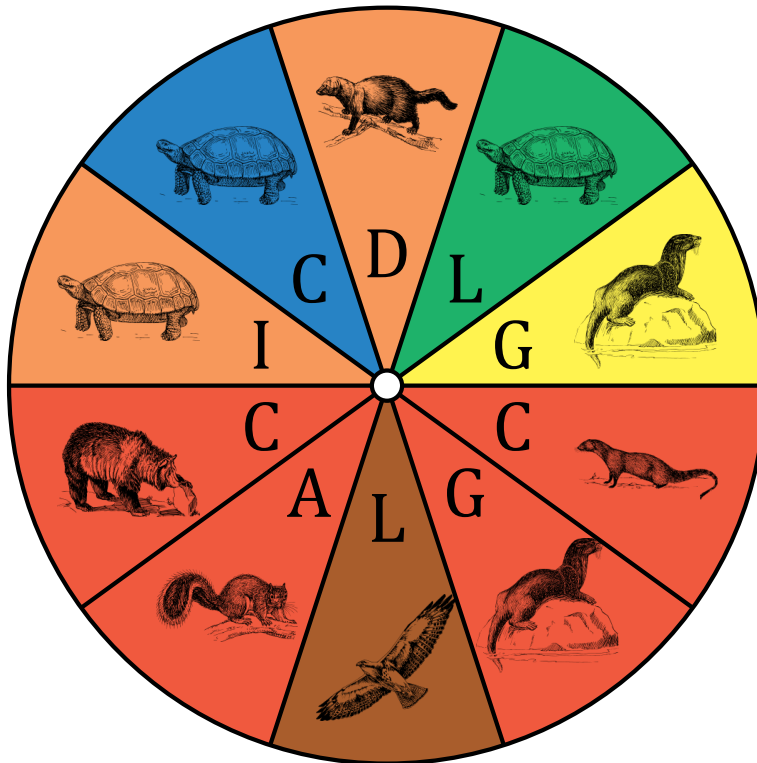
1. ¿Cuál es la probabilidad de que la peonza caiga en **marrón** en un solo giro?
2. ¿Cuál es la probabilidad de que la peonza caiga en **naranja** en un solo giro?
3. ¿Cuál es la probabilidad de que la peonza caiga en **una L** en un solo giro?
4. ¿Cuál es la probabilidad de que la peonza caiga en **una G** en un solo giro?
5. ¿Cuál es la probabilidad de que la peonza caiga en **una ardilla** en un solo giro?
6. ¿Cuál es la probabilidad de que la peonza caiga en **una tortuga** en un solo giro?

# Probabilidades con Peonza (G) Respuestas

Nombre: \_\_\_\_\_

Fecha: \_\_\_\_\_

Calcule la probabilidad de que la peonza caiga en cada situación.



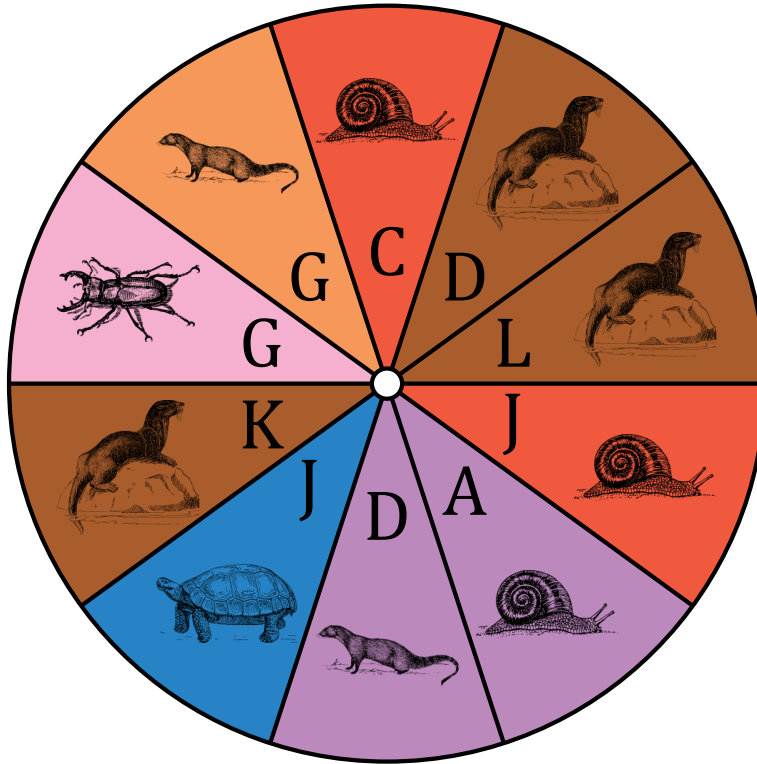
1. ¿Cuál es la probabilidad de que la peonza caiga en **marrón** en un solo giro?  $\frac{1}{10} = 0.1 = 10\%$
2. ¿Cuál es la probabilidad de que la peonza caiga en **naranja** en un solo giro?  $\frac{2}{10} = \frac{1}{5} = 0.2 = 20\%$
3. ¿Cuál es la probabilidad de que la peonza caiga en **una L** en un solo giro?  $\frac{2}{10} = \frac{1}{5} = 0.2 = 20\%$
4. ¿Cuál es la probabilidad de que la peonza caiga en **una G** en un solo giro?  $\frac{2}{10} = \frac{1}{5} = 0.2 = 20\%$
5. ¿Cuál es la probabilidad de que la peonza caiga en **una ardilla** en un solo giro?  $\frac{1}{10} = 0.1 = 10\%$
6. ¿Cuál es la probabilidad de que la peonza caiga en **una tortuga** en un solo giro?  $\frac{3}{10} = 0.3 = 30\%$

# Probabilidades con Peonza (H)

Nombre: \_\_\_\_\_

Fecha: \_\_\_\_\_

Calcule la probabilidad de que la peonza caiga en cada situación.



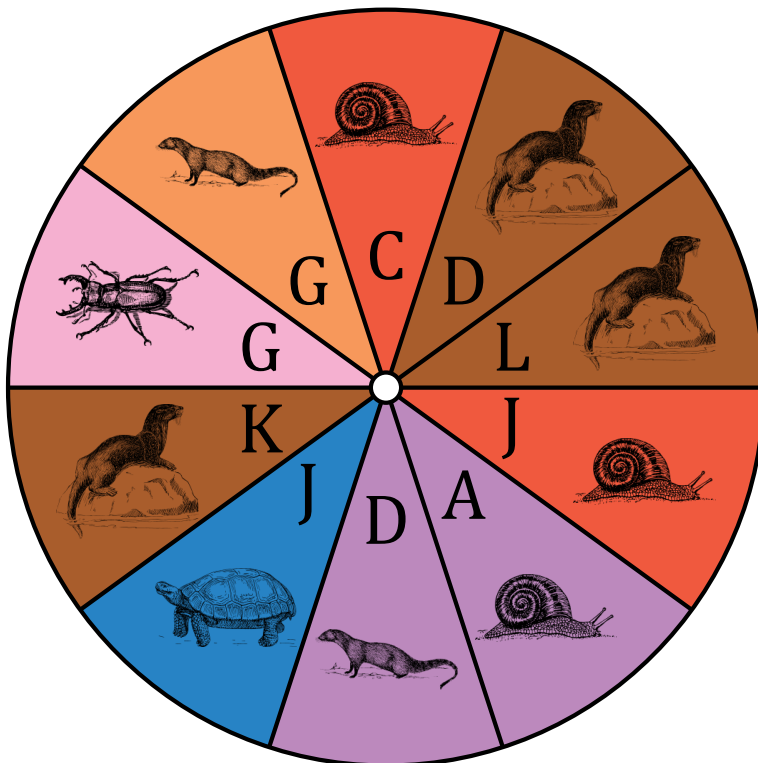
1. ¿Cuál es la probabilidad de que la peonza caiga en **violeta** en un solo giro?
2. ¿Cuál es la probabilidad de que la peonza caiga en **naranja** en un solo giro?
3. ¿Cuál es la probabilidad de que la peonza caiga en **una L** en un solo giro?
4. ¿Cuál es la probabilidad de que la peonza caiga en **una D** en un solo giro?
5. ¿Cuál es la probabilidad de que la peonza caiga en **un caracol** en un solo giro?
6. ¿Cuál es la probabilidad de que la peonza caiga en **una mangosta** en un solo giro?

# Probabilidades con Peonza (H) Respuestas

Nombre: \_\_\_\_\_

Fecha: \_\_\_\_\_

Calcule la probabilidad de que la peonza caiga en cada situación.



1. ¿Cuál es la probabilidad de que la peonza caiga en **violeta** en un solo giro?  $\frac{2}{10} = \frac{1}{5} = 0.2 = 20\%$
2. ¿Cuál es la probabilidad de que la peonza caiga en **naranja** en un solo giro?  $\frac{1}{10} = 0.1 = 10\%$
3. ¿Cuál es la probabilidad de que la peonza caiga en **una L** en un solo giro?  $\frac{1}{10} = 0.1 = 10\%$
4. ¿Cuál es la probabilidad de que la peonza caiga en **una D** en un solo giro?  $\frac{2}{10} = \frac{1}{5} = 0.2 = 20\%$
5. ¿Cuál es la probabilidad de que la peonza caiga en **un caracol** en un solo giro?  $\frac{3}{10} = 0.3 = 30\%$
6. ¿Cuál es la probabilidad de que la peonza caiga en **una mangosta** en un solo giro?  $\frac{2}{10} = \frac{1}{5} = 0.2 = 20\%$

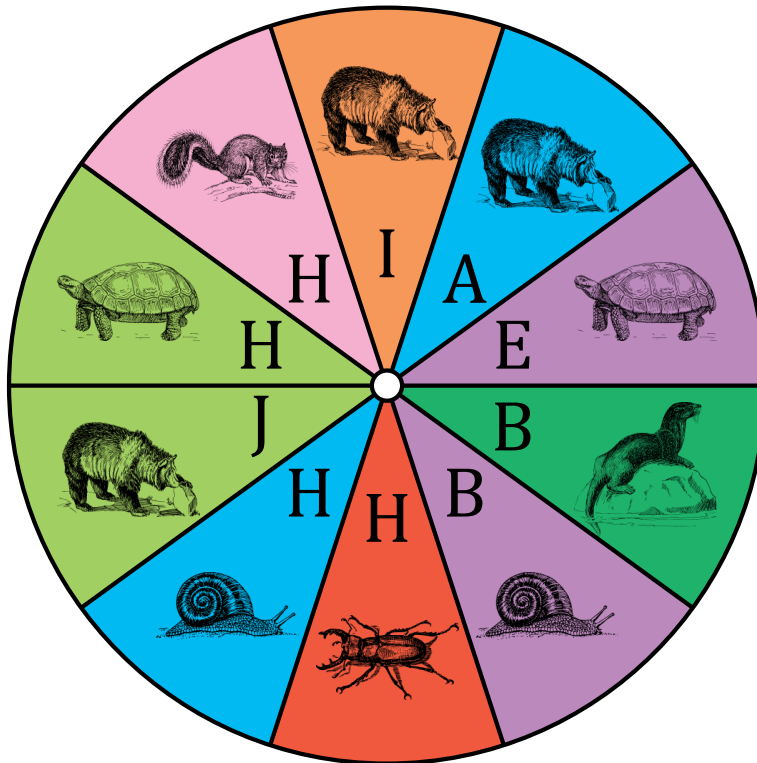


# Probabilidades con Peonza (I)

Nombre: \_\_\_\_\_

Fecha: \_\_\_\_\_

Calcule la probabilidad de que la peonza caiga en cada situación.



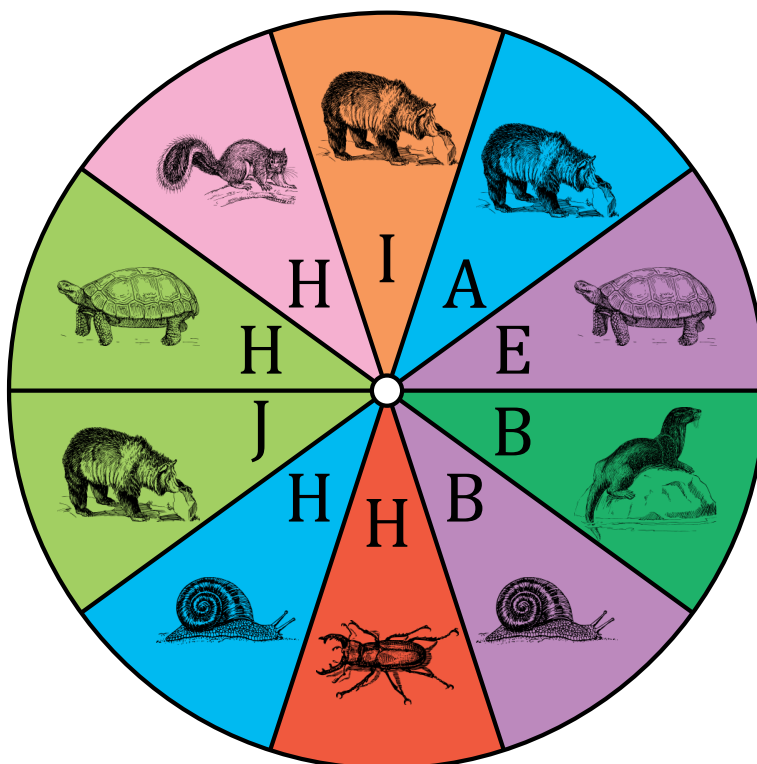
1. ¿Cuál es la probabilidad de que la peonza caiga en **rojo** en un solo giro?
2. ¿Cuál es la probabilidad de que la peonza caiga en **cian** en un solo giro?
3. ¿Cuál es la probabilidad de que la peonza caiga en **una I** en un solo giro?
4. ¿Cuál es la probabilidad de que la peonza caiga en **una A** en un solo giro?
5. ¿Cuál es la probabilidad de que la peonza caiga en **un caracol** en un solo giro?
6. ¿Cuál es la probabilidad de que la peonza caiga en **un escarabajo** en un solo giro?

# Probabilidades con Peonza (I) Respuestas

Nombre: \_\_\_\_\_

Fecha: \_\_\_\_\_

Calcule la probabilidad de que la peonza caiga en cada situación.



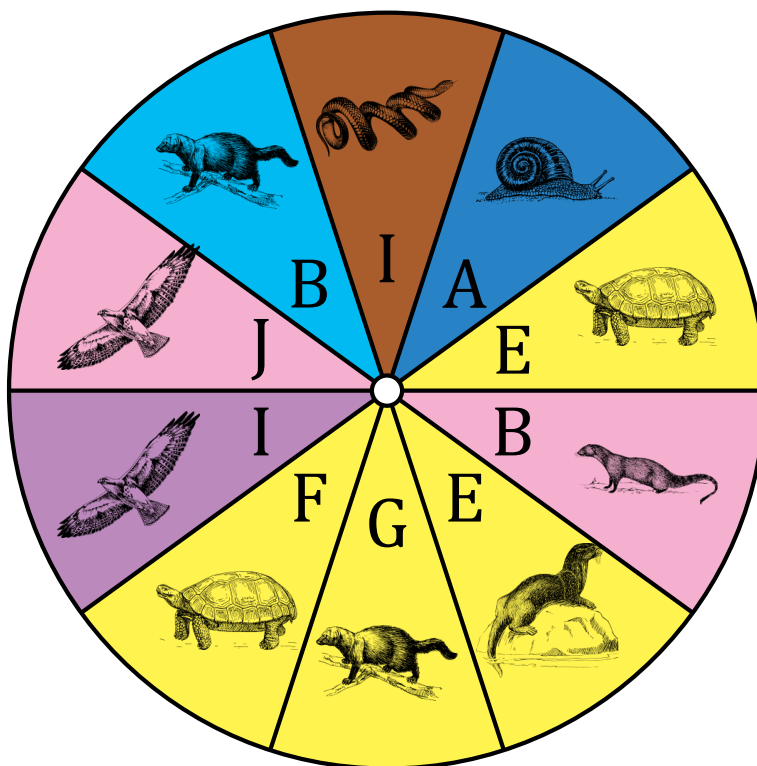
1. ¿Cuál es la probabilidad de que la peonza caiga en **rojo** en un solo giro?  $\frac{1}{10} = 0.1 = 10\%$
2. ¿Cuál es la probabilidad de que la peonza caiga en **cian** en un solo giro?  $\frac{2}{10} = \frac{1}{5} = 0.2 = 20\%$
3. ¿Cuál es la probabilidad de que la peonza caiga en **una I** en un solo giro?  $\frac{1}{10} = 0.1 = 10\%$
4. ¿Cuál es la probabilidad de que la peonza caiga en **una A** en un solo giro?  $\frac{1}{10} = 0.1 = 10\%$
5. ¿Cuál es la probabilidad de que la peonza caiga en **un caracol** en un solo giro?  $\frac{2}{10} = \frac{1}{5} = 0.2 = 20\%$
6. ¿Cuál es la probabilidad de que la peonza caiga en **un escarabajo** en un solo giro?  $\frac{1}{10} = 0.1 = 10\%$

# Probabilidades con Peonza (J)

Nombre: \_\_\_\_\_

Fecha: \_\_\_\_\_

Calcule la probabilidad de que la peonza caiga en cada situación.



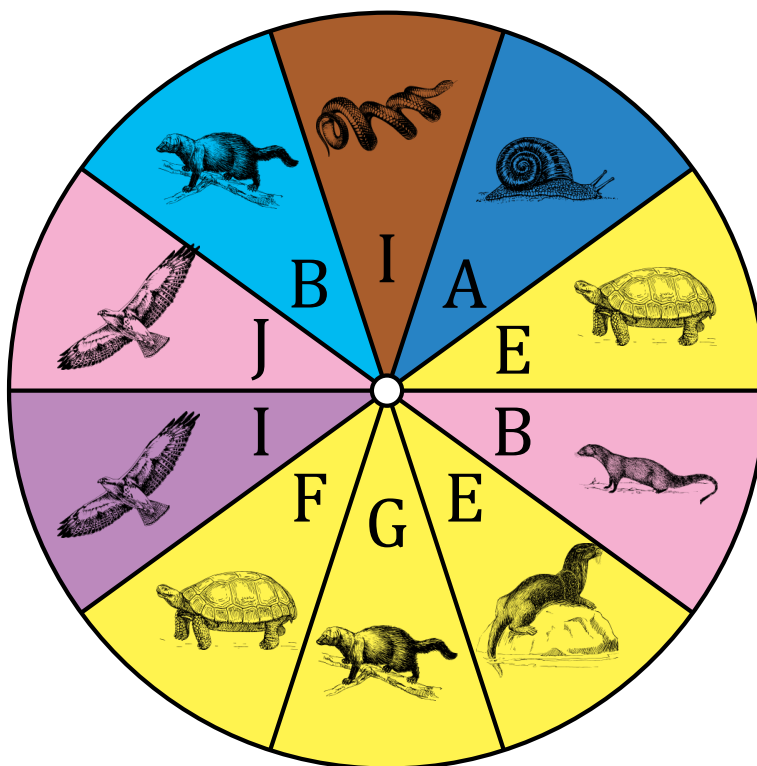
1. ¿Cuál es la probabilidad de que la peonza caiga en **amarillo** en un solo giro?
2. ¿Cuál es la probabilidad de que la peonza caiga en **violeta** en un solo giro?
3. ¿Cuál es la probabilidad de que la peonza caiga en **una E** en un solo giro?
4. ¿Cuál es la probabilidad de que la peonza caiga en **una A** en un solo giro?
5. ¿Cuál es la probabilidad de que la peonza caiga en **una marta** en un solo giro?
6. ¿Cuál es la probabilidad de que la peonza caiga en **una mangosta** en un solo giro?

# Probabilidades con Peonza (J) Respuestas

Nombre: \_\_\_\_\_

Fecha: \_\_\_\_\_

Calcule la probabilidad de que la peonza caiga en cada situación.



1. ¿Cuál es la probabilidad de que la peonza caiga en **amarillo** en un solo giro?  $\frac{4}{10} = \frac{2}{5} = 0.4 = 40\%$
2. ¿Cuál es la probabilidad de que la peonza caiga en **violeta** en un solo giro?  $\frac{1}{10} = 0.1 = 10\%$
3. ¿Cuál es la probabilidad de que la peonza caiga en **una E** en un solo giro?  $\frac{2}{10} = \frac{1}{5} = 0.2 = 20\%$
4. ¿Cuál es la probabilidad de que la peonza caiga en **una A** en un solo giro?  $\frac{1}{10} = 0.1 = 10\%$
5. ¿Cuál es la probabilidad de que la peonza caiga en **una marta** en un solo giro?  $\frac{2}{10} = \frac{1}{5} = 0.2 = 20\%$
6. ¿Cuál es la probabilidad de que la peonza caiga en **una mangosta** en un solo giro?  $\frac{1}{10} = 0.1 = 10\%$