

Práctica con Bolas de Nieve (A)

Nombre: _____

Fecha: _____

Lanza cada bola de nieve a la diana correcta.

$$\begin{array}{r} 78 \\ \times 3 \\ \hline \end{array}$$



$$\begin{array}{r} 32 \\ \times 9 \\ \hline \end{array}$$



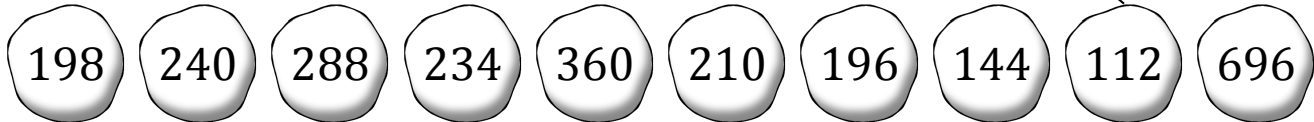
$$\begin{array}{r} 14 \\ \times 8 \\ \hline \end{array}$$



$$\begin{array}{r} 87 \\ \times 8 \\ \hline \end{array}$$



$$\begin{array}{r} 28 \\ \times 7 \\ \hline \end{array}$$



$$\begin{array}{r} 48 \\ \times 5 \\ \hline \end{array}$$



$$\begin{array}{r} 66 \\ \times 3 \\ \hline \end{array}$$



$$\begin{array}{r} 48 \\ \times 3 \\ \hline \end{array}$$



$$\begin{array}{r} 45 \\ \times 8 \\ \hline \end{array}$$



$$\begin{array}{r} 70 \\ \times 3 \\ \hline \end{array}$$

Práctica con Bolas de Nieve (A) Respuestas

Nombre: _____

Fecha: _____

Lanza cada bola de nieve a la diana correcta.

$$\begin{array}{r} 78 \\ \times 3 \\ \hline \end{array}$$



$$\begin{array}{r} 32 \\ \times 9 \\ \hline \end{array}$$



$$\begin{array}{r} 14 \\ \times 8 \\ \hline \end{array}$$



$$\begin{array}{r} 87 \\ \times 8 \\ \hline \end{array}$$



$$\begin{array}{r} 28 \\ \times 7 \\ \hline \end{array}$$



198

240

288

234

360

210

196

144

112

696



$$\begin{array}{r} 48 \\ \times 5 \\ \hline \end{array}$$



$$\begin{array}{r} 66 \\ \times 3 \\ \hline \end{array}$$



$$\begin{array}{r} 48 \\ \times 3 \\ \hline \end{array}$$



$$\begin{array}{r} 45 \\ \times 8 \\ \hline \end{array}$$



$$\begin{array}{r} 70 \\ \times 3 \\ \hline \end{array}$$

Práctica con Bolas de Nieve (B)

Nombre: _____

Fecha: _____

Lanza cada bola de nieve a la diana correcta.

$$\begin{array}{r} 79 \\ \times 3 \\ \hline \end{array}$$



$$\begin{array}{r} 46 \\ \times 2 \\ \hline \end{array}$$



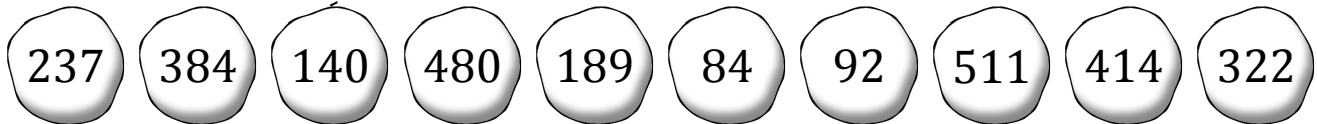
$$\begin{array}{r} 46 \\ \times 7 \\ \hline \end{array}$$



$$\begin{array}{r} 21 \\ \times 9 \\ \hline \end{array}$$



$$\begin{array}{r} 35 \\ \times 4 \\ \hline \end{array}$$



$$\begin{array}{r} 21 \\ \times 4 \\ \hline \end{array}$$



$$\begin{array}{r} 69 \\ \times 6 \\ \hline \end{array}$$



$$\begin{array}{r} 80 \\ \times 6 \\ \hline \end{array}$$



$$\begin{array}{r} 73 \\ \times 7 \\ \hline \end{array}$$













$$\begin{array}{r} 48 \\ \times 8 \\ \hline \end{array}$$

Práctica con Bolas de Nieve (B) Respuestas

Nombre: _____

Fecha: _____

Lanza cada bola de nieve a la diana correcta.

$\begin{array}{r} 79 \\ \times 3 \\ \hline \end{array}$	$\begin{array}{r} 46 \\ \times 2 \\ \hline \end{array}$	$\begin{array}{r} 46 \\ \times 7 \\ \hline \end{array}$	$\begin{array}{r} 21 \\ \times 9 \\ \hline \end{array}$	$\begin{array}{r} 35 \\ \times 4 \\ \hline \end{array}$					
									
237	384	140	480	189	84	92	511	414	322
									
$\begin{array}{r} 21 \\ \times 4 \\ \hline \end{array}$	$\begin{array}{r} 69 \\ \times 6 \\ \hline \end{array}$	$\begin{array}{r} 80 \\ \times 6 \\ \hline \end{array}$	$\begin{array}{r} 73 \\ \times 7 \\ \hline \end{array}$	$\begin{array}{r} 48 \\ \times 8 \\ \hline \end{array}$					

Práctica con Bolas de Nieve (C)

Nombre: _____

Fecha: _____

Lanza cada bola de nieve a la diana correcta.

$$\begin{array}{r} 15 \\ \times 2 \\ \hline \end{array}$$



$$\begin{array}{r} 98 \\ \times 7 \\ \hline \end{array}$$



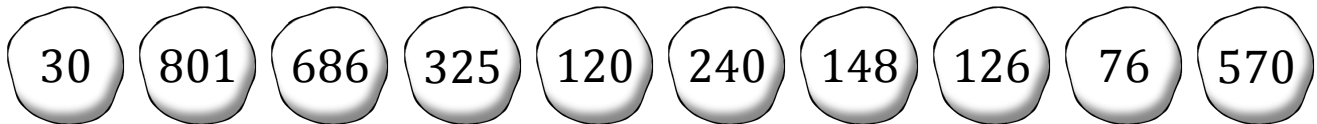
$$\begin{array}{r} 24 \\ \times 5 \\ \hline \end{array}$$



$$\begin{array}{r} 65 \\ \times 5 \\ \hline \end{array}$$



$$\begin{array}{r} 60 \\ \times 4 \\ \hline \end{array}$$



$$\begin{array}{r} 19 \\ \times 4 \\ \hline \end{array}$$



$$\begin{array}{r} 37 \\ \times 4 \\ \hline \end{array}$$



$$\begin{array}{r} 89 \\ \times 9 \\ \hline \end{array}$$



$$\begin{array}{r} 42 \\ \times 3 \\ \hline \end{array}$$



$$\begin{array}{r} 95 \\ \times 6 \\ \hline \end{array}$$

Práctica con Bolas de Nieve (C) Respuestas

Nombre: _____

Fecha: _____

Lanza cada bola de nieve a la diana correcta.

15
 $\times 2$

98
 $\times 7$

24
 $\times 5$

65
 $\times 5$

60
 $\times 4$

30

801

686

325

120

240

148

126

76

570

19
 $\times 4$

37
 $\times 4$

89
 $\times 9$

42
 $\times 3$

95
 $\times 6$

Práctica con Bolas de Nieve (D)

Nombre: _____

Fecha: _____

Lanza cada bola de nieve a la diana correcta.

$$\begin{array}{r} 62 \\ \times 6 \\ \hline \end{array}$$



$$\begin{array}{r} 56 \\ \times 6 \\ \hline \end{array}$$



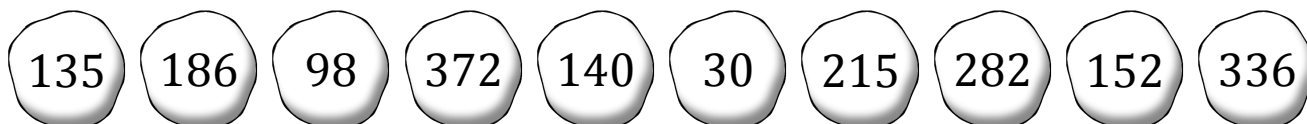
$$\begin{array}{r} 20 \\ \times 7 \\ \hline \end{array}$$



$$\begin{array}{r} 31 \\ \times 6 \\ \hline \end{array}$$



$$\begin{array}{r} 14 \\ \times 7 \\ \hline \end{array}$$



$$\begin{array}{r} 38 \\ \times 4 \\ \hline \end{array}$$



$$\begin{array}{r} 15 \\ \times 9 \\ \hline \end{array}$$



$$\begin{array}{r} 43 \\ \times 5 \\ \hline \end{array}$$



$$\begin{array}{r} 15 \\ \times 2 \\ \hline \end{array}$$



$$\begin{array}{r} 47 \\ \times 6 \\ \hline \end{array}$$

Práctica con Bolas de Nieve (D) Respuestas

Nombre: _____

Fecha: _____

Lanza cada bola de nieve a la diana correcta.

$$\begin{array}{r} 62 \\ \times 6 \\ \hline \end{array}$$



$$\begin{array}{r} 56 \\ \times 6 \\ \hline \end{array}$$



$$\begin{array}{r} 20 \\ \times 7 \\ \hline \end{array}$$



$$\begin{array}{r} 31 \\ \times 6 \\ \hline \end{array}$$



$$\begin{array}{r} 14 \\ \times 7 \\ \hline \end{array}$$



135

186

98

372

140

30

215

282

152

336



$$\begin{array}{r} 38 \\ \times 4 \\ \hline \end{array}$$



$$\begin{array}{r} 15 \\ \times 9 \\ \hline \end{array}$$



$$\begin{array}{r} 43 \\ \times 5 \\ \hline \end{array}$$



$$\begin{array}{r} 15 \\ \times 2 \\ \hline \end{array}$$



$$\begin{array}{r} 47 \\ \times 6 \\ \hline \end{array}$$

Práctica con Bolas de Nieve (E)

Nombre: _____

Fecha: _____

Lanza cada bola de nieve a la diana correcta.

$$\begin{array}{r} 57 \\ \times 2 \\ \hline \end{array}$$



$$\begin{array}{r} 58 \\ \times 2 \\ \hline \end{array}$$



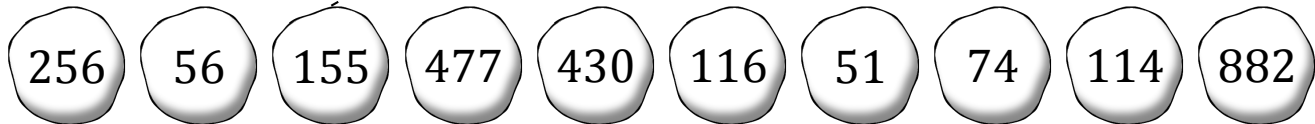
$$\begin{array}{r} 86 \\ \times 5 \\ \hline \end{array}$$



$$\begin{array}{r} 37 \\ \times 2 \\ \hline \end{array}$$



$$\begin{array}{r} 31 \\ \times 5 \\ \hline \end{array}$$



$$\begin{array}{r} 98 \\ \times 9 \\ \hline \end{array}$$



$$\begin{array}{r} 53 \\ \times 9 \\ \hline \end{array}$$



$$\begin{array}{r} 17 \\ \times 3 \\ \hline \end{array}$$



$$\begin{array}{r} 28 \\ \times 2 \\ \hline \end{array}$$



$$\begin{array}{r} 64 \\ \times 4 \\ \hline \end{array}$$

Práctica con Bolas de Nieve (E) Respuestas

Nombre: _____

Fecha: _____

Lanza cada bola de nieve a la diana correcta.

$$\begin{array}{r} 57 \\ \times 2 \\ \hline \end{array}$$



$$\begin{array}{r} 58 \\ \times 2 \\ \hline \end{array}$$



$$\begin{array}{r} 86 \\ \times 5 \\ \hline \end{array}$$



$$\begin{array}{r} 37 \\ \times 2 \\ \hline \end{array}$$



$$\begin{array}{r} 31 \\ \times 5 \\ \hline \end{array}$$



256

56

155

477

430

116

51

74

114

882



$$\begin{array}{r} 98 \\ \times 9 \\ \hline \end{array}$$



$$\begin{array}{r} 53 \\ \times 9 \\ \hline \end{array}$$



$$\begin{array}{r} 17 \\ \times 3 \\ \hline \end{array}$$



$$\begin{array}{r} 28 \\ \times 2 \\ \hline \end{array}$$



$$\begin{array}{r} 64 \\ \times 4 \\ \hline \end{array}$$

Práctica con Bolas de Nieve (F)

Nombre: _____

Fecha: _____

Lanza cada bola de nieve a la diana correcta.

$$\begin{array}{r} 95 \\ \times 2 \\ \hline \end{array}$$



$$\begin{array}{r} 17 \\ \times 6 \\ \hline \end{array}$$



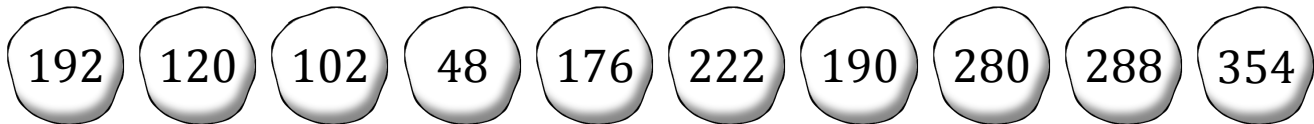
$$\begin{array}{r} 59 \\ \times 6 \\ \hline \end{array}$$



$$\begin{array}{r} 88 \\ \times 2 \\ \hline \end{array}$$



$$\begin{array}{r} 56 \\ \times 5 \\ \hline \end{array}$$



$$\begin{array}{r} 60 \\ \times 2 \\ \hline \end{array}$$



$$\begin{array}{r} 72 \\ \times 4 \\ \hline \end{array}$$



$$\begin{array}{r} 12 \\ \times 4 \\ \hline \end{array}$$



$$\begin{array}{r} 37 \\ \times 6 \\ \hline \end{array}$$



$$\begin{array}{r} 48 \\ \times 4 \\ \hline \end{array}$$

Práctica con Bolas de Nieve (F) Respuestas

Nombre: _____

Fecha: _____

Lanza cada bola de nieve a la diana correcta.

$$\begin{array}{r} 95 \\ \times 2 \\ \hline \end{array}$$



$$\begin{array}{r} 17 \\ \times 6 \\ \hline \end{array}$$



$$\begin{array}{r} 59 \\ \times 6 \\ \hline \end{array}$$



$$\begin{array}{r} 88 \\ \times 2 \\ \hline \end{array}$$



$$\begin{array}{r} 56 \\ \times 5 \\ \hline \end{array}$$



192

120

102

48

176

222

190

280

288

354



$$\begin{array}{r} 60 \\ \times 2 \\ \hline \end{array}$$



$$\begin{array}{r} 72 \\ \times 4 \\ \hline \end{array}$$



$$\begin{array}{r} 12 \\ \times 4 \\ \hline \end{array}$$



$$\begin{array}{r} 37 \\ \times 6 \\ \hline \end{array}$$



$$\begin{array}{r} 48 \\ \times 4 \\ \hline \end{array}$$

Práctica con Bolas de Nieve (G)

Nombre: _____

Fecha: _____

Lanza cada bola de nieve a la diana correcta.

$$\begin{array}{r} 20 \\ \times 4 \\ \hline \end{array}$$



$$\begin{array}{r} 73 \\ \times 2 \\ \hline \end{array}$$



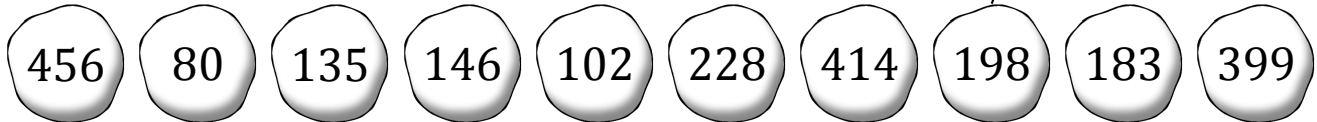
$$\begin{array}{r} 15 \\ \times 9 \\ \hline \end{array}$$



$$\begin{array}{r} 76 \\ \times 6 \\ \hline \end{array}$$



$$\begin{array}{r} 99 \\ \times 2 \\ \hline \end{array}$$



$$\begin{array}{r} 46 \\ \times 9 \\ \hline \end{array}$$



$$\begin{array}{r} 38 \\ \times 6 \\ \hline \end{array}$$



$$\begin{array}{r} 57 \\ \times 7 \\ \hline \end{array}$$



$$\begin{array}{r} 61 \\ \times 3 \\ \hline \end{array}$$



$$\begin{array}{r} 51 \\ \times 2 \\ \hline \end{array}$$

Práctica con Bolas de Nieve (G) Respuestas

Nombre: _____

Fecha: _____

Lanza cada bola de nieve a la diana correcta.

$$\begin{array}{r} 20 \\ \times 4 \\ \hline \end{array}$$



$$\begin{array}{r} 73 \\ \times 2 \\ \hline \end{array}$$



$$\begin{array}{r} 15 \\ \times 9 \\ \hline \end{array}$$



$$\begin{array}{r} 76 \\ \times 6 \\ \hline \end{array}$$



$$\begin{array}{r} 99 \\ \times 2 \\ \hline \end{array}$$



456

80

135

146

102

228

414

198

183

399



$$\begin{array}{r} 46 \\ \times 9 \\ \hline \end{array}$$



$$\begin{array}{r} 38 \\ \times 6 \\ \hline \end{array}$$



$$\begin{array}{r} 57 \\ \times 7 \\ \hline \end{array}$$



$$\begin{array}{r} 61 \\ \times 3 \\ \hline \end{array}$$



$$\begin{array}{r} 51 \\ \times 2 \\ \hline \end{array}$$

Práctica con Bolas de Nieve (H)

Nombre: _____

Fecha: _____

Lanza cada bola de nieve a la diana correcta.

$$\begin{array}{r} 84 \\ \times 7 \\ \hline \end{array}$$



$$\begin{array}{r} 94 \\ \times 7 \\ \hline \end{array}$$




$$\begin{array}{r} 60 \\ \times 3 \\ \hline \end{array}$$



$$\begin{array}{r} 73 \\ \times 6 \\ \hline \end{array}$$



$$\begin{array}{r} 73 \\ \times 9 \\ \hline \end{array}$$



$$\begin{array}{r} 57 \\ \times 5 \\ \hline \end{array}$$



$$\begin{array}{r} 40 \\ \times 8 \\ \hline \end{array}$$



$$\begin{array}{r} 89 \\ \times 3 \\ \hline \end{array}$$



$$\begin{array}{r} 23 \\ \times 7 \\ \hline \end{array}$$



$$\begin{array}{r} 33 \\ \times 4 \\ \hline \end{array}$$

Práctica con Bolas de Nieve (H) Respuestas

Nombre: _____

Fecha: _____

Lanza cada bola de nieve a la diana correcta.

$$\begin{array}{r} 84 \\ \times 7 \\ \hline \end{array}$$



$$\begin{array}{r} 94 \\ \times 7 \\ \hline \end{array}$$



$$\begin{array}{r} 60 \\ \times 3 \\ \hline \end{array}$$



$$\begin{array}{r} 73 \\ \times 6 \\ \hline \end{array}$$



$$\begin{array}{r} 73 \\ \times 9 \\ \hline \end{array}$$



320

180

657

285

588

438

658

132

267

161



$$\begin{array}{r} 57 \\ \times 5 \\ \hline \end{array}$$



$$\begin{array}{r} 40 \\ \times 8 \\ \hline \end{array}$$



$$\begin{array}{r} 89 \\ \times 3 \\ \hline \end{array}$$



$$\begin{array}{r} 23 \\ \times 7 \\ \hline \end{array}$$



$$\begin{array}{r} 33 \\ \times 4 \\ \hline \end{array}$$

Práctica con Bolas de Nieve (I)

Nombre: _____

Fecha: _____

Lanza cada bola de nieve a la diana correcta.

$$\begin{array}{r} 67 \\ \times 4 \\ \hline \end{array}$$



$$\begin{array}{r} 70 \\ \times 4 \\ \hline \end{array}$$



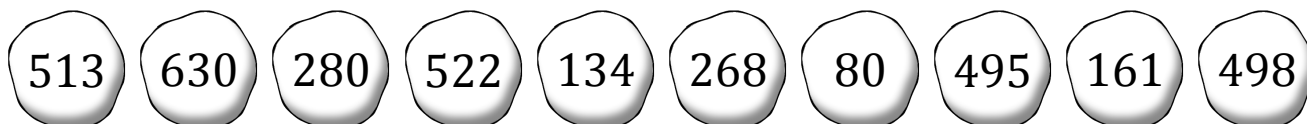
$$\begin{array}{r} 23 \\ \times 7 \\ \hline \end{array}$$



$$\begin{array}{r} 57 \\ \times 9 \\ \hline \end{array}$$



$$\begin{array}{r} 67 \\ \times 2 \\ \hline \end{array}$$



$$\begin{array}{r} 70 \\ \times 9 \\ \hline \end{array}$$



$$\begin{array}{r} 99 \\ \times 5 \\ \hline \end{array}$$



$$\begin{array}{r} 83 \\ \times 6 \\ \hline \end{array}$$



$$\begin{array}{r} 16 \\ \times 5 \\ \hline \end{array}$$



$$\begin{array}{r} 87 \\ \times 6 \\ \hline \end{array}$$

Práctica con Bolas de Nieve (I) Respuestas

Nombre: _____

Fecha: _____

Lanza cada bola de nieve a la diana correcta.

$$\begin{array}{r} 67 \\ \times 4 \\ \hline \end{array}$$



$$\begin{array}{r} 70 \\ \times 4 \\ \hline \end{array}$$



$$\begin{array}{r} 23 \\ \times 7 \\ \hline \end{array}$$



$$\begin{array}{r} 57 \\ \times 9 \\ \hline \end{array}$$



$$\begin{array}{r} 67 \\ \times 2 \\ \hline \end{array}$$



513

630

280

522

134

268

80

495

161

498



$$\begin{array}{r} 70 \\ \times 9 \\ \hline \end{array}$$



$$\begin{array}{r} 99 \\ \times 5 \\ \hline \end{array}$$



$$\begin{array}{r} 83 \\ \times 6 \\ \hline \end{array}$$



$$\begin{array}{r} 16 \\ \times 5 \\ \hline \end{array}$$



$$\begin{array}{r} 87 \\ \times 6 \\ \hline \end{array}$$

Práctica con Bolas de Nieve (J)

Nombre: _____

Fecha: _____

Lanza cada bola de nieve a la diana correcta.

$$\begin{array}{r} 23 \\ \times 7 \\ \hline \end{array}$$



$$\begin{array}{r} 10 \\ \times 4 \\ \hline \end{array}$$



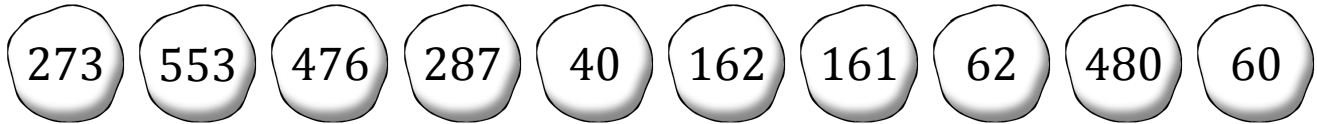
$$\begin{array}{r} 15 \\ \times 4 \\ \hline \end{array}$$



$$\begin{array}{r} 68 \\ \times 7 \\ \hline \end{array}$$



$$\begin{array}{r} 79 \\ \times 7 \\ \hline \end{array}$$



$$\begin{array}{r} 41 \\ \times 7 \\ \hline \end{array}$$



$$\begin{array}{r} 80 \\ \times 6 \\ \hline \end{array}$$



$$\begin{array}{r} 91 \\ \times 3 \\ \hline \end{array}$$



$$\begin{array}{r} 31 \\ \times 2 \\ \hline \end{array}$$



$$\begin{array}{r} 81 \\ \times 2 \\ \hline \end{array}$$

Práctica con Bolas de Nieve (J) Respuestas

Nombre: _____

Fecha: _____

Lanza cada bola de nieve a la diana correcta.

$$\begin{array}{r} 23 \\ \times 7 \\ \hline \end{array}$$



$$\begin{array}{r} 10 \\ \times 4 \\ \hline \end{array}$$



$$\begin{array}{r} 15 \\ \times 4 \\ \hline \end{array}$$



$$\begin{array}{r} 68 \\ \times 7 \\ \hline \end{array}$$



$$\begin{array}{r} 79 \\ \times 7 \\ \hline \end{array}$$



273

553

476

287

40

162

161

62

480

60



$$\begin{array}{r} 41 \\ \times 7 \\ \hline \end{array}$$



$$\begin{array}{r} 80 \\ \times 6 \\ \hline \end{array}$$



$$\begin{array}{r} 91 \\ \times 3 \\ \hline \end{array}$$



$$\begin{array}{r} 31 \\ \times 2 \\ \hline \end{array}$$



$$\begin{array}{r} 81 \\ \times 2 \\ \hline \end{array}$$