

Práctica con Bolas de Nieve (A)

Nombre: _____

Fecha: _____

Lanza cada bola de nieve a la diana correcta.

$$\begin{array}{r} 142 \\ - 48 \\ \hline \end{array}$$



$$\begin{array}{r} 105 \\ - 20 \\ \hline \end{array}$$



$$\begin{array}{r} 171 \\ - 87 \\ \hline \end{array}$$



$$\begin{array}{r} 179 \\ - 83 \\ \hline \end{array}$$



$$\begin{array}{r} 148 \\ - 79 \\ \hline \end{array}$$



20

96

85

15

22

69

84

94

41

49



$$\begin{array}{r} 91 \\ - 76 \\ \hline \end{array}$$



$$\begin{array}{r} 67 \\ - 18 \\ \hline \end{array}$$



$$\begin{array}{r} 95 \\ - 54 \\ \hline \end{array}$$



$$\begin{array}{r} 77 \\ - 55 \\ \hline \end{array}$$



$$\begin{array}{r} 100 \\ - 80 \\ \hline \end{array}$$

Práctica con Bolas de Nieve (A) Respuestas

Nombre: _____

Fecha: _____

Lanza cada bola de nieve a la diana correcta.

$$\begin{array}{r} 142 \\ - 48 \\ \hline \end{array}$$



$$\begin{array}{r} 105 \\ - 20 \\ \hline \end{array}$$



$$\begin{array}{r} 171 \\ - 87 \\ \hline \end{array}$$



$$\begin{array}{r} 179 \\ - 83 \\ \hline \end{array}$$



$$\begin{array}{r} 148 \\ - 79 \\ \hline \end{array}$$



- 20 96 85 15 22 69 84 94 41 49



$$\begin{array}{r} 91 \\ - 76 \\ \hline \end{array}$$



$$\begin{array}{r} 67 \\ - 18 \\ \hline \end{array}$$



$$\begin{array}{r} 95 \\ - 54 \\ \hline \end{array}$$



$$\begin{array}{r} 77 \\ - 55 \\ \hline \end{array}$$



$$\begin{array}{r} 100 \\ - 80 \\ \hline \end{array}$$

Práctica con Bolas de Nieve (B)

Nombre: _____

Fecha: _____

Lanza cada bola de nieve a la diana correcta.

$$\begin{array}{r} 90 \\ - 51 \\ \hline \end{array}$$



$$\begin{array}{r} 97 \\ - 28 \\ \hline \end{array}$$



$$\begin{array}{r} 135 \\ - 73 \\ \hline \end{array}$$



$$\begin{array}{r} 61 \\ - 23 \\ \hline \end{array}$$



$$\begin{array}{r} 155 \\ - 68 \\ \hline \end{array}$$



$$\begin{array}{r} 123 \\ - 55 \\ \hline \end{array}$$



$$\begin{array}{r} 75 \\ - 52 \\ \hline \end{array}$$



$$\begin{array}{r} 124 \\ - 53 \\ \hline \end{array}$$



$$\begin{array}{r} 125 \\ - 83 \\ \hline \end{array}$$



$$\begin{array}{r} 72 \\ - 42 \\ \hline \end{array}$$

Práctica con Bolas de Nieve (B) Respuestas

Nombre: _____

Fecha: _____

Lanza cada bola de nieve a la diana correcta.

$$\begin{array}{r} 90 \\ - 51 \\ \hline \end{array}$$

$$\begin{array}{r} 97 \\ - 28 \\ \hline \end{array}$$

$$\begin{array}{r} 135 \\ - 73 \\ \hline \end{array}$$

$$\begin{array}{r} 61 \\ - 23 \\ \hline \end{array}$$

$$\begin{array}{r} 155 \\ - 68 \\ \hline \end{array}$$



38

23

62

30

87

39

68

42

69

71



$$\begin{array}{r} 123 \\ - 55 \\ \hline \end{array}$$

$$\begin{array}{r} 75 \\ - 52 \\ \hline \end{array}$$

$$\begin{array}{r} 124 \\ - 53 \\ \hline \end{array}$$

$$\begin{array}{r} 125 \\ - 83 \\ \hline \end{array}$$

$$\begin{array}{r} 72 \\ - 42 \\ \hline \end{array}$$

Práctica con Bolas de Nieve (C)

Nombre: _____

Fecha: _____

Lanza cada bola de nieve a la diana correcta.

$$\begin{array}{r} 147 \\ - 73 \\ \hline \end{array}$$



$$\begin{array}{r} 102 \\ - 59 \\ \hline \end{array}$$



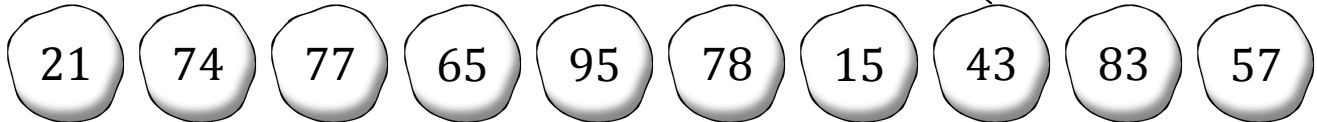
$$\begin{array}{r} 101 \\ - 80 \\ \hline \end{array}$$



$$\begin{array}{r} 169 \\ - 91 \\ \hline \end{array}$$



$$\begin{array}{r} 34 \\ - 19 \\ \hline \end{array}$$



$$\begin{array}{r} 92 \\ - 15 \\ \hline \end{array}$$



$$\begin{array}{r} 90 \\ - 33 \\ \hline \end{array}$$



$$\begin{array}{r} 125 \\ - 30 \\ \hline \end{array}$$



$$\begin{array}{r} 79 \\ - 14 \\ \hline \end{array}$$



$$\begin{array}{r} 132 \\ - 49 \\ \hline \end{array}$$

Práctica con Bolas de Nieve (C) Respuestas

Nombre: _____

Fecha: _____

Lanza cada bola de nieve a la diana correcta.


$$\begin{array}{r} 147 \\ - 73 \\ \hline \end{array}$$

$$\begin{array}{r} 102 \\ - 59 \\ \hline \end{array}$$

$$\begin{array}{r} 101 \\ - 80 \\ \hline \end{array}$$

$$\begin{array}{r} 169 \\ - 91 \\ \hline \end{array}$$

$$\begin{array}{r} 34 \\ - 19 \\ \hline \end{array}$$



$$\begin{array}{r} 92 \\ - 15 \\ \hline \end{array}$$

$$\begin{array}{r} 90 \\ - 33 \\ \hline \end{array}$$

$$\begin{array}{r} 125 \\ - 30 \\ \hline \end{array}$$

$$\begin{array}{r} 79 \\ - 14 \\ \hline \end{array}$$

$$\begin{array}{r} 132 \\ - 49 \\ \hline \end{array}$$

Práctica con Bolas de Nieve (D)

Nombre: _____

Fecha: _____

Lanza cada bola de nieve a la diana correcta.

$$\begin{array}{r} 92 \\ - 32 \\ \hline \end{array}$$



$$\begin{array}{r} 129 \\ - 52 \\ \hline \end{array}$$



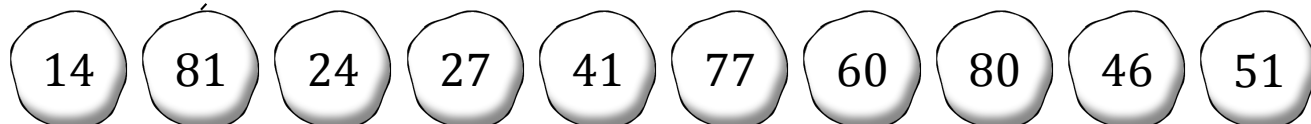
$$\begin{array}{r} 158 \\ - 77 \\ \hline \end{array}$$



$$\begin{array}{r} 106 \\ - 92 \\ \hline \end{array}$$



$$\begin{array}{r} 152 \\ - 72 \\ \hline \end{array}$$



$$\begin{array}{r} 114 \\ - 90 \\ \hline \end{array}$$



$$\begin{array}{r} 38 \\ - 11 \\ \hline \end{array}$$



$$\begin{array}{r} 132 \\ - 86 \\ \hline \end{array}$$



$$\begin{array}{r} 64 \\ - 13 \\ \hline \end{array}$$



$$\begin{array}{r} 106 \\ - 65 \\ \hline \end{array}$$

Práctica con Bolas de Nieve (D) Respuestas

Nombre: _____

Fecha: _____

Lanza cada bola de nieve a la diana correcta.

$$\begin{array}{r} 92 \\ - 32 \\ \hline \end{array}$$



$$\begin{array}{r} 129 \\ - 52 \\ \hline \end{array}$$



$$\begin{array}{r} 158 \\ - 77 \\ \hline \end{array}$$



$$\begin{array}{r} 106 \\ - 92 \\ \hline \end{array}$$



$$\begin{array}{r} 152 \\ - 72 \\ \hline \end{array}$$



14

81

24

27

41

77

60

80

46

51



$$\begin{array}{r} 114 \\ - 90 \\ \hline \end{array}$$



$$\begin{array}{r} 38 \\ - 11 \\ \hline \end{array}$$



$$\begin{array}{r} 132 \\ - 86 \\ \hline \end{array}$$



$$\begin{array}{r} 64 \\ - 13 \\ \hline \end{array}$$



$$\begin{array}{r} 106 \\ - 65 \\ \hline \end{array}$$

Práctica con Bolas de Nieve (E)

Nombre: _____

Fecha: _____

Lanza cada bola de nieve a la diana correcta.

$$\begin{array}{r} 85 \\ - 47 \\ \hline \end{array}$$



$$\begin{array}{r} 125 \\ - 54 \\ \hline \end{array}$$



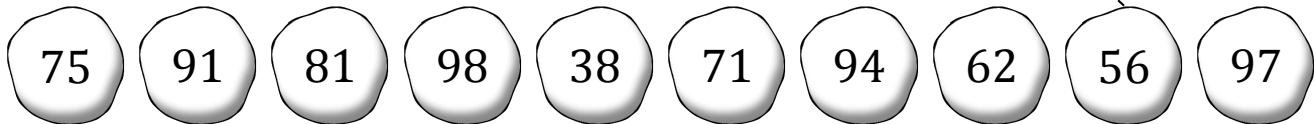
$$\begin{array}{r} 91 \\ - 35 \\ \hline \end{array}$$



$$\begin{array}{r} 125 \\ - 31 \\ \hline \end{array}$$



$$\begin{array}{r} 137 \\ - 56 \\ \hline \end{array}$$



$$\begin{array}{r} 126 \\ - 64 \\ \hline \end{array}$$



$$\begin{array}{r} 168 \\ - 77 \\ \hline \end{array}$$



$$\begin{array}{r} 134 \\ - 37 \\ \hline \end{array}$$



$$\begin{array}{r} 140 \\ - 42 \\ \hline \end{array}$$



$$\begin{array}{r} 159 \\ - 84 \\ \hline \end{array}$$

Práctica con Bolas de Nieve (E) Respuestas

Nombre: _____

Fecha: _____

Lanza cada bola de nieve a la diana correcta.

$$\begin{array}{r} 85 \\ - 47 \\ \hline \end{array}$$



$$\begin{array}{r} 125 \\ - 54 \\ \hline \end{array}$$



$$\begin{array}{r} 91 \\ - 35 \\ \hline \end{array}$$



$$\begin{array}{r} 125 \\ - 31 \\ \hline \end{array}$$



$$\begin{array}{r} 137 \\ - 56 \\ \hline \end{array}$$



75

91

81

98

38

71

94

62

56

97



$$\begin{array}{r} 126 \\ - 64 \\ \hline \end{array}$$



$$\begin{array}{r} 168 \\ - 77 \\ \hline \end{array}$$



$$\begin{array}{r} 134 \\ - 37 \\ \hline \end{array}$$



$$\begin{array}{r} 140 \\ - 42 \\ \hline \end{array}$$



$$\begin{array}{r} 159 \\ - 84 \\ \hline \end{array}$$

Práctica con Bolas de Nieve (F)

Nombre: _____

Fecha: _____

Lanza cada bola de nieve a la diana correcta.

$$\begin{array}{r} 68 \\ - 49 \\ \hline \end{array}$$



$$\begin{array}{r} 92 \\ - 32 \\ \hline \end{array}$$



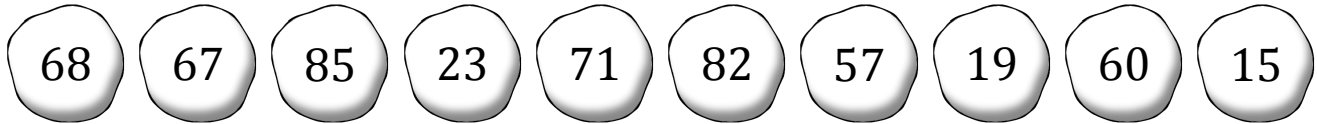
$$\begin{array}{r} 92 \\ - 35 \\ \hline \end{array}$$



$$\begin{array}{r} 98 \\ - 75 \\ \hline \end{array}$$



$$\begin{array}{r} 93 \\ - 26 \\ \hline \end{array}$$



$$\begin{array}{r} 114 \\ - 32 \\ \hline \end{array}$$



$$\begin{array}{r} 93 \\ - 25 \\ \hline \end{array}$$



$$\begin{array}{r} 126 \\ - 55 \\ \hline \end{array}$$



$$\begin{array}{r} 76 \\ - 61 \\ \hline \end{array}$$



$$\begin{array}{r} 105 \\ - 20 \\ \hline \end{array}$$

Práctica con Bolas de Nieve (F) Respuestas

Nombre: _____

Fecha: _____

Lanza cada bola de nieve a la diana correcta.

$$\begin{array}{r} 68 \\ - 49 \\ \hline \end{array}$$



$$\begin{array}{r} 92 \\ - 32 \\ \hline \end{array}$$



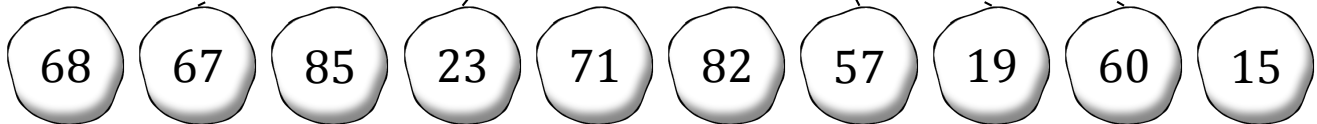
$$\begin{array}{r} 92 \\ - 35 \\ \hline \end{array}$$



$$\begin{array}{r} 98 \\ - 75 \\ \hline \end{array}$$



$$\begin{array}{r} 93 \\ - 26 \\ \hline \end{array}$$



$$\begin{array}{r} 114 \\ - 32 \\ \hline \end{array}$$



$$\begin{array}{r} 93 \\ - 25 \\ \hline \end{array}$$



$$\begin{array}{r} 126 \\ - 55 \\ \hline \end{array}$$



$$\begin{array}{r} 76 \\ - 61 \\ \hline \end{array}$$



$$\begin{array}{r} 105 \\ - 20 \\ \hline \end{array}$$

Práctica con Bolas de Nieve (G)

Nombre: _____

Fecha: _____

Lanza cada bola de nieve a la diana correcta.

$$\begin{array}{r} 133 \\ - 99 \\ \hline \end{array}$$



$$\begin{array}{r} 171 \\ - 88 \\ \hline \end{array}$$



$$\begin{array}{r} 128 \\ - 35 \\ \hline \end{array}$$



$$\begin{array}{r} 85 \\ - 39 \\ \hline \end{array}$$



$$\begin{array}{r} 124 \\ - 66 \\ \hline \end{array}$$



$$\begin{array}{r} 84 \\ - 14 \\ \hline \end{array}$$



$$\begin{array}{r} 127 \\ - 45 \\ \hline \end{array}$$



$$\begin{array}{r} 91 \\ - 66 \\ \hline \end{array}$$



$$\begin{array}{r} 158 \\ - 85 \\ \hline \end{array}$$



$$\begin{array}{r} 79 \\ - 49 \\ \hline \end{array}$$

Práctica con Bolas de Nieve (G) Respuestas

Nombre: _____

Fecha: _____

Lanza cada bola de nieve a la diana correcta.

$$\begin{array}{r} 133 \\ - 99 \\ \hline \end{array}$$

$$\begin{array}{r} 171 \\ - 88 \\ \hline \end{array}$$

$$\begin{array}{r} 128 \\ - 35 \\ \hline \end{array}$$

$$\begin{array}{r} 85 \\ - 39 \\ \hline \end{array}$$

$$\begin{array}{r} 124 \\ - 66 \\ \hline \end{array}$$



73

70

34

25

93

82

30

83

46

58



$$\begin{array}{r} 84 \\ - 14 \\ \hline \end{array}$$

$$\begin{array}{r} 127 \\ - 45 \\ \hline \end{array}$$

$$\begin{array}{r} 91 \\ - 66 \\ \hline \end{array}$$

$$\begin{array}{r} 158 \\ - 85 \\ \hline \end{array}$$

$$\begin{array}{r} 79 \\ - 49 \\ \hline \end{array}$$

Práctica con Bolas de Nieve (H)

Nombre: _____

Fecha: _____

Lanza cada bola de nieve a la diana correcta.

$$\begin{array}{r} 87 \\ - 11 \\ \hline \end{array}$$



$$\begin{array}{r} 146 \\ - 93 \\ \hline \end{array}$$




$$\begin{array}{r} 112 \\ - 15 \\ \hline \end{array}$$



$$\begin{array}{r} 106 \\ - 11 \\ \hline \end{array}$$



$$\begin{array}{r} 150 \\ - 99 \\ \hline \end{array}$$



$$\begin{array}{r} 134 \\ - 94 \\ \hline \end{array}$$



$$\begin{array}{r} 95 \\ - 26 \\ \hline \end{array}$$



$$\begin{array}{r} 145 \\ - 97 \\ \hline \end{array}$$



$$\begin{array}{r} 162 \\ - 91 \\ \hline \end{array}$$



$$\begin{array}{r} 118 \\ - 45 \\ \hline \end{array}$$

Práctica con Bolas de Nieve (H) Respuestas

Nombre: _____

Fecha: _____

Lanza cada bola de nieve a la diana correcta.

$$\begin{array}{r} 87 \\ - 11 \\ \hline \end{array}$$



$$\begin{array}{r} 146 \\ - 93 \\ \hline \end{array}$$



$$\begin{array}{r} 112 \\ - 15 \\ \hline \end{array}$$



$$\begin{array}{r} 106 \\ - 11 \\ \hline \end{array}$$



$$\begin{array}{r} 150 \\ - 99 \\ \hline \end{array}$$



53

48

71

69

95

97

76

40

73

51



$$\begin{array}{r} 134 \\ - 94 \\ \hline \end{array}$$



$$\begin{array}{r} 95 \\ - 26 \\ \hline \end{array}$$



$$\begin{array}{r} 145 \\ - 97 \\ \hline \end{array}$$



$$\begin{array}{r} 162 \\ - 91 \\ \hline \end{array}$$



$$\begin{array}{r} 118 \\ - 45 \\ \hline \end{array}$$

Práctica con Bolas de Nieve (I)

Nombre: _____

Fecha: _____

Lanza cada bola de nieve a la diana correcta.

$$\begin{array}{r} 89 \\ - 53 \\ \hline \end{array}$$



$$\begin{array}{r} 153 \\ - 85 \\ \hline \end{array}$$



$$\begin{array}{r} 49 \\ - 39 \\ \hline \end{array}$$



$$\begin{array}{r} 118 \\ - 72 \\ \hline \end{array}$$



$$\begin{array}{r} 107 \\ - 53 \\ \hline \end{array}$$



$$\begin{array}{r} 102 \\ - 59 \\ \hline \end{array}$$



$$\begin{array}{r} 144 \\ - 86 \\ \hline \end{array}$$



$$\begin{array}{r} 136 \\ - 46 \\ \hline \end{array}$$



$$\begin{array}{r} 100 \\ - 69 \\ \hline \end{array}$$













$$\begin{array}{r} 155 \\ - 64 \\ \hline \end{array}$$

Práctica con Bolas de Nieve (I) Respuestas

Nombre: _____

Fecha: _____

Lanza cada bola de nieve a la diana correcta.

$\begin{array}{r} 89 \\ - 53 \\ \hline \end{array}$	$\begin{array}{r} 153 \\ - 85 \\ \hline \end{array}$	$\begin{array}{r} 49 \\ - 39 \\ \hline \end{array}$	$\begin{array}{r} 118 \\ - 72 \\ \hline \end{array}$	$\begin{array}{r} 107 \\ - 53 \\ \hline \end{array}$					
									
36	91	43	31	46	90	58	10	54	68
									
$\begin{array}{r} 102 \\ - 59 \\ \hline \end{array}$	$\begin{array}{r} 144 \\ - 86 \\ \hline \end{array}$	$\begin{array}{r} 136 \\ - 46 \\ \hline \end{array}$	$\begin{array}{r} 100 \\ - 69 \\ \hline \end{array}$	$\begin{array}{r} 155 \\ - 64 \\ \hline \end{array}$					

Práctica con Bolas de Nieve (J)

Nombre: _____

Fecha: _____

Lanza cada bola de nieve a la diana correcta.

$$\begin{array}{r} 122 \\ - 49 \\ \hline \end{array}$$



$$\begin{array}{r} 145 \\ - 64 \\ \hline \end{array}$$



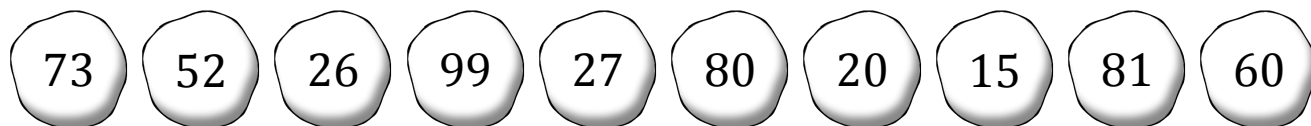
$$\begin{array}{r} 102 \\ - 76 \\ \hline \end{array}$$



$$\begin{array}{r} 75 \\ - 55 \\ \hline \end{array}$$



$$\begin{array}{r} 147 \\ - 48 \\ \hline \end{array}$$



$$\begin{array}{r} 80 \\ - 28 \\ \hline \end{array}$$



$$\begin{array}{r} 41 \\ - 26 \\ \hline \end{array}$$



$$\begin{array}{r} 156 \\ - 76 \\ \hline \end{array}$$



$$\begin{array}{r} 48 \\ - 21 \\ \hline \end{array}$$



$$\begin{array}{r} 104 \\ - 44 \\ \hline \end{array}$$

Práctica con Bolas de Nieve (J) Respuestas

Nombre: _____

Fecha: _____

Lanza cada bola de nieve a la diana correcta.

$$\begin{array}{r} 122 \\ - 49 \\ \hline \end{array}$$

$$\begin{array}{r} 145 \\ - 64 \\ \hline \end{array}$$

$$\begin{array}{r} 102 \\ - 76 \\ \hline \end{array}$$

$$\begin{array}{r} 75 \\ - 55 \\ \hline \end{array}$$

$$\begin{array}{r} 147 \\ - 48 \\ \hline \end{array}$$



73

52

26

99

27

80

20

15

81

60



$$\begin{array}{r} 80 \\ - 28 \\ \hline \end{array}$$

$$\begin{array}{r} 41 \\ - 26 \\ \hline \end{array}$$

$$\begin{array}{r} 156 \\ - 76 \\ \hline \end{array}$$

$$\begin{array}{r} 48 \\ - 21 \\ \hline \end{array}$$

$$\begin{array}{r} 104 \\ - 44 \\ \hline \end{array}$$