


Proporciones de Imágenes de Otoño (C)


Nombre: _____

Fecha: _____


Determine cada proporción y simplifique si es necesario.




$\text{hoja} : \text{árbol} =$
 $\text{árbol} : \text{hoja} =$



$\text{árbol} : \text{hoja} =$
 $\text{hoja} : \text{árbol} =$



$\text{hoja} : \text{árbol} =$
 $\text{árbol} : \text{hoja} =$




$\text{avellana} : \text{hoja} =$
 $\text{hoja} : \text{avellana} =$

Proporciones de Imágenes de Otoño (C) Respuestas

Nombre: _____


Fecha: _____

Determine cada proporción y simplifique si es necesario.



$$\text{branch} : \text{tree} = 16 : 23$$

$$\text{tree} : \text{branch} = 23 : 16$$




$$\text{tree} : \text{leaf} = 15 : 7$$

$$\text{leaf} : \text{tree} = 7 : 15$$



$$\text{maple leaf} : \text{oak leaf} = 18 : 22 = 9 : 11$$

$$\text{oak leaf} : \text{maple leaf} = 22 : 18 = 11 : 9$$



$$\text{acorn} : \text{leaf} = 8 : 20 = 2 : 5$$

$$\text{leaf} : \text{acorn} = 20 : 8 = 5 : 2$$