


# Proporciones de Imágenes de Otoño (D)

Nombre: \_\_\_\_\_


Fecha: \_\_\_\_\_

Determine cada proporción y simplifique si es necesario.




$$\text{árbol} : \text{castaña} =$$

$$\text{castaña} : \text{árbol} =$$




$$\text{hoja} : \text{árbol} =$$

$$\text{árbol} : \text{hoja} =$$



$$\text{hoja verde} : \text{hoja naranja} =$$

$$\text{hoja naranja} : \text{hoja verde} =$$



$$\text{hoja naranja} : \text{hoja amarilla} =$$


$$\text{hoja amarilla} : \text{hoja naranja} =$$

# Proporciones de Imágenes de Otoño (D) Respuestas

Nombre: \_\_\_\_\_


Fecha: \_\_\_\_\_

Determine cada proporción y simplifique si es necesario.



$$\text{árbol} : \text{castaña} = 16 : 21$$

$$\text{castaña} : \text{árbol} = 21 : 16$$




$$\text{hoja} : \text{árbol} = 11 : 9$$

$$\text{árbol} : \text{hoja} = 9 : 11$$



$$\text{hoja verde} : \text{hoja naranja} = 14 : 9$$

$$\text{hoja naranja} : \text{hoja verde} = 9 : 14$$



$$\text{hoja naranja} : \text{hoja amarilla} = 16 : 16 = 1 : 1$$

$$\text{hoja amarilla} : \text{hoja naranja} = 16 : 16 = 1 : 1$$