

Proporciones de Imágenes de Otoño (F)

Nombre: _____

Fecha: _____

Determine cada proporción y simplifique si es necesario.



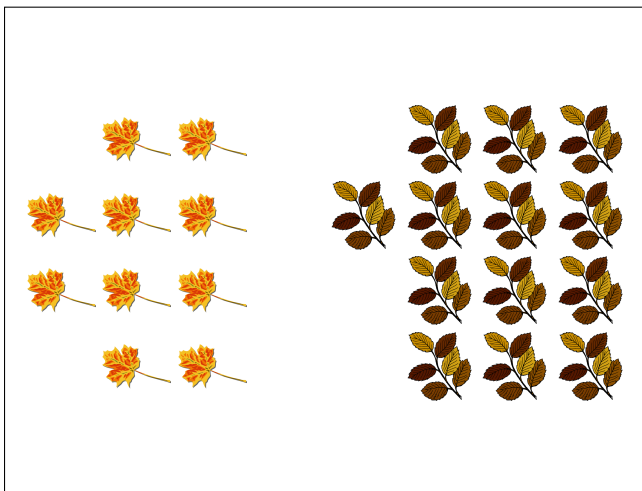
$$\text{leaf} : \text{tree} =$$

$$\text{tree} : \text{leaf} =$$




$$\text{orange leaf} : \text{yellow leaf} =$$

$$\text{yellow leaf} : \text{orange leaf} =$$



$$\text{yellow leaf} : \text{brown leaf} =$$

$$\text{brown leaf} : \text{yellow leaf} =$$



$$\text{yellow tree} : \text{acorn} =$$

$$\text{acorn} : \text{yellow tree} =$$

Proporciones de Imágenes de Otoño (F) Respuestas

Nombre: _____


Fecha: _____

Determine cada proporción y simplifique si es necesario.



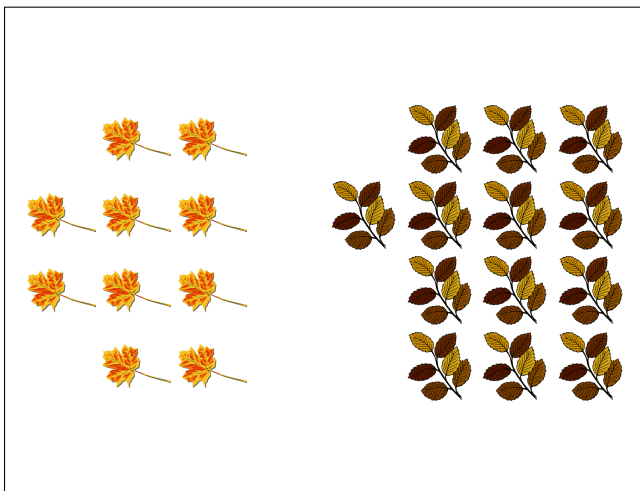
$$\text{🍂} : \text{🌳} = 16 : 16 = 1 : 1$$

$$\text{🌳} : \text{🍂} = 16 : 16 = 1 : 1$$




$$\text{🍂} : \text{🍂} = 13 : 14$$

$$\text{🍂} : \text{🍂} = 14 : 13$$



$$\text{🍂} : \text{🍂} = 10 : 13$$

$$\text{🍂} : \text{🍂} = 13 : 10$$



$$\text{🌳} : \text{🌰} = 11 : 17$$

$$\text{🌰} : \text{🌳} = 17 : 11$$