


# Proporciones de Imágenes de Otoño (C)

Nombre: \_\_\_\_\_


Fecha: \_\_\_\_\_

Determine cada proporción y simplifique si es necesario.



$$\text{Tree} : \text{Leaf} =$$

$$\text{Leaf} : \text{Tree} =$$




$$\text{Acorn} : \text{Leaf} =$$

$$\text{Leaf} : \text{Acorn} =$$



$$\text{Leaf} : \text{Tree} =$$

$$\text{Tree} : \text{Leaf} =$$



$$\text{Branch} : \text{Leaf} =$$


$$\text{Leaf} : \text{Branch} =$$

# Proporciones de Imágenes de Otoño (C) Respuestas

Nombre: \_\_\_\_\_

Fecha: \_\_\_\_\_

Determine cada proporción y simplifique si es necesario.



$$\text{árbol} : \text{hoja} = 18 : 13$$

$$\text{hoja} : \text{árbol} = 13 : 18$$




$$\text{bellota} : \text{hoja} = 19 : 13$$

$$\text{hoja} : \text{bellota} = 13 : 19$$



$$\text{hoja} : \text{grupo de hojas} = 12 : 7$$

$$\text{grupo de hojas} : \text{hoja} = 7 : 12$$



$$\text{grupo de hojas} : \text{hoja} = 19 : 15$$

$$\text{hoja} : \text{grupo de hojas} = 15 : 19$$