



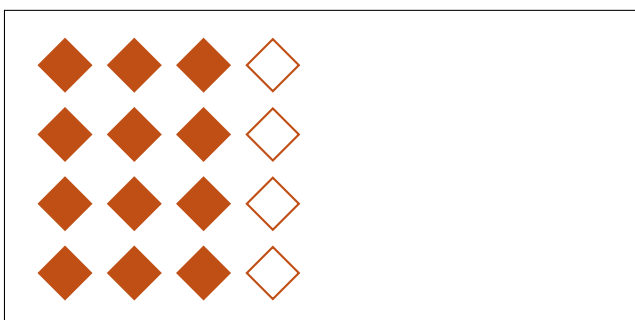


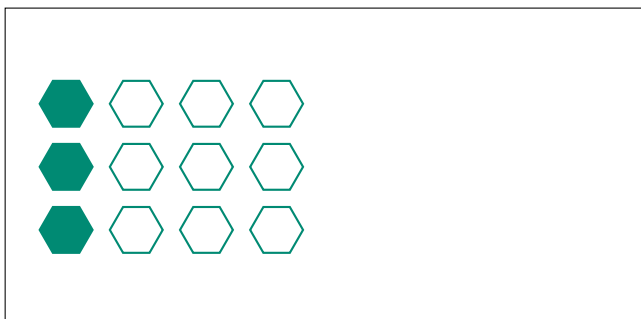

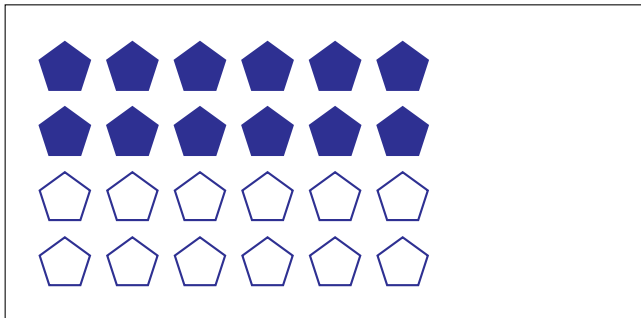
Partes de Un Grupo (H)




En este grupo
hay 9 formas y
6 están rellenas.

$$\frac{6 \text{ formas rellenas}}{9 \text{ formas en el grupo}} = \frac{6}{9} = \frac{2}{3}$$

Escriba una fracción para cada uno de los modelos siguientes.



Partes de Un Grupo (H) Respuestas



En este grupo
hay 9 formas y
6 están rellenas.

$$\frac{6 \text{ formas rellenas}}{9 \text{ formas en el grupo}} = \frac{6}{9} = \frac{2}{3}$$

Escriba una fracción para cada uno de los modelos siguientes.

$$\frac{12}{24} = \frac{1}{2}$$

$$\frac{5}{15} = \frac{1}{3}$$

$$\frac{3}{12} = \frac{1}{4}$$

$$\frac{6}{8} = \frac{3}{4}$$

$$\frac{16}{24} = \frac{2}{3}$$

$$\frac{12}{16} = \frac{3}{4}$$

$$\frac{6}{18} = \frac{1}{3}$$

$$\frac{4}{16} = \frac{1}{4}$$