

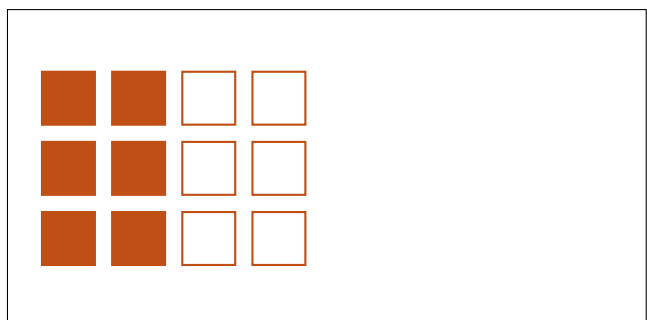

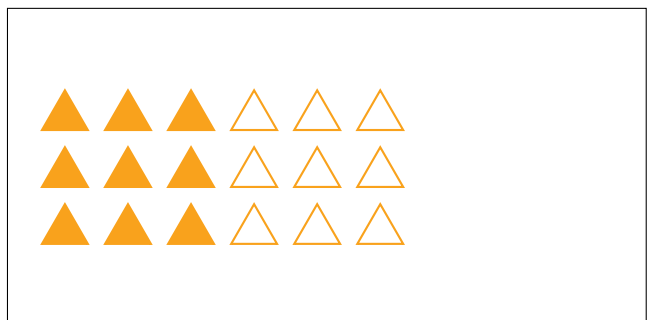

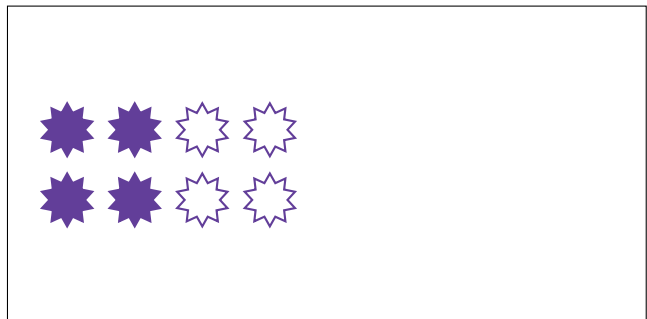
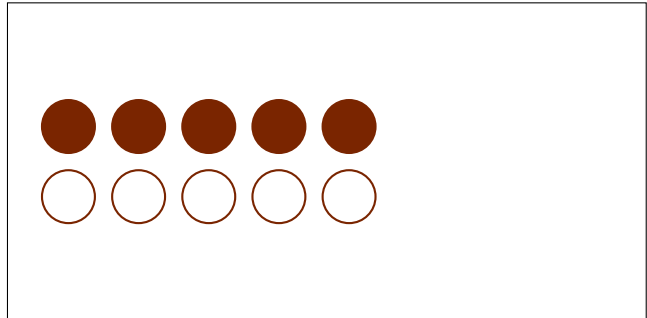
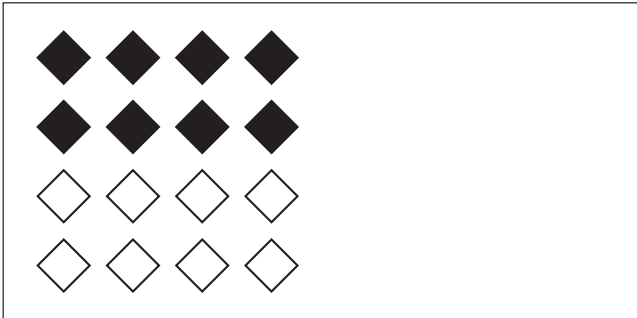
Partes de Un Grupo (C)



En este grupo
hay 4 formas y
2 están rellenas.

$$\frac{2 \text{ formas rellenas}}{4 \text{ formas en el grupo}} = \frac{2}{4} = \frac{1}{2}$$

Escriba una fracción para cada uno de los modelos siguientes.



Partes de Un Grupo (C) Respuestas



En este grupo
hay 4 formas y
2 están rellenas.

$$\frac{2 \text{ formas rellenas}}{4 \text{ formas en el grupo}} = \frac{2}{4} = \frac{1}{2}$$

Escriba una fracción para cada uno de los modelos siguientes.

$$\frac{8}{16} = \frac{1}{2}$$

$$\frac{5}{10} = \frac{1}{2}$$

$$\frac{3}{6} = \frac{1}{2}$$

$$\frac{4}{8} = \frac{1}{2}$$

$$\frac{12}{24} = \frac{1}{2}$$

$$\frac{9}{18} = \frac{1}{2}$$

$$\frac{10}{20} = \frac{1}{2}$$

$$\frac{6}{12} = \frac{1}{2}$$