




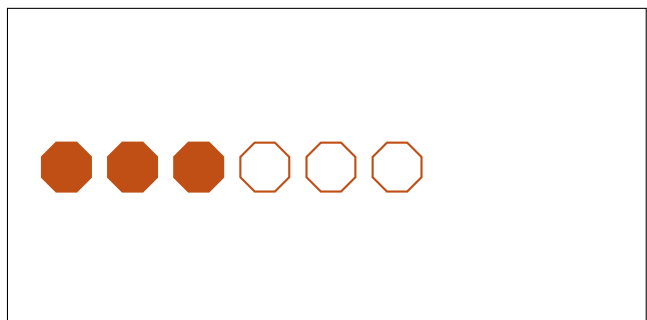

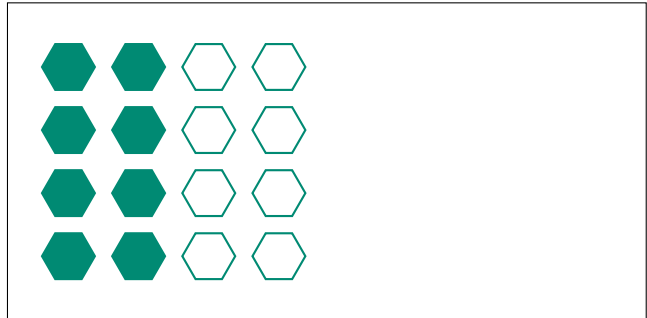

# Partes de Un Grupo (F)




En este grupo  
hay 8 formas y  
4 están rellenas.

$$\frac{4 \text{ formas rellenas}}{8 \text{ formas en el grupo}} = \frac{4}{8} = \frac{1}{2}$$

Escriba una fracción para cada uno de los modelos siguientes.



# Partes de Un Grupo (F) Respuestas



En este grupo hay 8 formas y 4 están rellenas.

$$\frac{4 \text{ formas rellenas}}{8 \text{ formas en el grupo}} = \frac{4}{8} = \frac{1}{2}$$

Escriba una fracción para cada uno de los modelos siguientes.

$$\frac{9}{18} = \frac{1}{2}$$

$$\frac{8}{16} = \frac{1}{2}$$

$$\frac{2}{4} = \frac{1}{2}$$

$$\frac{10}{20} = \frac{1}{2}$$

$$\frac{5}{10} = \frac{1}{2}$$

$$\frac{3}{6} = \frac{1}{2}$$

$$\frac{12}{24} = \frac{1}{2}$$

$$\frac{1}{2}$$