


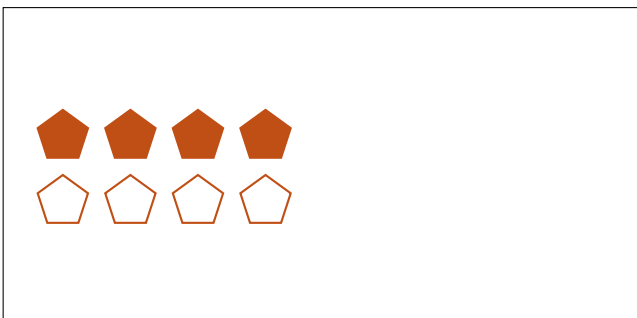


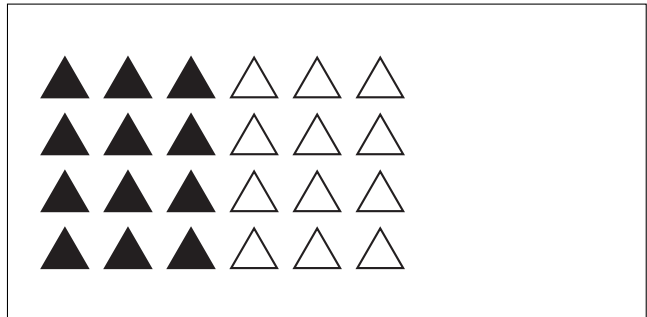

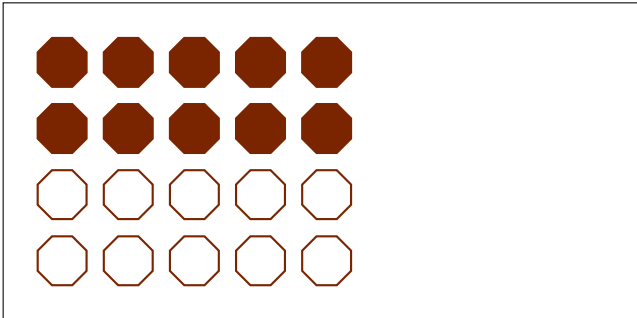
Partes de Un Grupo (J)



En este grupo
hay 2 formas y
1 está rellena.

$$\frac{1 \text{ forma rellena}}{2 \text{ formas en el grupo}} = \frac{1}{2}$$

Escriba una fracción para cada uno de los modelos siguientes.



Partes de Un Grupo (J) Respuestas



En este grupo
hay 2 formas y
1 está rellena.

$$\frac{1 \text{ forma rellena}}{2 \text{ formas en el grupo}} = \frac{1}{2}$$

Escriba una fracción para cada uno de los modelos siguientes.

$$\frac{10}{20} = \frac{1}{2}$$

$$\frac{8}{16} = \frac{1}{2}$$

$$\frac{2}{4} = \frac{1}{2}$$

$$\frac{12}{24} = \frac{1}{2}$$

$$\frac{6}{12} = \frac{1}{2}$$

$$\frac{5}{10} = \frac{1}{2}$$

$$\frac{4}{8} = \frac{1}{2}$$

$$\frac{3}{6} = \frac{1}{2}$$