


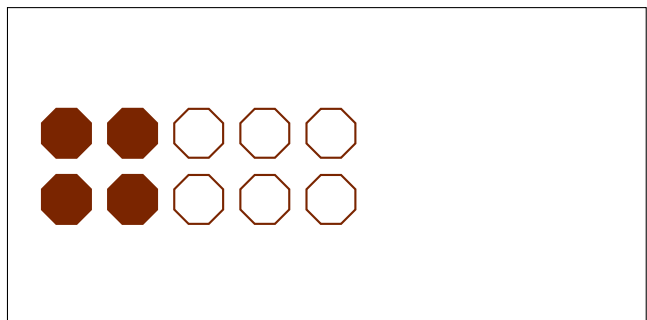
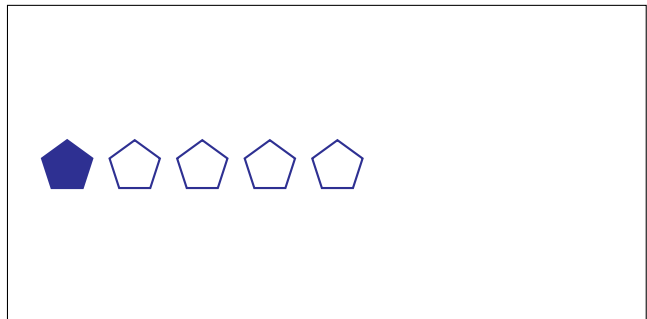

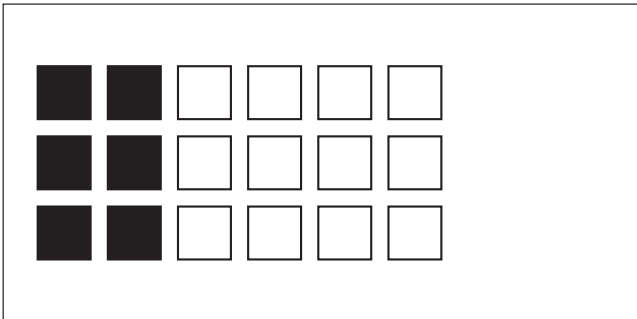


Partes de Un Grupo (C)




En este grupo
hay 15 formas y
6 están rellenas.

$$\frac{6 \text{ formas rellenas}}{15 \text{ formas en el grupo}} = \frac{6}{15} = \frac{2}{5}$$

Escriba una fracción para cada uno de los modelos siguientes.




Partes de Un Grupo (C) Respuestas



En este grupo
hay 15 formas y
6 están rellenas.

$$\frac{6 \text{ formas rellenas}}{15 \text{ formas en el grupo}} = \frac{6}{15} = \frac{2}{5}$$

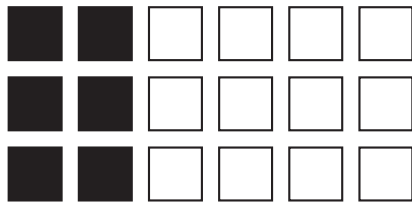
Escriba una fracción para cada uno de los modelos siguientes.



$$\frac{9}{18} = \frac{1}{2}$$



$$\frac{3}{5}$$



$$\frac{6}{18} = \frac{1}{3}$$



$$\frac{3}{4}$$



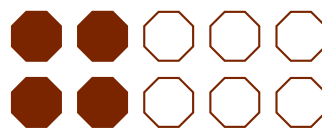
$$\frac{2}{3}$$



$$\frac{1}{5}$$



$$\frac{8}{10} = \frac{4}{5}$$



$$\frac{4}{10} = \frac{2}{5}$$