





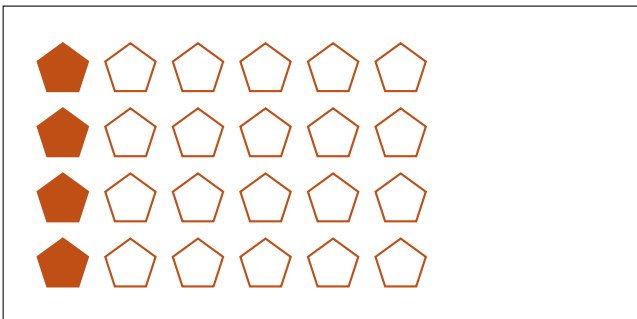

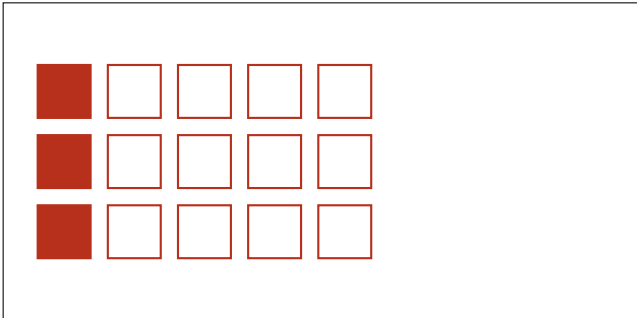
Partes de Un Grupo (D)



En este grupo
hay 6 formas y
2 están rellenas.

$$\frac{2 \text{ formas rellenas}}{6 \text{ formas en el grupo}} = \frac{2}{6} = \frac{1}{3}$$

Escriba una fracción para cada uno de los modelos siguientes.



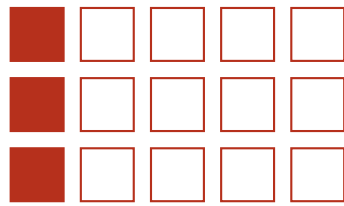
Partes de Un Grupo (D) Respuestas



En este grupo
hay 6 formas y
2 están rellenas.

$$\frac{2 \text{ formas rellenas}}{6 \text{ formas en el grupo}} = \frac{2}{6} = \frac{1}{3}$$

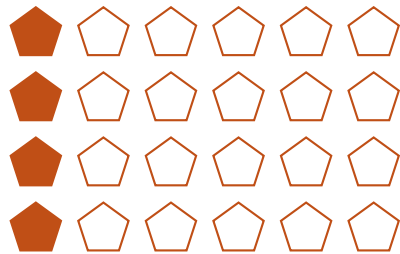
Escriba una fracción para cada uno de los modelos siguientes.



$$\frac{3}{15} = \frac{1}{5}$$




$$\frac{4}{5}$$



$$\frac{4}{24} = \frac{1}{6}$$



$$\frac{1}{3}$$



$$\frac{10}{15} = \frac{2}{3}$$



$$\frac{1}{2}$$



$$\frac{3}{4}$$



$$\frac{10}{12} = \frac{5}{6}$$